

ÉCOLE DES PONTS PARISTECH
SUPAERO (ISAE), ENSTA PARISTECH,
TELECOM PARISTECH, MINES PARISTECH,
MINES DE SAINT-ÉTIENNE, MINES DE NANCY,
TÉLÉCOM BRETAGNE, ENSAE PARISTECH (FILIÈRE MP)
ÉCOLE POLYTECHNIQUE (FILIÈRE TSI)

CONCOURS D'ADMISSION 2011
SECONDE ÉPREUVE DE PHYSIQUE

Filière MP

(Durée de l'épreuve: 3 heures)

L'usage de la calculatrice est autorisé

Sujet mis à disposition des concours : Cycle international, ENSTIM, TELECOM INT, TPE-EIVP

Les candidats sont priés de mentionner de façon apparente sur la première page de la copie :

PHYSIQUE II — MP.

L'énoncé de cette épreuve comporte 5 pages.

- Si, au cours de l'épreuve, un candidat repère ce qui lui semble être une erreur d'énoncé, il est invité à le signaler sur sa copie et à poursuivre sa composition en expliquant les raisons des initiatives qu'il aura été amené à prendre.
- Il ne faudra pas hésiter à formuler les commentaires (incluant des considérations numériques) qui vous sembleront pertinents, même lorsque l'énoncé ne le demande pas explicitement. Le barème tiendra compte de ces initiatives ainsi que des qualités de rédaction de la copie.

À PROPOS DE CONDUCTION ÉLECTRIQUE

Ce problème étudie deux situations de conduction électrique en présence, entre autres, de champs magnétiques : dans un *solide semi-conducteur* (partie I) et dans un *fluide conducteur* (partie II). Ces deux parties sont complètement indépendantes ; dans chacune de ces deux parties, de nombreuses questions peuvent aussi être abordées de manière indépendante, sous réserve éventuellement d'admettre certains résultats fournis par l'énoncé.

Les vecteurs sont notés en caractères gras : \mathbf{r} , \mathbf{j} . Les vecteurs \mathbf{e}_x , \mathbf{e}_z , etc. . . désignent les vecteurs unitaires selon les axes Ox , Oz , etc. . . Un certain nombre de formules d'analyse vectorielle sont rappelées en fin d'énoncé.

I. — Conduction dans un solide semi-conducteur

Les mesures de conductivité et d'effet Hall jouent un rôle important dans l'étude théorique des milieux semi-conducteurs. Ces mesures sont en général menées sur des échantillons plans dont l'épaisseur constante ε est faible devant les autres longueurs intervenant dans le problème. Le matériau considéré est un conducteur de conductivité γ , comportant des porteurs de charge mobiles de charge q en densité particulière (nombre de particules par unité de volume) n . On notera $\mathcal{R} = 1/nq$ la *constante de Hall* du matériau. L'ensemble de l'étude est menée en régime permanent. En l'absence de tout champ magnétique, la *loi d'Ohm* $\mathbf{j} = \gamma \mathbf{E}$ caractérise le matériau étudié.

I.A. — Mesure directe de la conductivité

Le courant électrique i est amené en un point A du matériau par un fil, perpendiculaire à la plaque, confondu avec l'axe (Az). Ce fil est relié au matériau par une électrode cylindrique de faible rayon. Ce courant électrique repart par un fil de même nature et fixé de la même manière au point D ; l'ensemble est représenté sur la figure 1.

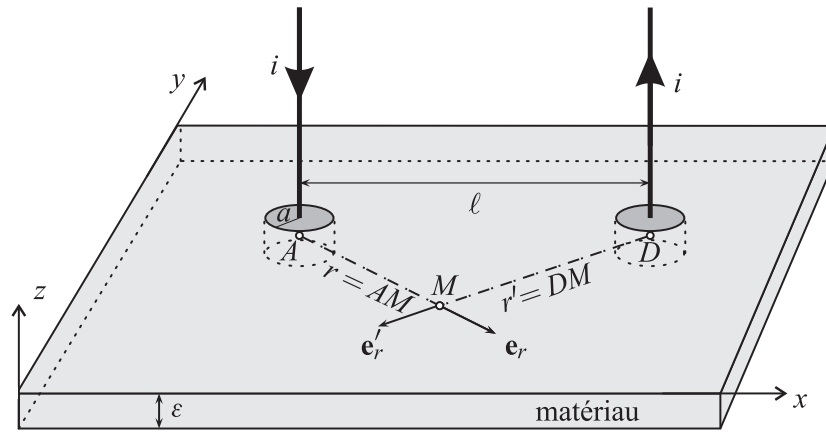


FIG. 1 – Mesure directe de résistance d’une plaque mince conductrice

❑ 1 — On considère tout d’abord une situation simplifiée, à symétrie cylindrique, dans laquelle on supprime le contact de départ en D . Le courant arrivant en A se répartit donc dans l’ensemble du matériau avec la symétrie de révolution d’axe (Az) : la densité volumique de courant \mathbf{j} en un point M s’y écrit $\mathbf{j}(M) = j(r)\mathbf{e}_r$, où r désigne la distance de M à l’axe (Az) et \mathbf{e}_r le vecteur unitaire radial de cet axe. Exprimer $j(r)$ en fonction de r , ε et i . On considère deux points M_1 et M_2 de la plaque et on note $r_1 = AM_1$ et $r_2 = AM_2$. Déterminer la différence de potentiel $V(M_1) - V(M_2)$ en fonction de i , ε , γ et du quotient r_2/r_1 .

❑ 2 — On remet en place le contact de départ du courant en D . En procédant par superposition de deux situations analogues à celle de la question 1, déterminer la nouvelle expression de $V(M_1) - V(M_2)$ en fonction de i , ε , γ , r_1 , r_2 , $r'_1 = DM_1$ et $r'_2 = DM_2$. Que vaut cette différence de potentiel si M_1 et M_2 sont sur la médiatrice du segment AD ? Commenter ce résultat.

❑ 3 — On note $\ell = AD$ et a le rayon des électrodes cylindriques de contact électrique en A et D ; ces électrodes sont formées d’un matériau métallique très bon conducteur électrique et sont donc considérées comme équipotentielles, de potentiels respectifs V_A et V_D . Montrer que si $\ell/a \gg 1$ la résistance électrique de la plaque s’écrit sous la forme $R \simeq R_0 \ln(\ell/a)$, où l’on exprimera R_0 en fonction de γ et ε .

❑ 4 — *Application numérique* : l’épaisseur de la plaque de semi-conducteur est $\varepsilon = 1,0$ mm. On réalise le dispositif de la figure 1 avec $\ell = 2$ cm et $a = 0,5$ mm. La conductivité du matériau (silicium dopé) est $\gamma = 2,2 \times 10^4$ S·m⁻¹. Calculer R , commenter la valeur numérique ; la mesure de R est-elle facile ?

Pour limiter les erreurs dans les mesures de tension on utilise la géométrie de van der Pauw qui élimine l’influence du diamètre des électrodes. Sur la figure 2, les électrodes A et D sont utilisées pour l’arrivée et le départ du courant, et les électrodes P et Q pour la mesure de différence de potentiel $u = V(P) - V(Q)$. On définit enfin la résistance parallèle $R_{//} = u/i$.

❑ 5 — Déterminer $R_{//}$ en fonction de γ et ε .

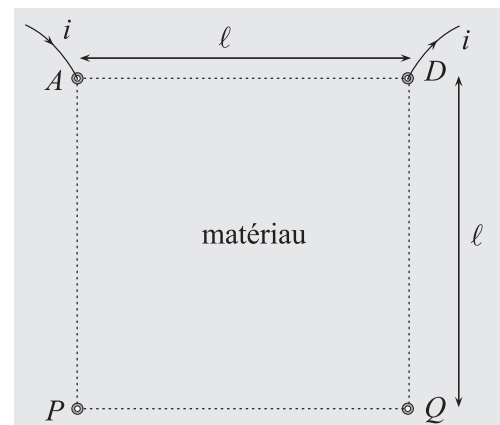


FIG. 2 – Géométrie de van der Pauw : les points A , P , Q et D forment dans cet ordre un carré.

I.B. — Effet Hall

La plaque infinie de la figure 1 est maintenant soumise au champ magnétostatique uniforme $\mathbf{B} = B\mathbf{e}_z$, perpendiculaire à la plaque. Celle-ci étant très mince, le vecteur \mathbf{j} reste contenu dans le plan formé par la plaque, on a donc $j_z = \mathbf{j} \cdot \mathbf{e}_z = 0$ et les deux autres composantes de \mathbf{j} qui ne dépendent que de r et θ . On peut ainsi écrire $\mathbf{j} = j_r(r, \theta)\mathbf{e}_r + j_\theta(r, \theta)\mathbf{e}_\theta$. Dans le cadre du modèle de Drude, on considère que les porteurs mobiles de charge q , de masse m et de vitesse \mathbf{v} associés au courant \mathbf{j} sont soumis à une force de frottement visqueux de la forme $\mathbf{F} = -f\mathbf{v}$. Certains aspects de cette force seront développés dans la partie II.

❑ 6 — En l'absence de tout champ magnétique, écrire l'équation du mouvement d'un porteur de charge associé au courant \mathbf{j} . Montrer alors qu'en régime permanent, il existe une relation linéaire entre \mathbf{j} et \mathbf{E} . Comment s'appelle le coefficient de proportionnalité ?

❑ 7 — En présence du champ magnétique \mathbf{B} que devient l'équation du mouvement ? Par analogie avec la question précédente déterminer, en régime permanent, la relation entre \mathbf{j} , \mathbf{E} et \mathbf{B} mettant en jeu la conductivité γ et la constante de Hall \mathcal{R} .

On cherche à montrer que la présence du champ magnétique \mathbf{B} ne modifie pas, compte tenu des conditions aux limites, l'allure des lignes de courant et en particulier que la plaque reste localement neutre, c'est-à-dire que la densité volumique de charge ρ est partout nulle.

❑ 8 — Déterminer en régime permanent la valeur de $\text{div } \mathbf{j}$.

❑ 9 — Déterminer, toujours en régime permanent, l'expression de $\text{rot}(\mathbf{j} \wedge \mathbf{B})$.

❑ 10 — En utilisant les résultats des questions 7, 8 et 9 ainsi que deux équations de Maxwell montrer qu'en régime permanent la plaque reste en tout point localement neutre.

On considère maintenant la géométrie de la figure 3, on mesure la différence de potentiel $u = V(P) - V(Q)$ et on définit dans cette géométrie la résistance $R_\perp = u/i$.

❑ 11 — Exprimer la différence de potentiel $u = V(P) - V(Q)$ en fonction de \mathbf{E} , puis de $E_y = \mathbf{E} \cdot \mathbf{e}_y$. En déduire l'expression de la résistance R_\perp en fonction de \mathcal{R} , B et ε .

❑ 12 — À quoi peut servir dans la pratique une telle mesure de résistance ?

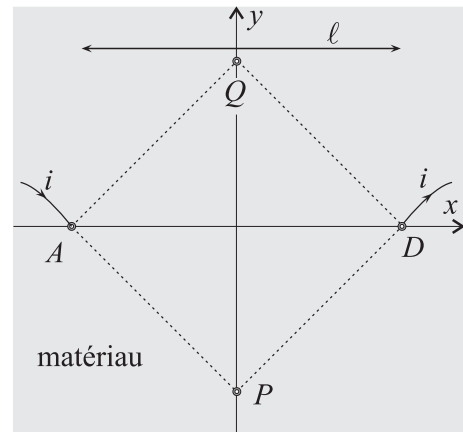


FIG. 3 – Géométrie de van der Pauw : les points A , P , D et Q forment dans cet ordre un carré.

FIN DE LA PARTIE I

II. — Conduction dans un plasma à basse fréquence

Le plasma étudié ici est un fluide formé de deux types de particules : des électrons, de masse m_e et de charge $q_e = -e$, en densité particulaire (nombre de particules par unité de volume) uniforme n_0 et des ions, de masse m_p et de charge $q_p = +e$, en même densité n_0 . L'ensemble est soumis au champ électromagnétique \mathbf{E}, \mathbf{B} en régime variable ; on notera, dans le référentiel d'étude, \mathbf{v}_e et \mathbf{v}_p les vitesses des électrons et des ions en un point donné du plasma. La densité volumique de courant résultant des mouvements des particules est notée \mathbf{j} . Le plasma étant partout localement neutre, on aura $\text{div } \mathbf{j} = 0$.

II.A. — Courant électrique dans le plasma

❑ 13 — Dans quelles conditions peut-on faire l'approximation $\text{rot } \mathbf{B} = \mu_0 \mathbf{j}$? Quel est le nom de cette approximation ? On conservera cette approximation dans toute la suite.

II.B. — Vitesses, courant et forces

- 14 — Proposer un minorant (numérique) du rapport m_p/m_e .
- 15 — Quelle est la signification physique de la grandeur \mathbf{V} définie par $(m_p + m_e)\mathbf{V} = m_p\mathbf{v}_p + m_e\mathbf{v}_e$? Exprimer les vitesses \mathbf{v}_p et \mathbf{v}_e en fonction de \mathbf{V} , de la densité volumique de courant \mathbf{j} et de n_0 et e ; simplifier ces expressions compte tenu du fait que $m_p \gg m_e$. On conservera cette approximation dans toute la suite.

On considère un élément de volume $d\vartheta$ du plasma dans lequel se trouve $dN = n_0 d\vartheta$ ions et autant d'électrons ; on cherche à exprimer les forces $d\mathbf{F}_p$ et $d\mathbf{F}_e$ respectivement exercées sur ces ions et ces électrons, en négligeant toute force de pression. Les particules ne sont donc soumises qu'aux forces électromagnétiques et aux effets des collisions. Compte-tenu du rapport de masse l'effet des collisions est modélisé uniquement par une force \mathbf{f}_v exercée par unité de volume par les ions sur les électrons.

- 16 — Exprimer $d\mathbf{F}_e$ en fonction de $d\vartheta$, n_0 , e , \mathbf{E} , \mathbf{B} , \mathbf{j} , \mathbf{V} et \mathbf{f}_v .
- 17 — Exprimer $d\mathbf{F}_p$ en fonction des mêmes grandeurs. En déduire l'expression de $d\mathbf{F} = d\mathbf{F}_p + d\mathbf{F}_e$, force totale subie par l'élément de volume $d\vartheta$ du plasma. Quel est le nom de cette force ?

II.C. — Modèle collisionnel pour le plasma

Pour décrire la force exercée par les ions sur les électrons, on considère une interaction de deux particules de masses m_p et m_e qui, à l'instant initial, se dirigent l'une vers l'autre avec les vitesses $\mathbf{v}_p = v_p \mathbf{e}_x$ et $\mathbf{v}_e = -v_e \mathbf{e}_x$ ($v_p > 0$ et $v_e > 0$) ; le système est considéré comme isolé et on néglige l'énergie potentielle d'interaction dans l'état initial, les deux particules étant supposées très éloignées l'une de l'autre (cf. fig. 4). Au cours de l'interaction de ces particules, que l'on n'étudiera pas en détail, les vitesses restent toutes colinéaires à l'axe (Ox). Au bout d'une durée suffisante, l'interaction est terminée ; les vitesses restent dès lors constamment égales à $\mathbf{v}'_p = -w_p \mathbf{e}_x$ et $\mathbf{v}'_e = w_e \mathbf{e}_x$, avec $w_p > 0$ et $w_e > 0$ si les deux particules repartent, après l'interaction, en sens inverse de leur mouvement initial.




FIG. 4 – Interaction de deux particules formant un système isolé

- 18 — En appliquant deux lois de la mécanique au système des deux particules, déduire deux équations reliant w_p , w_e , v_p , v_e , m_p et m_e . En déduire la relation $v_p + v_e = w_p + w_e$.
- 19 — En utilisant les diverses expressions obtenues, montrer que $m_e(\mathbf{v}'_e - \mathbf{v}_e) = -\alpha\mu(\mathbf{v}_e - \mathbf{v}_p)$, où $\mu = m_e m_p / (m_e + m_p)$ est la masse réduite du système à deux corps formé par les ions et les électrons. Le facteur numérique α que l'on déterminera dans cette expression est lié au modèle géométrique très simple adopté ici : vitesses des particules colinéaires pendant toute l'interaction. Dans un modèle plus complet, on obtiendrait un autre facteur de l'ordre de $\alpha/2$.
- 20 — On revient maintenant au modèle des deux fluides d'électrons et d'ions ; on rappelle que \mathbf{f}_v désigne la force exercée par unité de volume par les ions sur les électrons du fait des collisions. On note τ la durée moyenne d'une collision. Justifier, qualitativement, l'expression

$$\mathbf{f}_v = -\frac{n_0 m_e}{\tau} (\mathbf{v}_e - \mathbf{v}_p)$$

- 21 — Pour les mouvements à suffisamment basse fréquence, on peut négliger l'accélération des électrons dans le plasma. Déduire des questions 16 et 20 la forme généralisée de la loi d'Ohm dans un tel plasma,

$$\mathbf{j} = \gamma \left[\mathbf{E} + \mathbf{V} \wedge \mathbf{B} - \frac{1}{n_0 e} \mathbf{j} \wedge \mathbf{B} \right]$$

où on exprimera γ en fonction de n_0 , e , τ et m_e .

II.D. — Ondes magnétohydrodynamiques dans un plasma

Le couplage entre le mouvement des particules chargées dans un fluide et le champ électromagnétique régnant dans ce dernier peut, dans certaines conditions, aboutir à la propagation d'ondes dites magnétohydrodynamiques. De telles ondes ont été étudiées pour la première fois par le physicien suédois Hannes Alfvén en 1942, elles sont fondamentales pour l'étude des plasmas astrophysiques tels que ceux qui entourent les étoiles. Pour cette découverte et les découvertes conséquentes, Alfvén obtint le prix Nobel en 1970.

Le plasma étudié ici sera considéré comme très bon conducteur ($n_0 \rightarrow \infty$ donc $\gamma \rightarrow \infty$) de sorte qu'on peut y écrire (cf. question 21) $\mathbf{E} = -\mathbf{V} \wedge \mathbf{B}$. Dans ce contexte, l'équation simplifiée de la dynamique dans une unité de volume du plasma s'écrit

$$\rho_m \frac{\partial \mathbf{V}}{\partial t} = \mathbf{j} \wedge \mathbf{B} \quad \text{avec } \rho_m = n_0 m_p$$

On étudie un mode particulier d'oscillations du plasma dans lequel $\mathbf{B} = B_0 \mathbf{e}_z + \mathbf{b}(z, t)$, où B_0 est un champ statique intense et $\mathbf{b}(z, t)$ une onde de faible amplitude, $\|\mathbf{b}\| \ll B_0$, qu'on décrira en notation complexe comme une onde plane progressive et monochromatique, $\mathbf{b} = \mathbf{b}_0 \exp[i(\omega t - kz)]$ où $\iota^2 = -1$ et $\omega > 0$

□ 22 — Montrer que $\mathbf{b}_0 \cdot \mathbf{e}_z = 0$. Exprimer, en notation complexe, la densité volumique de courant \mathbf{j} en fonction de \mathbf{b} , k et de la perméabilité du vide μ_0 .

□ 23 — En se limitant aux termes du premier ordre en \mathbf{b}_0 , montrer que la vitesse d'ensemble \mathbf{V} du plasma est aussi une onde plane, $\mathbf{V} = \mathbf{V}_0 \exp[i(\omega t - kz)]$ où $\mathbf{V}_0 = -\frac{B_0 k}{\omega \mu_0 n_0 m_p} \mathbf{b}_0$.

□ 24 — En écrivant l'équation de Maxwell-Faraday montrer que les ondes étudiées se propagent sans dispersion à la célérité c_A (vitesse d'Alfvén) que l'on exprimera en fonction de B_0 , μ_0 et de la masse volumique ρ_m du plasma. Vérifier l'homogénéité de la relation donnant c_A .

□ 25 — Le plasma étudié est du mercure liquide ($\rho_m = 1,4 \times 10^4 \text{ kg} \cdot \text{m}^{-3}$) dans un champ magnétique $B_0 = 0,5 \text{ T}$. On rappelle que $\mu_0 = 4\pi \times 10^{-7} \text{ H} \cdot \text{m}^{-1}$; calculer c_A ; commenter.

FIN DE LA PARTIE II

Petit formulaire d'analyse vectorielle

$$(\mathbf{u} \wedge \mathbf{v}) \wedge \mathbf{w} = (\mathbf{u} \cdot \mathbf{w})\mathbf{v} - (\mathbf{v} \cdot \mathbf{w})\mathbf{u}$$

$$\text{rot}(\mathbf{u} \wedge \mathbf{v}) = \mathbf{u} \text{div}(\mathbf{v}) - (\mathbf{u} \cdot \text{grad})\mathbf{v} - \mathbf{v} \text{div}(\mathbf{u}) + (\mathbf{v} \cdot \text{grad})\mathbf{u}$$

$$\text{div}(\mathbf{u} \wedge \mathbf{v}) = \mathbf{v} \cdot \text{rot}(\mathbf{u}) - \mathbf{u} \cdot \text{rot}(\mathbf{v})$$

En coordonnées cylindriques dans la base locale $(\mathbf{e}_r, \mathbf{e}_\theta, \mathbf{e}_z)$, pour un champ scalaire f et pour un vecteur $\mathbf{u} = u_r \mathbf{e}_r + u_\theta \mathbf{e}_\theta + u_z \mathbf{e}_z$ on indique les relations suivantes :

$$\text{grad}(f) = \frac{\partial f}{\partial r} \mathbf{e}_r + \frac{1}{r} \frac{\partial f}{\partial \theta} \mathbf{e}_\theta + \frac{\partial f}{\partial z} \mathbf{e}_z \quad \text{div}(\mathbf{u}) = \frac{1}{r} \left[\frac{\partial}{\partial r} (ru_r) + \frac{\partial u_\theta}{\partial \theta} \right] + \frac{\partial u_z}{\partial z}$$

$$\text{rot}(\mathbf{u}) = \left[\frac{1}{r} \frac{\partial u_z}{\partial \theta} - \frac{\partial u_\theta}{\partial z} \right] \mathbf{e}_r + \left[\frac{\partial u_r}{\partial z} - \frac{\partial u_z}{\partial r} \right] \mathbf{e}_\theta + \frac{1}{r} \left[\frac{\partial}{\partial r} (ru_\theta) - \frac{\partial u_r}{\partial \theta} \right] \mathbf{e}_z$$

$$\mathbf{u} \cdot \text{grad} = u_r \frac{\partial}{\partial r} + \frac{u_\theta}{r} \frac{\partial}{\partial \theta} + u_z \frac{\partial}{\partial z}$$

FIN DE L'ÉPREUVE