

EXERCICE B : Qualité des eaux souterraines sur le littoral

Mots clés de l'EXERCICE B : dissolution, concentration en masse, titrage conductimétrique.

Les eaux souterraines du littoral contenues dans les nappes phréatiques sont essentielles tant pour les activités humaines que pour l'environnement, mais les intrusions d'eau de mer dans ces nappes peuvent engendrer des pollutions irréversibles. Ce risque d'intrusion saline augmente en raison d'une exploitation excessive par pompage des eaux souterraines afin de faire face à une population qui ne cesse d'augmenter sur le littoral.

Ainsi, une surveillance de la qualité des eaux souterraines sur la bordure du littoral est nécessaire afin d'éviter ce risque d'intrusion d'eau saline dans la nappe phréatique.

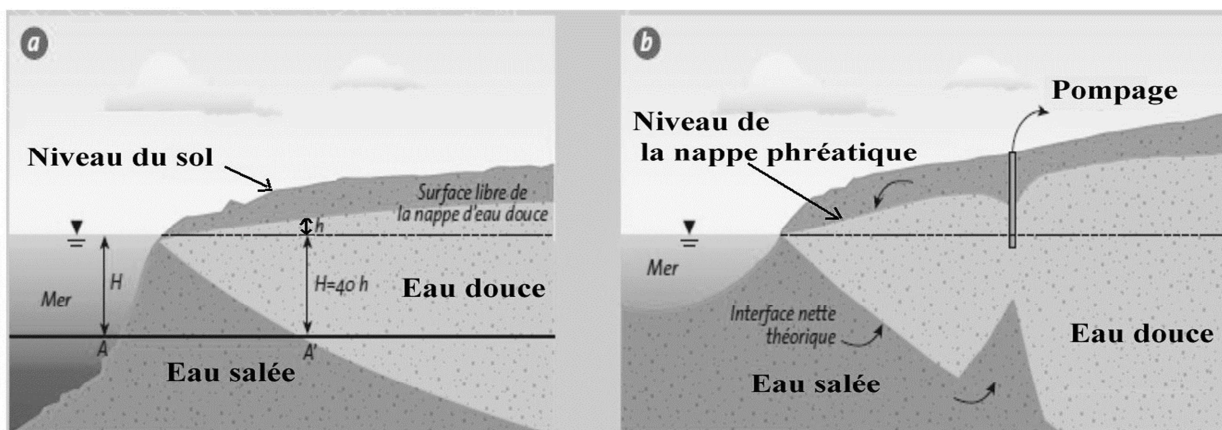


Figure 1 : Lors de l'exploitation d'un forage dans une nappe phréatique côtière, un cône de rabattement se forme au niveau de la surface de la nappe, qui modifie l'interface entre l'eau douce et l'eau salée. Source : d'après <https://library.ensh.dz>.

L'objectif de cet exercice est de déterminer la concentration en masse en ion chlorure d'un prélèvement d'eau afin de prévenir une éventuelle intrusion d'eau marine dans la nappe souterraine.

A. L'eau salée de la mer Méditerranée

Des classes de concentrations peuvent être définies en fonction des teneurs en ions chlorure :

Concentration en masse d'ions chlorure ($\text{mg} \cdot \text{L}^{-1}$)	Inférieure à 50	Entre 50 et 200	Entre 200 et 500	Supérieure à 500
Observations	Absence de contamination	Concentration dite « naturelle », l'eau est potable	L'eau ne peut pas être utilisée pour la production d'eau potable. Sauf cas exceptionnel, de telles concentrations ne sont pas naturelles.	Importante contamination de l'ouvrage par les chlorures

A.1. Citer la valeur de la concentration minimale en masse c_m en ion chlorure $\text{Cl}^-_{(\text{aq})}$ à partir de laquelle on peut considérer que l'eau souterraine est contaminée par une intrusion d'eau de mer la rendant non potable.

A.2.

Données :

Masses molaires atomiques (en $\text{g} \cdot \text{mol}^{-1}$)

Cl^-	Na^+	Mg^{2+}
35,5	23,0	24,3

Nous allons, dans un premier temps, déterminer la concentration en masse en ion chlorure de l'eau de la mer Méditerranée. La présence des ions chlorure Cl^- est principalement due à la dissolution du chlorure de sodium $\text{NaCl}_{(s)}$ dans l'eau mais le chlorure de magnésium participe aussi à la salinité de l'eau de mer.

L'équation de la réaction modélisant la dissolution du chlorure de magnésium $\text{MgCl}_{2(s)}$ dans l'eau est : $\text{MgCl}_{2(s)} \rightarrow \text{Mg}_{(aq)}^{2+} + 2 \text{Cl}_{(aq)}^-$.

A.2.1. Sachant que la concentration en quantité de matière de chlorure de magnésium $\text{MgCl}_{2(s)}$ dans l'eau de mer vaut $c = 4,0 \times 10^{-2} \text{ mol} \cdot \text{L}^{-1}$, déterminer la concentration en quantité de matière en ions chlorure $\text{Cl}_{(aq)}^-$ apportés par $\text{MgCl}_{2(s)}$, notée $[\text{Cl}_{(aq)}^-]$.

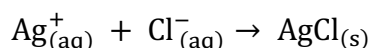
A.2.2. La concentration en masse en ions chlorure $\text{Cl}_{(aq)}^-$ apportés par le chlorure de sodium $\text{NaCl}_{(s)}$ dans l'eau a pour valeur $c_m = 16,5 \text{ g} \cdot \text{L}^{-1}$. Déterminer alors la concentration totale en masse en ions chlorure dans la mer Méditerranée.

B. Titrage des ions chlorure de l'eau douce des eaux souterraines

La concentration en masse en ions chlorure de l'eau douce qui se trouve proche de la zone de pompage doit être surveillée. Pour cela, un prélèvement d'eau de 50,0 mL est effectué au niveau du pompage.

On titre ensuite les ions chlorure de cette solution d'eau par une solution de nitrate d'argent ($\text{Ag}_{(aq)}^+ + \text{NO}_3^-_{(aq)}$) de concentration en quantité de matière $1,00 \times 10^{-2} \text{ mol} \cdot \text{L}^{-1}$.

Le titrage est suivi par conductimétrie. L'équation de la réaction support du titrage est :



Données :

Conductivités molaires ioniques à 25°C ($\text{S} \cdot \text{m}^2 \cdot \text{mol}^{-1}$)

$\lambda_{\text{Cl}_{(aq)}^-}$	$\lambda_{\text{Ag}_{(aq)}^+}$	$\lambda_{\text{NO}_3^-_{(aq)}}$
$76,3 \times 10^{-4}$	$71,4 \times 10^{-4}$	$61,9 \times 10^{-4}$

B.1. Identifier, parmi les trois courbes I, II et III proposées sur le graphique de la **figure 2** page suivante, celle qui représente l'évolution simulée de la conductivité σ du mélange en fonction du volume V de solution de nitrate d'argent versé. Justifier votre réponse.

B.2. Le volume versé à l'équivalence est $V_{eq} = 13,0 \text{ mL}$. En déduire si l'eau du prélèvement peut être utilisée pour l'alimentation en eau potable.

Le candidat est invité à prendre des initiatives et à présenter la démarche suivie même si elle n'a pas abouti. La démarche est évaluée et nécessite d'être correctement présentée.

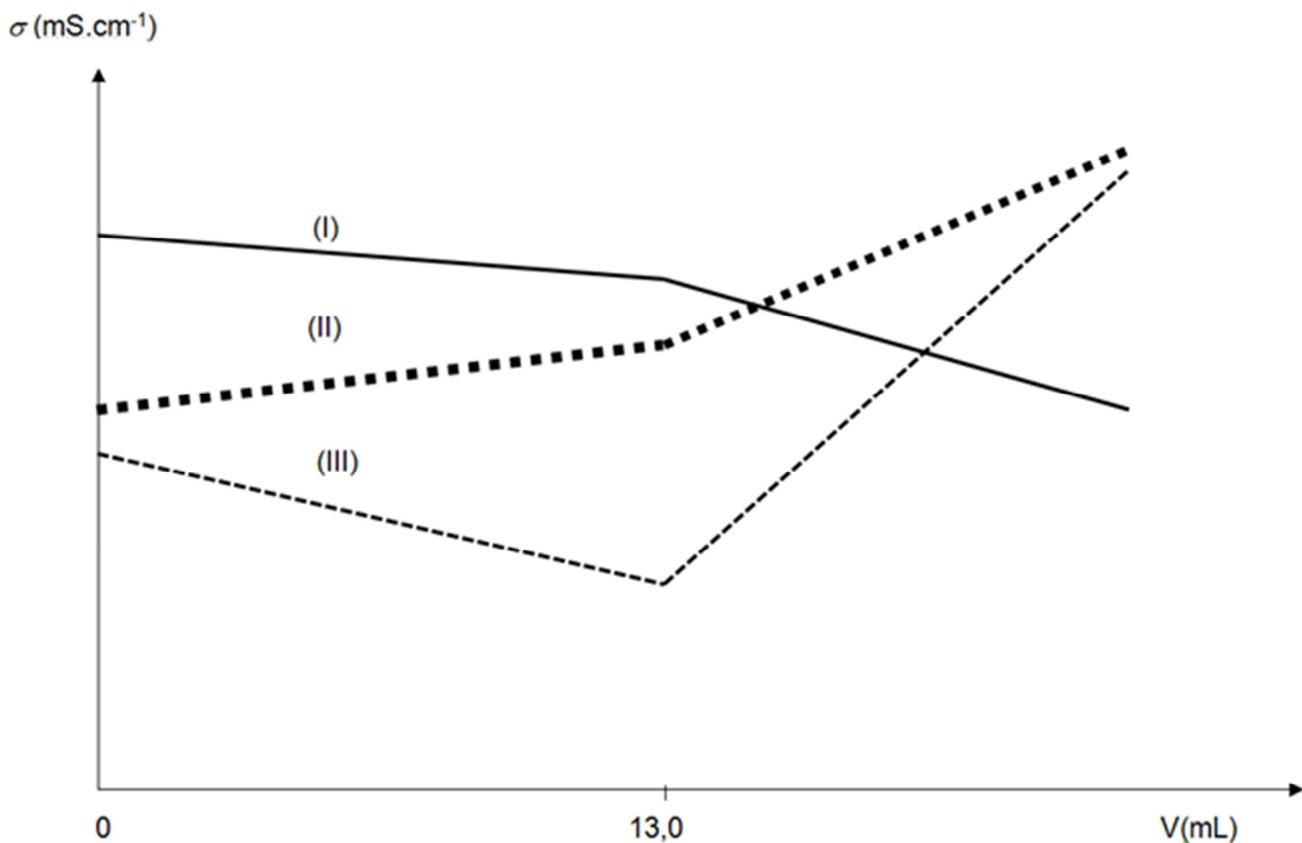


Figure 2 : Évolution simulée de la conductivité σ du mélange en fonction du volume V de solution de nitrate d'argent versé

C. Modélisation d'un titrage

Ce titrage peut être modélisé en utilisant le langage de programmation Python (extrait en **figure 3**). L'objectif est de visualiser l'évolution des quantités de matière des ions $\text{Ag}_{(\text{aq})}^+$, des ions $\text{Cl}_{(\text{aq})}^-$ et du produit $\text{AgCl}_{(\text{s})}$ au cours du titrage (**figure 4**).

C.1. Les quantités de matière n_A , n_B et n_C , mentionnées et calculées aux lignes 21, 22, 23, 28, 29 et 30 du programme Python (**figure 3**), sont représentées sur la **figure 4**. Grâce à cette dernière et avec justification, identifier les espèces chimiques A, B et C.

C.2. Compléter la ligne 15 du programme python de la **figure 3** afin qu'il calcule la concentration en quantité de matière en ions chlorure.

```

1 import numpy as np
2 import matplotlib.pyplot as plt
3
4 # Définition des quantités de matière de A, B et C
5 nA=[]
6 nB=[]
7 nC=[]
8
9 # Conditions expérimentales
10 cB = 0.01 # Saisie de la concentration de la solution titrante (mol/L)
11 VA = 50 # Saisie du volume initial de solution titrée (mL)
12 Veq = 13 # Saisie du volume équivalent (mL)
13
14 # Calcul de la concentration en quantité de matière en ions chlorure
15 cA = ?
16 print("Concentration en quantité de matière en ions chlorure = ",cA, " mol/L")
17
18 # Calcul des quantités de matière en mmol avant et à l'équivalence
19 # en fonction du volume V de solution titrante versé
20 def avant_Eqv(V):
21     nA.append(cA*VA - cB*V)
22     nB.append(0)
23     nC.append(cB*V)
24
25 # Calcul des quantités de matière en mmol après l'équivalence
26 # en fonction du volume V de solution titrante versé
27 def apres_Eqv(V):
28     nA.append(0)
29     nB.append(cB*V-cA*vA)
30     nC.append(cA*VA)

```

Figure 3 : Extrait du programme écrit en langage Python

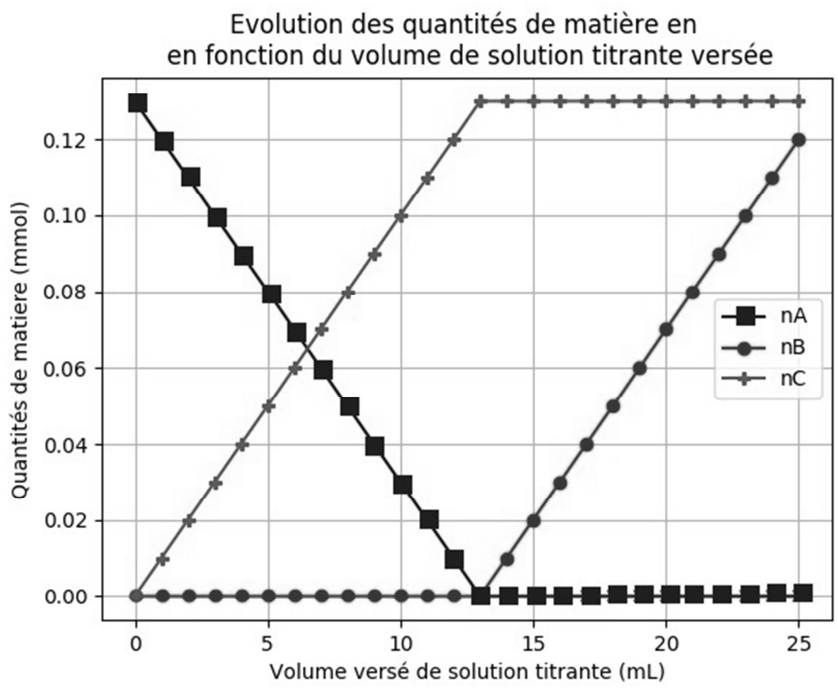


Figure 4 : Évolutions des quantités de matière des ions $Ag^+_{(aq)}$, des ions $Cl^-_{(aq)}$ et du produit $AgCl_{(s)}$ au cours du titrage obtenues à l'aide du programme écrit en langage Python