

EXERCICE 1 commun à tous les candidats (10 points)

PARKER SOLAR PROBE

Le 12 août 2018, la NASA, l'agence spatiale américaine, a lancé en direction du Soleil une sonde spatiale, *PSP* (*Parker Solar Probe*), dont la mission est d'étudier la couronne solaire.

La sonde *PSP* doit relever de nombreux défis, notamment :

- atteindre une orbite permettant d'approcher le Soleil de très près ;
- protéger les instruments de mesure des rayonnements intenses.

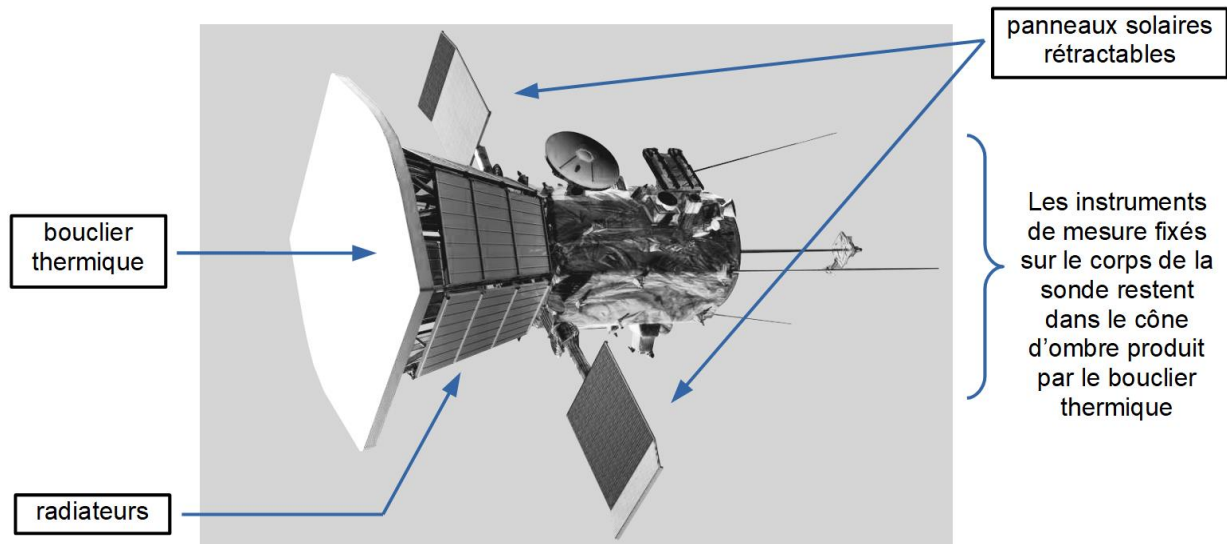


figure 1 - Sonde *PSP* (*Parker Solar Probe*) Source : *blogs.nasa.gov*

Partie 1 - Les caractéristiques orbitales de la sonde

Depuis son lancement le 12 août 2018, la sonde *PSP* subit des modifications successives de son orbite autour du Soleil du fait de l'assistance gravitationnelle de la planète Vénus. Elle rejoint ainsi progressivement son orbite optimale qui lui permettra de passer au plus près du Soleil début 2025. La sonde effectuera alors quatre passages au périhélie P et pourra enregistrer un maximum de données expérimentales (**figure 2 ci-dessous et figure 7 en annexe p. 16/16**).

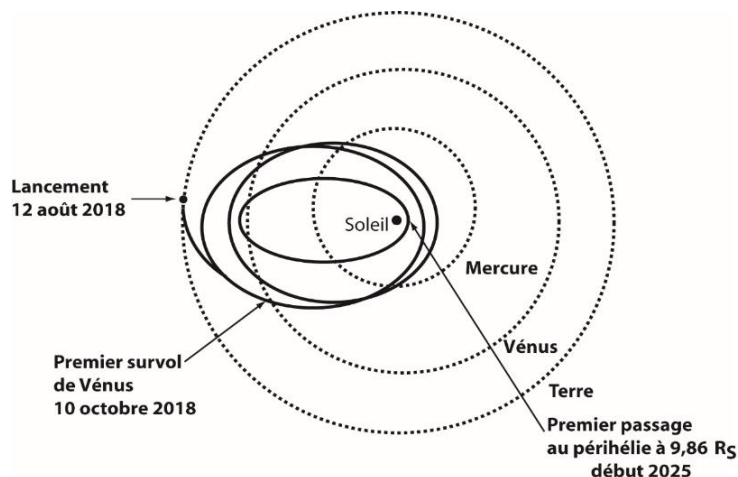


figure 2 – Parcours de la sonde *PSP* Source : *blogs.nasa.gov*

Données :

- Masse du Soleil $M_S = 2,0 \times 10^{30}$ kg
- Constante gravitationnelle $G = 6,67 \times 10^{-11}$ m³ · kg⁻¹ · s⁻²

1. Sur la **figure 7 EN ANNEXE À RENDRE AVEC LA COPIE** page 16 / 16, on a représenté l'orbite elliptique que la sonde *PSP* décrira autour du Soleil en 2025. Les points A et P sont respectivement l'aphélie et le périhélie. Le point S représente le centre du Soleil.

1.1. Représenter sur la **figure 7 EN ANNEXE À RENDRE AVEC LA COPIE** page 16 / 16 et sans souci d'échelle, la force d'attraction gravitationnelle, notée $\vec{F}_{S \rightarrow PSP}$, modélisant l'action exercée par le Soleil sur la sonde *PSP* lorsqu'elle est au point M.

1.2. En utilisant la 2^{ème} loi de Kepler, comparer la valeur v_P de la vitesse de la sonde au point P à la valeur v_A de la vitesse de la sonde au point A.

2. La NASA prévoit que la valeur v_P de la vitesse de la sonde au point P sera de 192 km · s⁻¹ avec une incertitude-type de l'ordre de 5 km · s⁻¹.

On souhaite savoir si cette valeur de la vitesse a été déterminée à l'aide du modèle du mouvement circulaire pour la sonde *PSP* sur son orbite autour du soleil ou si un autre modèle a été utilisé.

On se propose donc de déterminer la valeur v de la vitesse de la sonde *PSP* en supposant que son mouvement est circulaire, de rayon $r = SP = 6,9 \times 10^6$ km, afin de la comparer à celle prévue par la NASA (**figure 3**). Le référentiel héliocentrique est considéré comme galiléen.

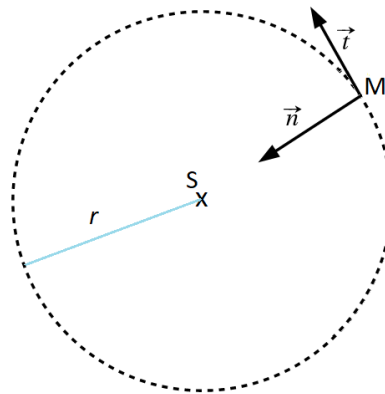


figure 3 – Modèle du mouvement circulaire de la sonde *PSP* et repère de Frenet

2.1. À l'aide de la 2^e loi de Newton, montrer que, dans le cas d'une trajectoire circulaire, la vitesse v de la sonde *PSP* est constante et a pour expression :

$$v = \sqrt{\frac{G \times M_S}{r}}$$

avec M_S la masse du Soleil et r le rayon de la trajectoire circulaire.

2.2. Calculer la valeur v de la vitesse de la sonde *PSP* dans le cadre de ce modèle.

2.3. Apporter une conclusion à la problématique posée dans cette question 2.

La 3^{ème} loi de Kepler lie le demi-grand axe orbital et la période de révolution des systèmes (planète, sonde) en orbite autour du Soleil. On peut ainsi déterminer la période de révolution de la sonde *PSP* autour du Soleil à partir de la mesure du demi-grand axe de sa trajectoire elliptique.

3. En utilisant la 3^{ème} loi de Kepler et après analyse du programme Python figurant ci-après et de ses résultats, déterminer la période de révolution *T* de la sonde *PSP* autour du Soleil.

Caractéristiques des orbites des planètes et de la sonde *PSP* autour du soleil

Planète	Mercure	Vénus	Terre	Mars	Jupiter	Saturne	Uranus	Neptune	Sonde <i>PSP</i>
Demi-grand axe orbital ($\times 10^3$ km)	57909,23	108209,5	149597,8875	227944	778340	1426700	2870700	4498400	$a = 58210$
Période de révolution (j) (jour)	87,95565	224,667	365,2564	686,885	4332,01	10754	30698	60216,8	T

Le programme Python ci-dessous a été écrit à partir des caractéristiques des orbites des planètes.

```

1 import numpy as np
2 import statsmodels.api as sm
3
4 # Périodes T (en j)
5 T = np.array([ 87.95565, 224.667, 365.256363, 686.885, 4332.01,
6 10754, 30698, 60216.8 ])
7
8 # Demi-grands axes a (en km)
9 a = np.array([ 57909230, 108209500, 149597887.5, 227944000,
10 778340000, 1426700000, 2870700000, 4498400000 ])
11
12 # sm.OLS(y, x) définit un modèle linéaire de la forme y = kx
13 model = sm.OLS(T**2, a**3)
14
15 # model.fit() calcule le coefficient k
16 results = model.fit()
17
18 print("--- Résultats de la modélisation ---\n")
19
20 # Affiche la valeur du coefficient k
21 print(" k=", results.params[0], (" j**2 * km**-3"))

```

Affichage des résultats du programme à l'écran :

```

--- Résultats de la modélisation ---

k= 3.983462498345611e-20 j**2 * km**-3

```

Remarque : la notation e-20 signifie 10^{-20} .

Partie 2 - Les panneaux photovoltaïques

Durant la mission, les panneaux photovoltaïques de la sonde *PSP* servent à fournir l'énergie électrique nécessaire au fonctionnement des instruments de mesure embarqués. Ils permettent d'obtenir une puissance électrique utile $P_{el} = 340 \text{ W}$.

En 2025, au plus près du Soleil, ils devront être refroidis. Une puissance thermique P_{th} devra alors être évacuée grâce à de l'eau sous pression circulant entre les panneaux photovoltaïques et des radiateurs (**figure 4**). Lorsque le bouclier sera parfaitement orienté vers le Soleil, la puissance thermique à évacuer P_{th} sera 13 fois supérieure à la puissance électrique utile ; une erreur d'inclinaison du bouclier thermique de 1° entrainera une puissance thermique supplémentaire à dissiper de 35%.

Dans les questions suivantes, on se place dans le cas critique d'une erreur de 1° d'inclinaison du bouclier thermique.

Données :

- Masse volumique de l'eau liquide dans les conditions de pression et de température de la sonde *PSP* : $\rho_{eau} = 0,958 \text{ kg} \cdot \text{L}^{-1}$.
- Durée du passage à proximité du Soleil : $\Delta t = 110 \text{ h}$
- Pression de l'eau dans le circuit : 5 bar
- Température d'ébullition de l'eau sous 5,0 bar : $T_{éb} = 150^\circ\text{C}$
- Capacité thermique massique de l'eau : $C_{eau} = 4185 \text{ J} \cdot \text{K}^{-1} \cdot \text{kg}^{-1}$

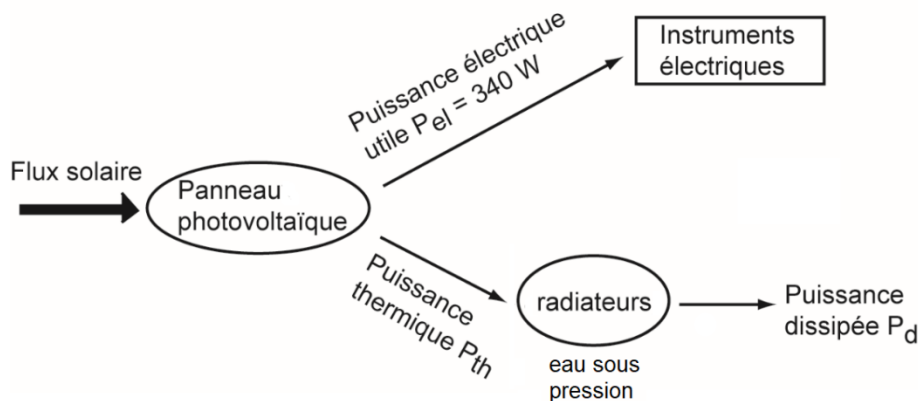


figure 4 – Diagramme énergétique de l'alimentation électrique de la sonde *PSP*

4. Sachant que les radiateurs peuvent dissiper une puissance maximale $P_{d,max} = 6000 \text{ W}$, montrer que ces radiateurs peuvent effectivement dissiper la puissance thermique cédée par les panneaux photovoltaïques à l'eau sous pression.

Pendant la durée Δt du passage à proximité du Soleil, l'équivalent d'un volume d'eau $V_{eau} = 7570 \text{ L}$ va circuler pour refroidir les panneaux solaires. La température de ce volume d'eau va passer de la valeur $T_{min} = 50^\circ\text{C}$ à une valeur maximale T_{max} que l'on cherche à déterminer.

On considère ici que la puissance thermique reçue par ce volume d'eau est $P_{th,max} = 6000 \text{ W}$.

5. Donner l'expression de l'énergie thermique Q_R reçue par l'eau en fonction de $P_{th,max}$ et Δt .
6. En supposant que l'élévation de température du volume total d'eau est uniquement due aux panneaux solaires, déterminer la température T_{max} atteinte et déterminer si le système de refroidissement risque ou non l'explosion.

Le candidat est invité à prendre des initiatives et à exposer sa démarche même si elle n'est pas complètement aboutie.

Partie 3 - Le bouclier thermique

La sonde *PSP* est protégée des rayonnements solaires par un bouclier thermique de surface S_b et d'épaisseur e (**figures 1 et 5**). Constamment tourné vers le Soleil, ce bouclier thermique permet de garder l'ensemble du corps de la sonde à une température convenable pour ne pas endommager les instruments embarqués.

Le bouclier thermique est composé d'un revêtement externe à base d'alumine, capable d'endurer de hautes températures jusqu'à 1900 K. Derrière ce revêtement, se trouve de la mousse de carbone, prise entre deux couches rigides en fibre de carbone, très résistantes à la température et à la déformation (**figure 5**).

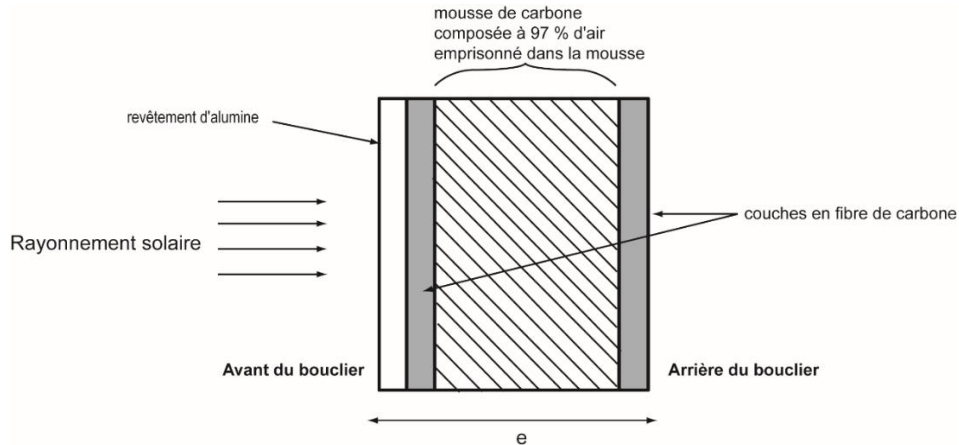


figure 5 – Schéma simplifié du bouclier thermique vu en coupe

Soumis à l'intense rayonnement du Soleil, la température à l'avant du bouclier atteint une valeur $T_{av} = 1700$ K et rayonne un flux thermique surfacique important φ_{av} . Par ailleurs, un flux thermique surfacique $\varphi_{ar} = 1,55$ kW · m⁻² traverse la surface S_b du bouclier vers l'arrière (**figure 6**). Pour permettre le bon fonctionnement de la sonde, il est impératif de limiter l'élévation de température à l'arrière du bouclier thermique en dépit de ce flux thermique surfacique élevé.

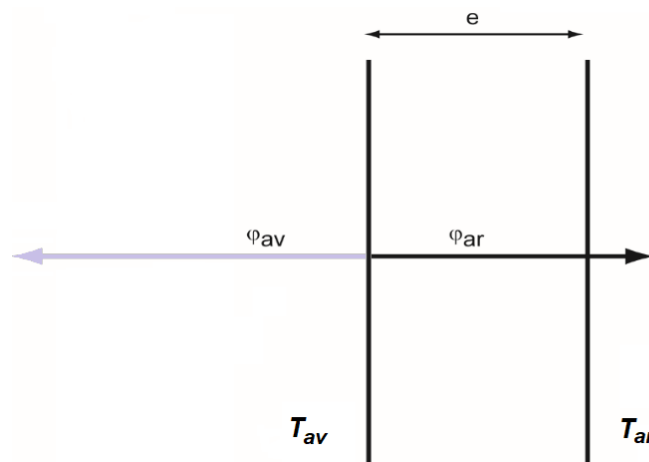


figure 6 – Flux thermiques au niveau du bouclier thermique

Données :

- Conductivités thermiques de quelques matériaux :

Matériau	Mousse de carbone	Alumine	Métaux	PVC
Conductivité thermique ($W \cdot m^{-1} \cdot K^{-1}$)	0,0262	37	20 à 400	0,17

- Caractéristiques du bouclier thermique :

- surface : $S_b = 16,6 \text{ m}^2$
- épaisseur : $e = 11,4 \text{ cm}$
- conductivité thermique du bouclier thermique : $\lambda = 0,140 \text{ W} \cdot \text{m}^{-1} \cdot \text{K}^{-1}$

- Résistance thermique R_{th} d'une paroi de surface S , d'épaisseur e et de conductivité thermique λ :

$$R_{th} = \frac{e}{\lambda \times S} \quad (\text{en } K \cdot W^{-1})$$

- Flux thermique Φ traversant une paroi de résistance thermique R_{th} et soumise à une différence de température $|\Delta T|$:

$$\Phi = \frac{|\Delta T|}{R_{th}}$$

7. Caractériser le mode de transfert thermique entre le Soleil et la sonde *PSP*.
8. Justifier l'utilisation de la mousse de carbone à l'intérieur du bouclier thermique.
9. Déterminer la valeur du flux thermique total vers l'arrière Φ .
10. À l'aide des caractéristiques du bouclier thermique et des données, déterminer l'écart de température $|\Delta T|$ entre les deux faces du bouclier thermique ainsi que la température T_{ar} à l'arrière du bouclier. Commenter

Le candidat est invité à prendre des initiatives et à exposer sa démarche même si elle n'est pas complètement aboutie.

ANNEXE DE L'EXERCICE I - À RENDRE AVEC LA COPIE

Question 1.

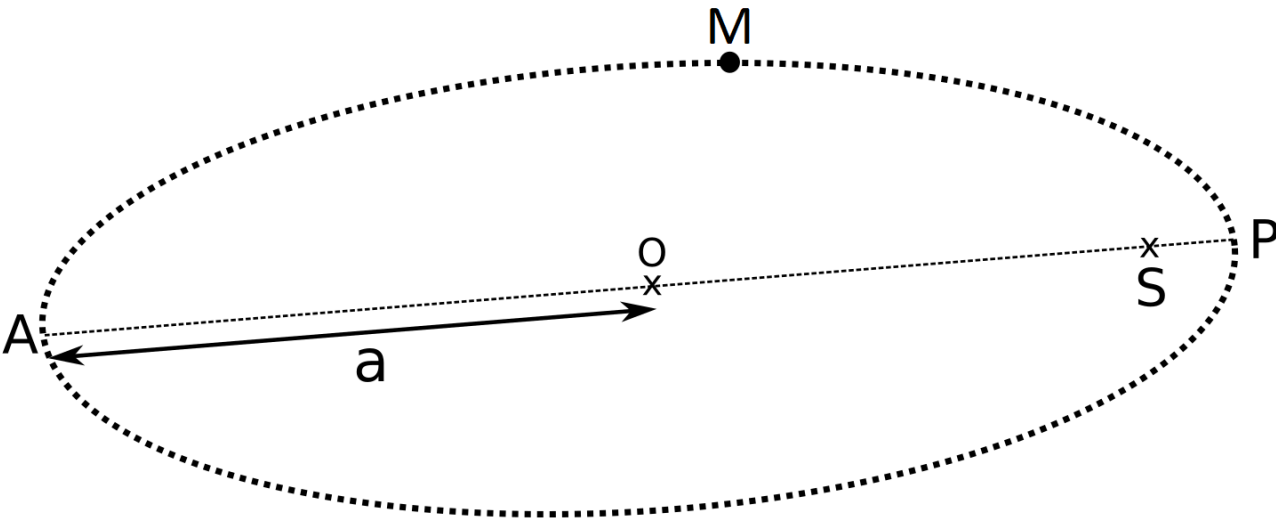


figure 7. Orbite elliptique de la sonde *PSP* en 2025