

**BACCALAURÉAT GÉNÉRAL**

**SESSION 2018**

**SCIENCES**

**Épreuve écrite anticipée de première**

**Séries L et ES**

Durée de l'épreuve : 1 h 30

Coefficient : 2

L'usage de la calculatrice n'est pas autorisé.


Dès que le sujet vous est remis, assurez-vous qu'il est complet.  
Ce sujet comporte 9 pages numérotées de 1/9 à 9/9.

**La page d'annexe (page 9) EST A RENDRE AVEC LA COPIE, même si elle n'a pas été complétée.**

Le candidat doit traiter les trois parties qui sont indépendantes les unes des autres.

**PARTIE 1 : THÈME « NOURRIR L'HUMANITÉ » (8 POINTS)**

**DU BOTRYTIS AUX VINS LIQUEUREUX**

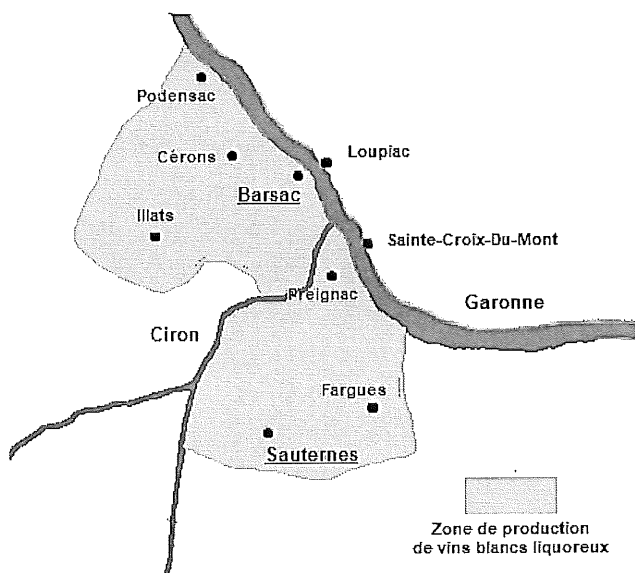


*Botrytis cinerea* est un champignon signalé dans la plupart des zones de production viticole du monde. Il est à l'origine de la « pourriture grise », maladie pouvant faire des dégâts considérables sur les grains de raisin à maturité.

Toutefois, dans certaines conditions, ce champignon se développe sous une forme particulière nommée « pourriture noble ». Cette dernière est à l'origine des grands vins blancs liquoreux français, notamment ceux du Sud-Ouest.

**On recherche les conditions favorables permettant la production de vins blancs liquoreux (vins dont la teneur en sucres est importante), dans les vignobles situés entre les communes de Sauternes et de Barsac.**

**Document 1 : Situation géographique du terroir et conditions météorologiques**



Le Ciron est une petite rivière qui prend sa source dans les Landes et se jette dans la Garonne. Sur plus de cent kilomètres, le Ciron serpente sous un couvert d'arbres à l'abri du soleil, où ses eaux se refroidissent. Lorsque ces eaux rencontrent celles de la Garonne, beaucoup plus chaudes, il se produit des phénomènes de condensation, qui favorisent en début d'automne la formation de brouillards matinaux, qui couvrent le vignoble. Dès la fin de matinée, le soleil dissipe les brouillards et une ventilation naturelle se met en place.

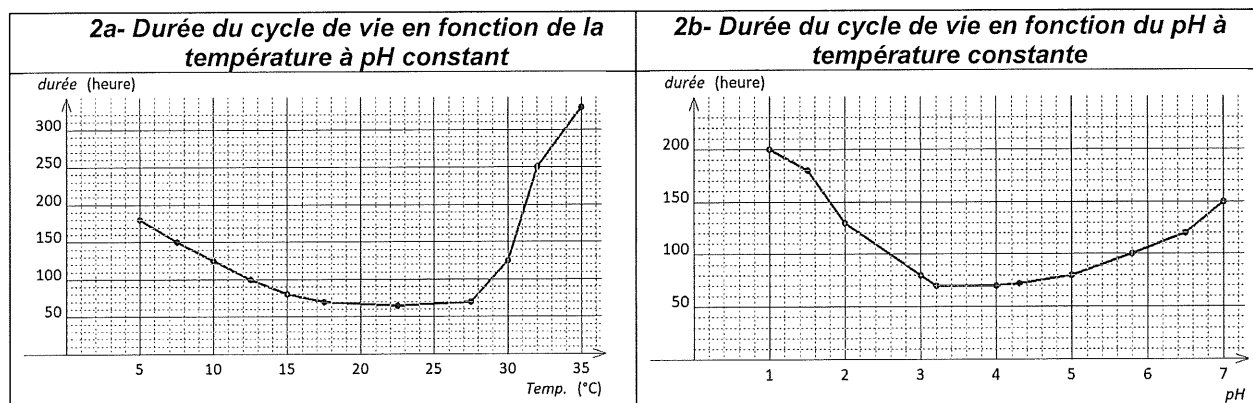
## Données météorologiques

	Janvier	Février	Mars	Avril	Mai	Juin	Juillet	Août	Septembre	Octobre	Novembre	Décembre
Température minimale en °C	2,8	3,4	4,6	6,6	10,3	13,0	15,1	15,2	12,5	9,5	5,5	3,8
Température maximale en °C	10,0	11,7	14,5	16,5	20,5	23,5	26,4	26,6	23,7	18,8	13,4	10,7
Pluviométrie en mm	92	83	70	80	84	64	55	60	90	94	107	107
Ensoleillement en h	107	114	180	177	222	225	243	243	183	134	91	72
Saisons en métropole												

D'après [www.meteo-express.com/climat-bordeaux.html](http://www.meteo-express.com/climat-bordeaux.html)

### Document 2 : Facteurs influençant la prolifération de *Botrytis cinerea*

Plus la durée du cycle de vie de *Botrytis cinerea* est courte, plus la prolifération de ce champignon est rapide.



D'après B. Doneche et B. Pucheu-Plante

- **relation entre l'humidité et le développement**

L'humidité est un facteur de développement de *Botrytis cinerea*. Si l'humidité est élevée et continue, le champignon sera à l'origine de la « pourriture grise ». En revanche, si le champignon manque d'eau en journée, son développement se fera sous la forme de « pourriture noble ».

**Document 3 : Caractéristiques et évolution des grains de raisin à la fin de l'été**

A maturité, à la fin de l'été, la pulpe est la partie la plus importante d'un grain de raisin. Elle est protégée du milieu extérieur par une enveloppe imperméable, la pellicule.

**Quelques caractéristiques du grain de raisin à la fin de l'été :**

	Pulpe	Pellicule
Eau	+++	<del>+++</del>
Sucres	+++	<del>+++</del>
Acides organiques	+++	<del>+++</del>
Matières minérales	++	<del>++</del>
Tanins	+++	+++
Matières colorantes	+++	+++
Cellulose-Pectine	+	++
pH	3,5	4,3

+ : présence faible    ++ : présence importante    +++ : présence très importante

La pellicule des grains de raisin mûrs, infectés par le champignon appelé *Botrytis cinerea*, est poreuse. Dans des conditions favorables, à la fin de l'été, cela permet à l'eau contenue dans les grains de s'évaporer, concentrant ainsi les autres espèces chimiques et leur conférant l'aspect desséché de la « pourriture noble ».

**Commentaire rédigé :**

**Expliquez en quoi les vignobles situés entre les communes de Sauternes et de Barsac présentent des conditions favorables à la production de vins blancs liquoreux.**

*Vous développerez votre argumentation en vous appuyant sur les documents et vos connaissances personnelles.*

## PARTIE 2 : THÈME « DÉFI ÉNERGÉTIQUE » (6 POINTS)

### LE RESEAU ELECTRIQUE DE L'ILE DE GRACIOSA



L'île de Graciosa est une île portugaise dans l'océan Atlantique à 1400 km de Lisbonne. L'électricité est produite sur l'île grâce à une centrale photovoltaïque d'une puissance maximale de 1 MW et d'un parc éolien d'une puissance maximale de 4,5 MW. À cet ensemble est associé un système de batteries, capable de stocker une énergie de 3,2 MWh. Ce système permet de gérer efficacement l'énergie électrique issue des panneaux photovoltaïques et des éoliennes sans l'injecter directement dans le réseau électrique local.

Les habitants de Graciosa consomment une énergie électrique de 13,5 GWh par an, ce qui correspond à une puissance électrique moyenne consommée de 1,5 MW. Actuellement, les deux tiers de cette énergie sont issus de ressources en énergies renouvelables.

***On cherche à savoir si le micro-réseau électrique de Graciosa peut rendre l'île énergétiquement indépendante.***

**À partir des connaissances et des informations fournies, répondre aux questions suivantes.**

#### **Question 1 :**

Indiquer deux problèmes liés à l'utilisation des ressources en énergies fossiles.

#### **Question 2 :**

Calculer l'énergie électrique, issue des ressources en énergies renouvelables, consommée sur l'île en une année.

**Question 3 :**

Discuter de l'intérêt de l'association d'une centrale photovoltaïque avec un parc éolien ainsi que des batteries.

**Question 4 :**

Compléter, sur l'annexe à rendre avec la copie, le schéma de la chaîne énergétique du réseau électrique de l'île, lorsque les batteries se chargent, en y plaçant les différentes formes d'énergie.

**Question 5 :**

Calculer la durée moyenne d'autonomie électrique de l'île lorsque les batteries sont entièrement chargées et qu'elles fournissent seules l'énergie électrique aux habitants.

**Question 6 :**

Proposer une évolution du réseau, respectueuse de l'environnement, pour accroître l'autonomie de l'île.

*Aide aux calculs :*

$$\frac{1,5}{3,2} = 0,47$$

$$2,1 \times 1,5 = 3,2$$

$$\frac{3,2}{2,3} = 1,4$$

$$\frac{3,2}{1,5} = 2,1$$

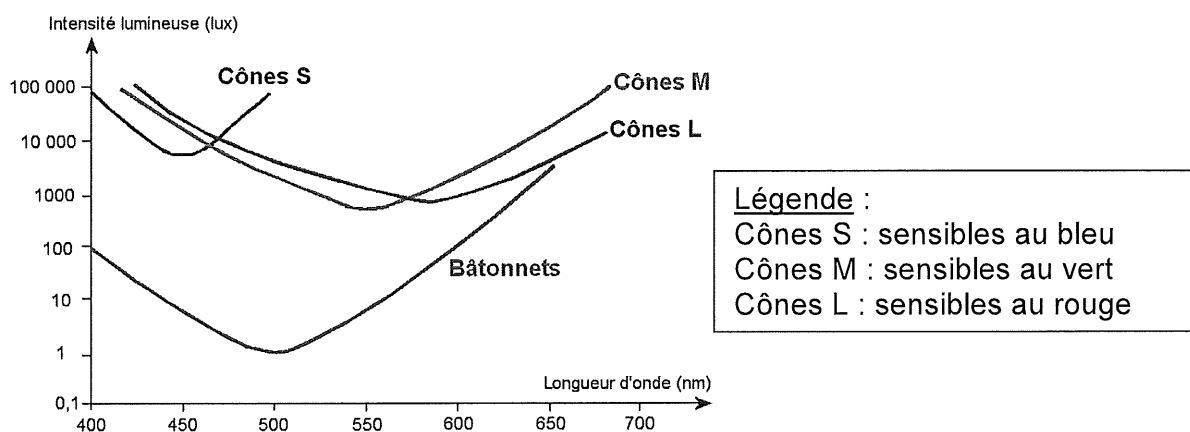
### PARTIE 3 : THÈME « REPRÉSENTATION VISUELLE » (6 POINTS)

#### LE MELON ET LA VISION

Pendant l'été, le melon est un fruit très plébiscité par les consommateurs. Outre sa fraîcheur, son goût sucré et ses arômes agréables, il est également favorable à la vision. On s'intéresse aux bienfaits du melon dans l'amélioration de la vision.

#### Document 1 : Seuil de sensibilité en fonction de la longueur d'onde des 4 types de photorécepteurs

Les photorécepteurs sont exposés à des longueurs d'ondes différentes. Pour chaque longueur d'onde, le photorécepteur a été soumis d'abord à une intensité lumineuse très faible, puis de plus en plus forte (mesurée en lux).



D'après [www.acces.ens-lyon.fr](http://www.acces.ens-lyon.fr)

#### Document 2 : Apports nutritionnels du melon charentais

##### Composition du melon charentais

Nutriment	Quantité moyenne pour 100 g de melon
Eau	91,1 g
Protéines	0,710 g
Lipides	0,195 g
Glucides	7,58 g
Vitamine A – bêta-carotène	1,06 mg
Vitamine B	0,919 mg
Vitamine C	11,1 mg
Vitamine E	0,113 mg
Minéraux et oligo-éléments (calcium, fer, zinc...)	0,380 g
Autres	13,38 mg

D'après ANSES (Agence Nationale de Santé et Sécurité)

L'apport journalier recommandé pour un adulte en vitamine A-bêta-carotène est de 0,8 mg.

**Document 3 : La vitamine A et la vision**

La rhodopsine est un pigment rétinien présent dans les bâtonnets. Elle comporte de la vitamine A, molécule dérivée du bêta-carotène. La rhodopsine est décomposée à la lumière et nécessite pour se régénérer de la vitamine A provenant de l'alimentation.

La carence en vitamine A peut provoquer une déficience de la vision crépusculaire ou nocturne qui peut notamment se traduire par une incapacité de reconnaissance des gens dans une pièce mal éclairée.

**A l'aide de l'ensemble des documents proposés et des connaissances, répondre aux questions suivantes :**

**Question 1 :**

Comparer la sensibilité des cônes et des bâtonnets à la lumière.

**Question 2 :**

Le melon fait partie des aliments conseillés pour améliorer la vision nocturne. Expliquer cette affirmation.



ANNEXE

FEUILLE-RÉPONSE A RENDRE AVEC LA COPIE

PARTIE 2 : DÉFI ÉNERGÉTIQUE

Question 4 :

