

Modèle CCYC : ©DNE

Nom de famille (naissance) :
(Suivi s'il y a lieu, du nom d'usage)

--	--	--	--	--	--	--	--	--	--	--	--	--	--	--	--	--	--	--	--	--	--	--

Prénom(s) :

--	--	--	--	--	--	--	--	--	--	--	--	--	--	--	--	--	--	--	--	--	--	--

N° candidat :

--	--	--	--	--	--	--	--	--	--	--	--	--	--	--	--	--

N° d'inscription :

--	--	--	--



Né(e) le :

(Les numéros figurent sur la convocation.)

		/			/					
--	--	---	--	--	---	--	--	--	--	--

1.1

ÉVALUATION

CLASSE : Terminale

VOIE : Générale Technologique Toutes voies (LV)

ENSEIGNEMENT : Enseignement scientifique

DURÉE DE L'ÉPREUVE : 2h

Niveaux visés (LV) : LVA LVB

Axes de programme :

CALCULATRICE AUTORISÉE : Oui Non

DICTIONNAIRE AUTORISÉ : Oui Non

Ce sujet contient des parties à rendre par le candidat avec sa copie. De ce fait, il ne peut être dupliqué et doit être imprimé pour chaque candidat afin d'assurer ensuite sa bonne numérisation.

Ce sujet intègre des éléments en couleur. S'il est choisi par l'équipe pédagogique, il est nécessaire que chaque élève dispose d'une impression en couleur.

Ce sujet contient des pièces jointes de type audio ou vidéo qu'il faudra télécharger et jouer le jour de l'épreuve.

Nombre total de pages : 9

**Le candidat traite les deux exercices
qui sont proposés dans ce sujet.**



Exercice 1 – Niveau terminale

Thème « Une histoire du vivant »

Les conséquences de la géographie naturelle de l'île de Bornéo et de la déforestation sur les populations d'orangs-outans

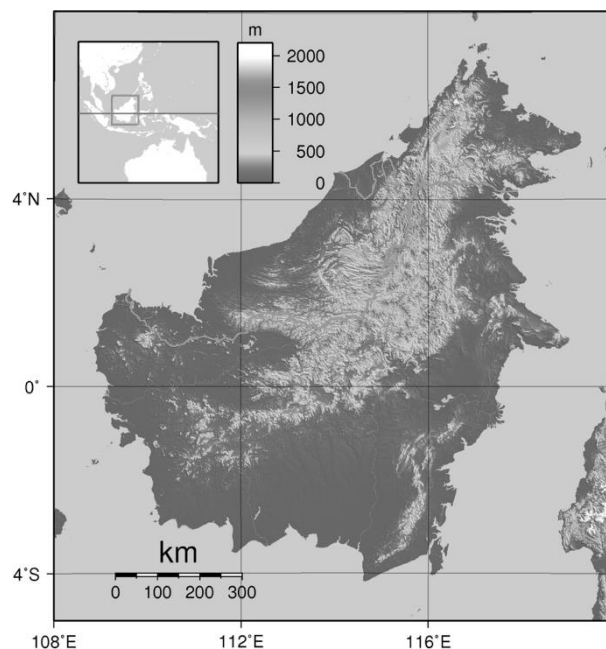
Sur 10 points

Située en Asie du Sud-Est, à la jonction entre l'océan Indien et l'océan Pacifique, l'île de Bornéo représente 1 % des terres émergées. Elle détient 6 % de la biodiversité en lien avec sa richesse en écosystèmes (forêts tropicales, mangroves...). Une des espèces emblématiques de ces écosystèmes est l'orang-outan de Bornéo (*Pongo pygmaeus*). Cette espèce est en danger critique d'extinction (selon l'UICN). L'espèce est menacée par la perte de son habitat naturel et fait l'objet de projets de sauvegarde.

Orang-outan



Île de Bornéo (Asie du Sud-Est)



Source : wikipedia

On s'intéresse aux conséquences possibles de la géographie de l'habitat et des activités humaines sur la diversité génétique des populations d'orangs-outans (*Pongo pygmaeus*).

Modèle CCYC : ©DNE

Nom de famille (naissance) :

(Suivi s'il y a lieu, du nom d'usage)

Prénom(s) :

N° candidat :

N° d'inscription :



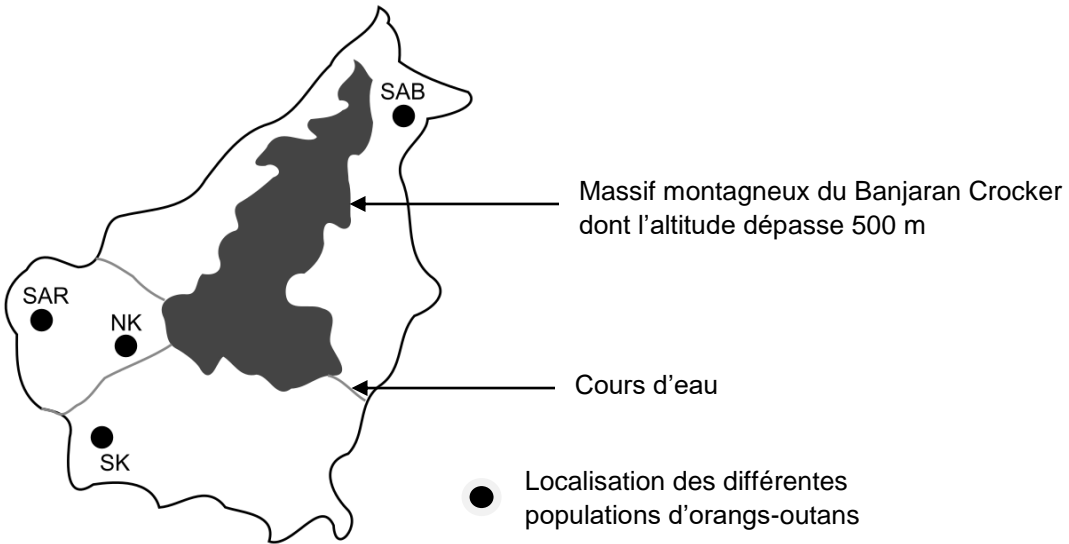
Liberté • Égalité • Fraternité
RÉPUBLIQUE FRANÇAISE

Né(e) le :

(Les numéros figurent sur la convocation.)

1.1

Document 1 : carte de l'île de Bornéo et localisation de quelques populations d'orangs-outans



Les quatre populations de l'île de Bornéo :

SAR : population du centre de réhabilitation de la vie sauvage de Semenggoh

NK : population du parc national de Danau Sentarum

SK : population du parc national de Gunung Palung

SAB : population du centre de réhabilitation pour orangs-outans de Sepilok.

Les larges fleuves sont infranchissables par cette espèce qui ne sait pas nager, ils constituent donc une barrière naturelle.



Document 2 : tableau présentant les pourcentages de divergence entre certaines séquences génétiques chez les populations d'orangs-outans. La population de l'île de Sumatra, nommée SU, est indiquée comme référence.

	SK	NK	SAR	SAB	SU
SK	2,6	6,3	5,3	5,1	19,2
NK	-	3,4	2,6	5,9	17,5
SAR	-	-	1,5	4,6	16,5
SAB	-	-	-	2,6	19,9
SU	-	-	-	-	7,8

Les cases grisées, constituant la diagonale du tableau indiquent les pourcentages de divergence des séquences génétiques au sein d'une même population d'orangs outans. Les autres cases comparent la divergence des séquences génétiques entre les populations prises deux à deux.



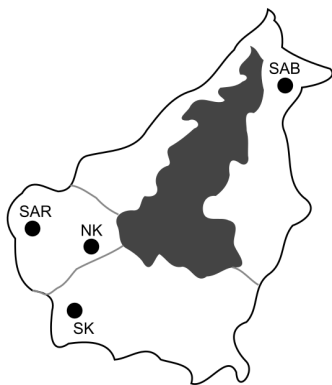
Plus le pourcentage de divergence des séquences génétiques entre deux populations est important, plus la distance génétique entre ces populations est grande.

D'après Speciation and Intraspecific Variation of Bornean Orangutans, Pongo pygmaeus pymaeus, Warren et al. Molecular Biology and Evolution (2001)

1- À partir de l'analyse des documents 1 et 2, montrer que la fragmentation des habitats par des obstacles naturels pourrait être à l'origine de l'accumulation de différences génétiques entre populations.

Certaines zones de l'île sont actuellement défrichées par l'être humain pour faire place à des exploitations agricoles comme les palmeraies. Les conséquences possibles sur la diversité génétique des Orangs-outans de Bornéo sont alors étudiées.

Document 3 : représentation simplifiée de l'évolution de la forêt tropicale dans une zone de la région de Kalimantan du sud entre 1970 et 2020



Chaque carré a une aire de 100 km².

Les carrés sombres correspondent à des zones recouvertes par de la forêt et les carrés blancs à des zones défrichées.

2- À l'aide du quadrillage fourni sur le document 3, déterminer l'impact de l'activité humaine sur la surface disponible pour les orangs-outans. Pour cela, calculer :

- l'aire \mathcal{A}_{1970} de la surface de forêt disponible en 1970 dans la région de Kalimantan étudiée ;
- l'aire \mathcal{A}_{2020} de la surface de forêt disponible en 2020 dans la région de Kalimantan étudiée ;
- le pourcentage de diminution de l'aire de la surface disponible entre 1970 et 2020.

3- À l'aide des documents de vos connaissances, rédiger un paragraphe argumenté présentant le rôle conjoint de la géographie et de l'action humaine de déforestation sur le risque d'appauvrissement génétique des populations d'orangs-outans de l'île de Bornéo. Proposer des mesures qui permettraient prioritairement de protéger les populations d'orangs-outans et également de conserver leur diversité génétique.

Exercice 2 – Niveau terminale

Thème « Science, climat et société »

Émissions de dioxyde de carbone et conséquences sur l'économie du vin

Sur 10 points

Partie 1 : Production de dioxyde de carbone par les combustibles fossiles

À l'échelle mondiale, près de 87 % des émissions de dioxyde de carbone attribuables à l'homme proviennent des combustibles fossiles. La combustion de ces derniers libère de l'énergie, dont la plus grande part est transformée en chaleur et utilisée dans les domaines de la production d'électricité, des transports ou dans le domaine industriel.

On se propose d'évaluer, pour les différentes activités domestiques, les émissions de gaz à effet de serre associées, ainsi que les effets éventuels sur la santé.

Document 1 : énergie libérée par la combustion de quelques combustibles

Combustible	Équation modélisant la combustion	Masse de CO ₂ produite par gramme de combustible consommé (g)	Énergie dégagée par gramme de combustible (kJ/g)	Masse de CO ₂ produite par unité d'énergie dégagée (g/kJ)
Gaz naturel (CH ₄)	$CH_4 + 2 O_2 \rightarrow CO_2 + 2 H_2O$	2,75	56,0	?
Essence (modélisée par l'octane C ₈ H ₁₈)	$2 C_8H_{18} + 25 O_2 \rightarrow 16 CO_2 + 18 H_2O$	3,09	44,7	0,069
Bois (modélisé par la cellulose)	$C_6H_{10}O_5 + 6 O_2 \rightarrow 6 CO_2 + 5 H_2O$	1,63	5,80	0,281

1. Calculer la masse de dioxyde de carbone produite par la combustion du méthane pour 1 kJ d'énergie dégagée. En déduire la source d'énergie présentée dans le document 1 qui est la plus émettrice de dioxyde de carbone.

2. Citer deux autres substances émises lors des combustions qui ont un impact sur la santé humaine.

Modèle CCYC : ©DNE
Nom de famille (naissance) :


(Suivi s'il y a lieu, du nom d'usage)

Prénom(s) :

N° candidat : N° d'inscription :

(Les numéros figurent sur la convocation.)

Né(e) le : / /

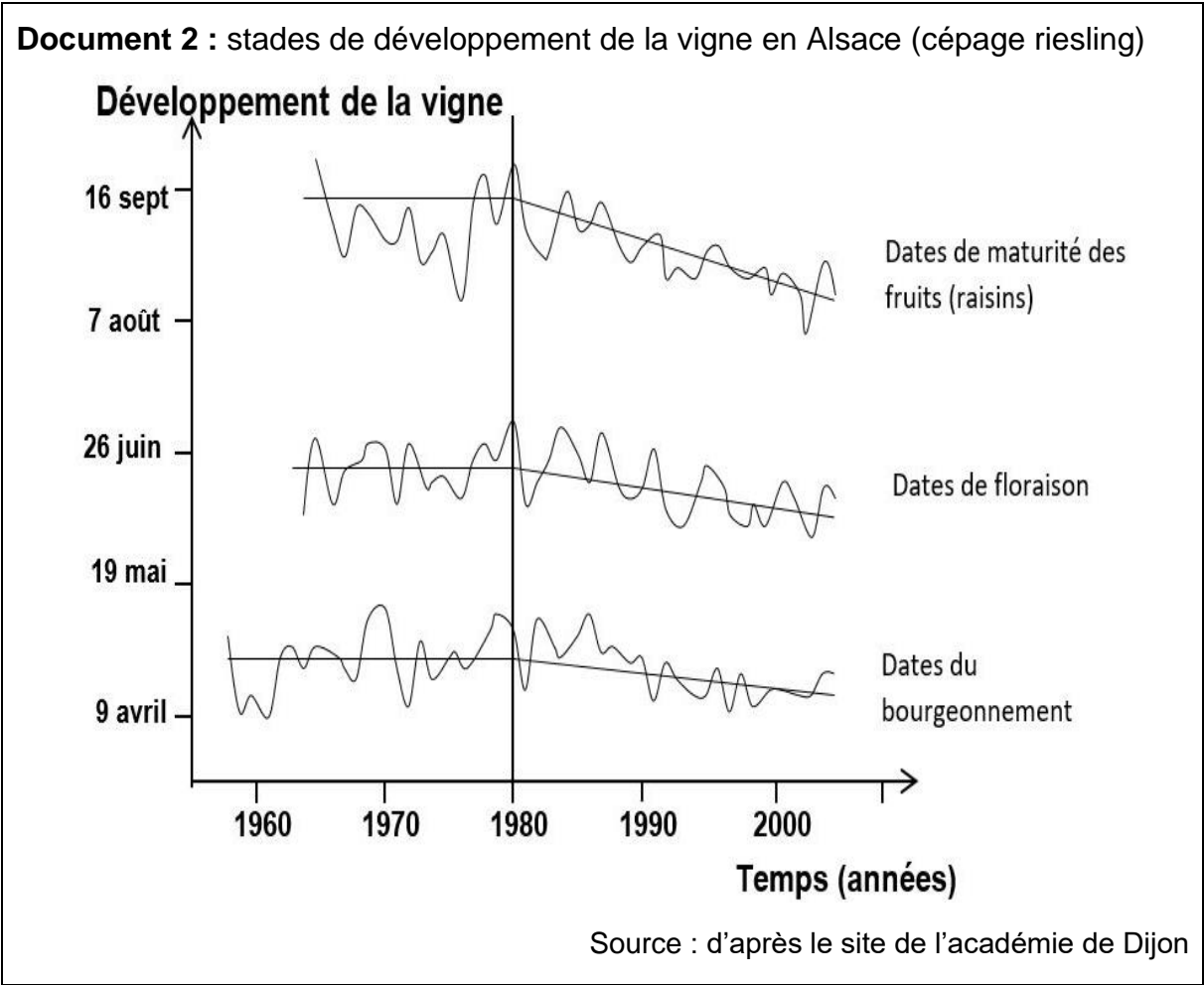
 Liberté • Égalité • Fraternité
RÉPUBLIQUE FRANÇAISE

1.1

3. Définir l’empreinte carbone d’une activité ou d’une personne.
4. Afin de faire des projections sur les évolutions futures du climat, différents scénarios sont étudiés par les scientifiques. À l’aide de vos connaissances, citez trois conséquences probables du changement climatique habituellement évaluées par ces scénarios.

Partie 2 : Économie du vin

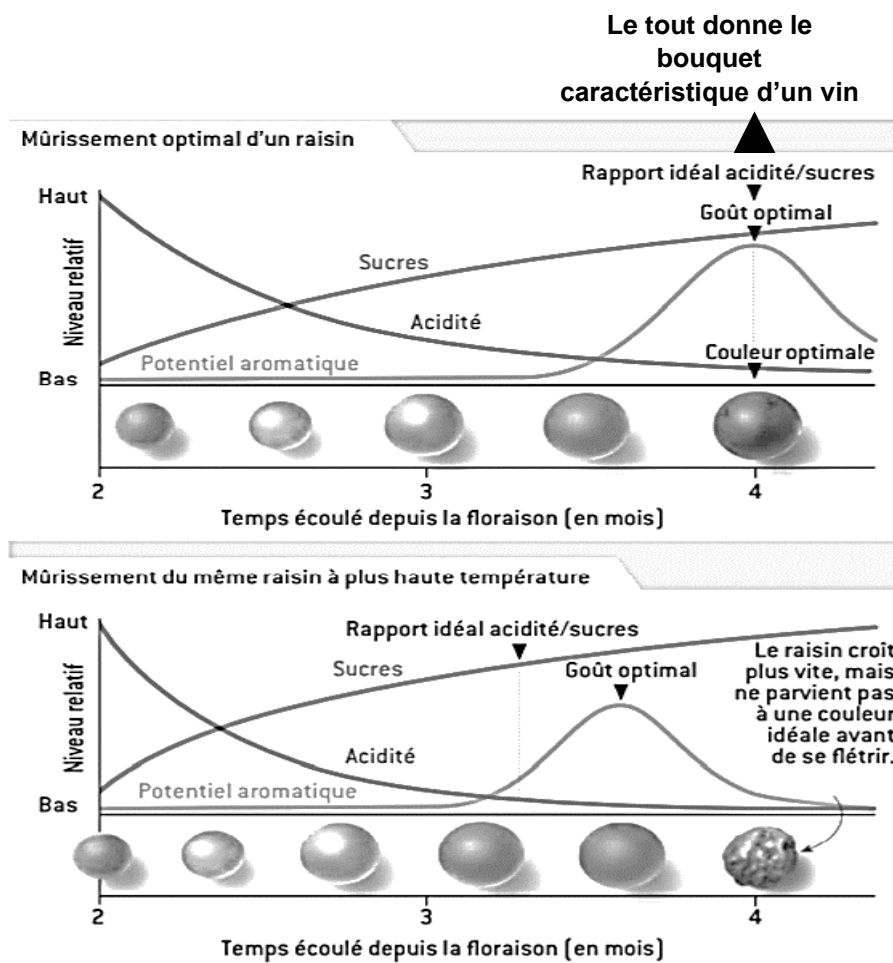
Le changement climatique a un impact sur la vigne, donc sur la production de vin. On peut se demander ce qu’il faut faire pour qu’un riesling conserve son bouquet caractéristique et si des vignobles millénaires sont sur le point d’être remplacés par de nouveaux. La réponse va dépendre de l’ampleur du changement climatique et... de l’innovation viticole et œnologique.





Document 3 : caractéristiques d'un raisin au cours de son mûrissement

Il faut plusieurs mois au raisin pour mûrir. Le potentiel aromatique est produit par les très nombreux composés aromatiques caractéristiques de chaque cépage.



Source : d'après Pour la Science, mai 2015

5. À partir des informations des documents 2 et 3, choisir la proposition exacte dans chacune des séries à choix multiples ci-dessous (reporter sur la copie le numéro de la série de propositions et la lettre correspondante) :

- I. La date de la floraison entre 1980 et 2000 ...
 - a. est globalement stable.
 - b. est globalement plus tardive qu'entre 1960 et 1980.

Modèle CCYC : ©DNE

Nom de famille (naissance) :


(Suivi s'il y a lieu, du nom d'usage)

Prénom(s) :

N° candidat : **N° d'inscription** :

(Les numéros figurent sur la convocation.)

Né(e) le : / /



1.1

- c. passe du 16 septembre au 10 août.
- d. passe du 26 juin au 30 mai environ.

- II.** Les vendanges qui ont lieu à maturité des fruits ont globalement tendance à ...
- a. être avancées.
 - b. être retardées.
 - c. ne pas changer de date.
 - d. se faire au mois de juin.

6. Expliquer pourquoi les producteurs alsaciens actuels de riesling sont inquiets et craignent que :

- le vin produit ne garde pas son bouquet caractéristique ;
- la date des vendanges devienne de plus en plus difficile à déterminer à l'avenir.