

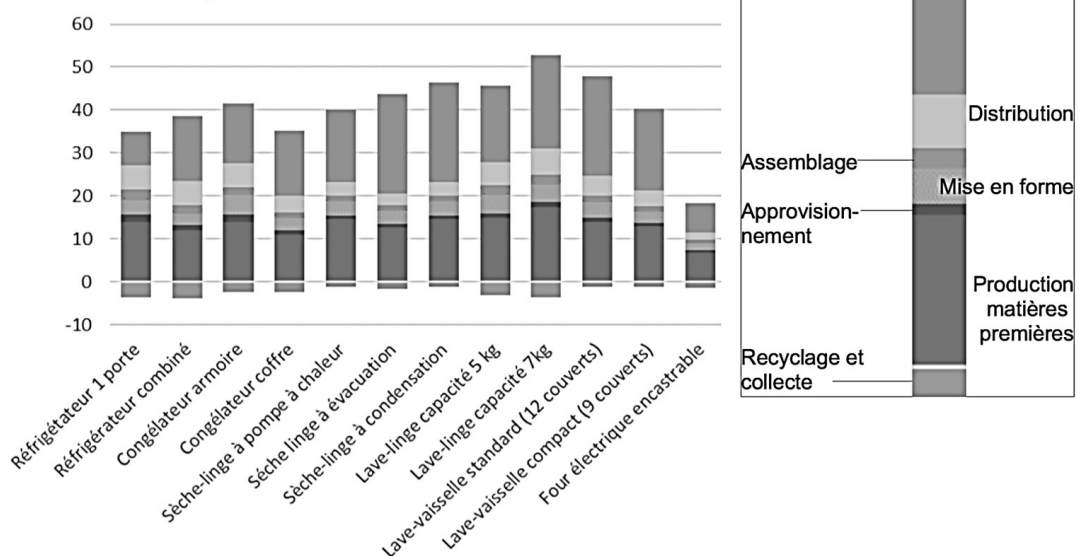
Exercice 1 : L'empreinte carbone des appareils électroménagers

Sur 10 points

Pour établir l'empreinte carbone de ces appareils, les scientifiques ont utilisé des données concernant à la fois la production des matières premières servant à leur fabrication mais aussi leur collecte et leur recyclage, lors de leur fin de vie.

Document 1 : empreinte carbone de quelques appareils domestiques électroménagers.

Contribution de quelques appareils domestiques au changement climatique, en kg. éq. CO₂ par produit sur une année



Source : J. Lhotellier, E. Less, E. Bossanne, S. Pesnel. (2018). *Modélisation et évaluation ACV de produits de consommation et biens d'équipement*. Rapport de l'ADEME. Document modifié.

- 1- Donner la définition de l'empreinte carbone d'une activité.
- 2- À partir du document 1, citer les deux plus importantes contributions au réchauffement climatique d'un appareil électroménager au cours de son cycle de vie.
- 3- À partir du document 1, citer la contribution du cycle de vie d'un appareil électroménager qui diminue son empreinte carbone. Justifier la réponse.

Modèle CCYC : ©DNE

Nom de famille (naissance) :


(Suivi s'il y a lieu, du nom d'usage)

Prénom(s) :

N° candidat : N° d'inscription :

(Les numéros figurent sur la convocation.)

Né(e) le : / /



RÉPUBLIQUE FRANÇAISE

1.1

Document 2 : projection de l'évolution des ventes de produits de gros électroménagers et de l'évolution du nombre de leurs réparations dans les prochaines années en France.

Année	2016	2017	2018	2019	2020	2021	2022	2023	2024	2025
Vente des produits de gros électroménagers (en millions)	15,1	15,2	15,2	15,2	15,2	15,2	15,3	15,3	15,3	15,3
Nombre de réparations d'appareils de gros électroménagers hors garantie et sous garantie (en millions)	2,38	2,31	2,24	2,18	2,12	2,05	2,00	1,95	1,91	1,87

Source : Benoît TINETTI, Anton BERWALD, Victoire SENLIS. (2018). *État des lieux de l'activité de réparation des appareils électroménagers dans sa relation au produit et à la filière. Rapport final, phase 2.* GIFAM, ADEME.

4. À partir du document 2, montrer que le taux de variation des ventes de produits de gros électroménagers est de + 1,32 % entre 2016 et 2025, et que celui du nombre de réparations est de – 21,4 %.

Document 3 : extrait d'un rapport d'enquête sur les enjeux et solutions en matière de durabilité d'un lave-linge.

« Sachant qu'un lave-linge pèse en moyenne 70 kg, comment expliquer qu'il faille 2 tonnes de matières mobilisées ? Un lave-linge contient en moyenne 1,4 kg de cuivre par exemple. C'est une ressource rare et difficile à extraire. Il faut compter 8 tonnes de roches déplacées pour obtenir un seul kilo de cuivre. Cette ressource pèse donc en fait lourd sur son bilan écologique. Plus la vie d'un lave-linge sera longue, plus son impact écologique sera réduit car cela évite tout simplement la production d'un appareil neuf. »

Source : Association HOP. (septembre 2019). *Rapport d'enquête sur les enjeux et solutions en matière de durabilité des lave-linge*

5. À partir de l'ensemble des documents et des taux de variation précédents, expliquer si l'évolution du nombre de réparations permet d'envisager un abaissement de l'empreinte carbone liée aux appareils de gros électroménagers.

6. À partir de vos connaissances et des documents 1 et 3, proposer des comportements permettant de minimiser l'empreinte carbone d'un lave-linge.

Fin de l'exercice



Exercice 2 : Les impacts de la combustion sur l'environnement et la santé

Sur 10 points

La combustion de carburants fossiles et de la biomasse libère du dioxyde de carbone qui a un impact environnemental majeur.

Il est également reconnu par l'Organisation mondiale de la santé (OMS) que la santé publique est impactée par la pollution de l'air. Le Ministère des Solidarités et de la Santé estime qu'environ 48 000 personnes décèdent chaque année des effets de la pollution de l'air en France.

On se propose d'étudier la part et les impacts de la combustion de carburants fossiles et de biomasse sur la santé humaine.

Document 1 : production de dioxyde de carbone lors de la combustion de carburants fossiles et de la biomasse

Combustible	Equation de la réaction
Gaz naturel méthane CH ₄	$\text{CH}_4 + 2 \text{O}_2 \rightarrow \text{CO}_2 + 2 \text{H}_2\text{O}$
Essence modélisée par l'octane C ₈ H ₁₈	$2 \text{C}_8\text{H}_{18} + 25 \text{O}_2 \rightarrow 16 \text{CO}_2 + 18 \text{H}_2\text{O}$
Biomasse (bois) modélisée par C ₆ H ₁₀ O ₅	$\text{C}_6\text{H}_{10}\text{O}_5 + 6 \text{O}_2 \rightarrow 6 \text{CO}_2 + 5 \text{H}_2\text{O}$

Énergie massique libérée par kg de combustible brûlé :

Combustible	Gaz naturel	Essence	Biomasse
Energie massique libérée	50 MJ.kg ⁻¹	45 MJ.kg ⁻¹	17 MJ.kg ⁻¹

Masse de CO₂ produite pour 1 MJ d'énergie obtenue :

Combustible	Gaz naturel	Essence	Biomasse
Masse de CO ₂ produite	56 g	À calculer en question 5	95 g

D'après J.- C Guibet, Publications de l'Institut français du pétrole, 1997 et W. - M. Haynes, CRC Handbook of Chemistry and Physics, 2012.

Modèle CCYC : ©DNE

Nom de famille (naissance) :


(Suivi s'il y a lieu, du nom d'usage)

Prénom(s) :

N° candidat : N° d'inscription :

(Les numéros figurent sur la convocation.)

Né(e) le : / /



1.1

1- Indiquer le (ou les) combustible(s) mentionnés dans le document 1 pouvant être utilisés comme source(s) d'énergie renouvelable.

2- Calculer la masse d'essence, notée $m_{essence}$, nécessaire pour obtenir une énergie de valeur 1 MJ.

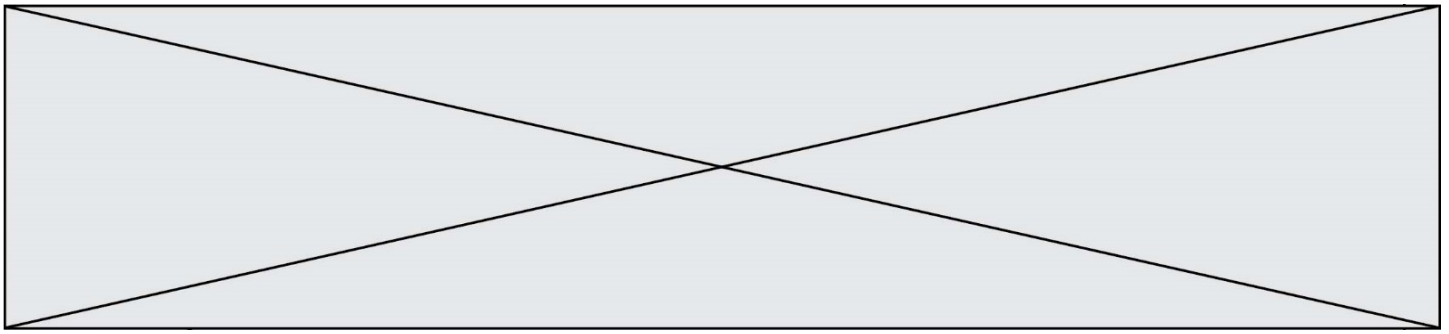
3- Sachant que la masse d'une mole d'essence est égale à 114 g, vérifier que la quantité de matière, notée $n_{essence}$, présente dans la masse d'essence nécessaire pour obtenir une énergie de valeur 1 MJ vaut environ : $n_{essence} = 0,2$ mol.

4- À l'aide de l'équation de la réaction modélisant la combustion de l'essence, vérifier que la quantité de matière de dioxyde de carbone produite n_{CO_2} est telle que $n_{CO_2} = 8n_{essence}$. Calculer n_{CO_2} .

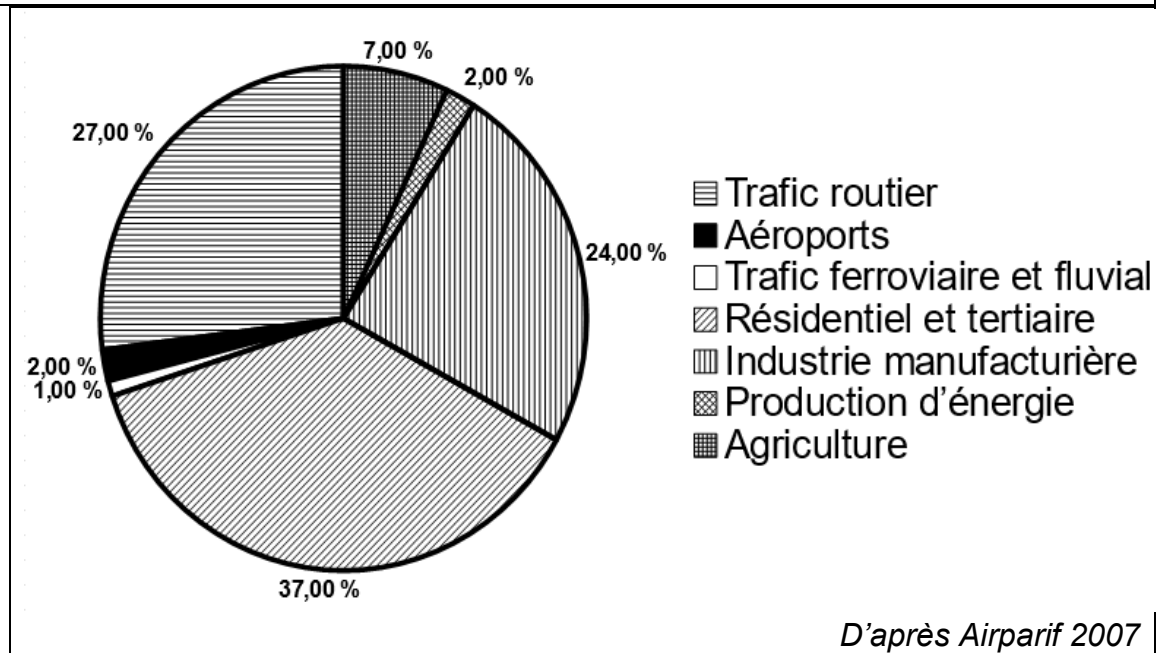
5- La masse d'une mole de dioxyde de carbone étant égale à 44 g, déterminer la masse de CO₂ libérée dans l'atmosphère par la combustion de l'essence pour obtenir une énergie de valeur 1 MJ.

6- Comparer la masse de dioxyde de carbone émise par MJ produit pour chaque combustible du document 1 et indiquer quel est l'impact environnemental majeur du dioxyde de carbone.

7- Identifier les 3 secteurs d'activité émettant le plus de particules fines, à partir du document 2 (page suivante).



Document 2 : répartition (en %) par grands secteurs d'activité des émissions annuelles de particules fines de dimensions inférieures à $2,5 \mu m$ (PM 2,5) en Ile-de-France.



8- À partir de l'étude présentée dans le document 3, rédiger un texte argumenté expliquant la signification du chiffre : « 48000 décès par an en France sont dus à la pollution ».

Document 3 : impacts sanitaires de la pollution de l'air en France (rapport de 2016)

La plupart des sources de pollution atmosphériques émettent des particules fines de diamètre inférieur à 2,5 micromètres ($PM_{2.5}$) : transports, résidentiel/tertiaire, agriculture, industrie. Leur contribution relative à la pollution atmosphérique varie cependant selon le lieu.

Désirant déterminer l'effet qu'une réduction de pollution aurait sur la mortalité prématurée en France, les chercheurs ont recueilli pour l'année 2007 les mesures de concentrations moyennes en particules fines $PM_{2.5}$ et le nombre total de décès.

Ils ont ensuite appliqué une relation mathématique, établie dans des études précédentes, afin de calculer l'effet de différents scénarios :

- réduction à $4,9 \mu g.m^{-3}$, valeur que l'on peut mesurer dans des villages de haute montagne à faible activité économique ;
- réduction à $10 \mu g.m^{-3}$, valeur recommandée par l'OMS ;
- réduction à $15 \mu g.m^{-3}$, objectif fixé par le Plan national santé-environnement de 2009.

La population française en 2019 est de 65 millions d'habitants.

Modèle CCYC : ©DNE

Nom de famille (naissance) :

(Suivi s'il y a lieu, du nom d'usage)

Prénom(s) :

N° candidat :

N° d'inscription :

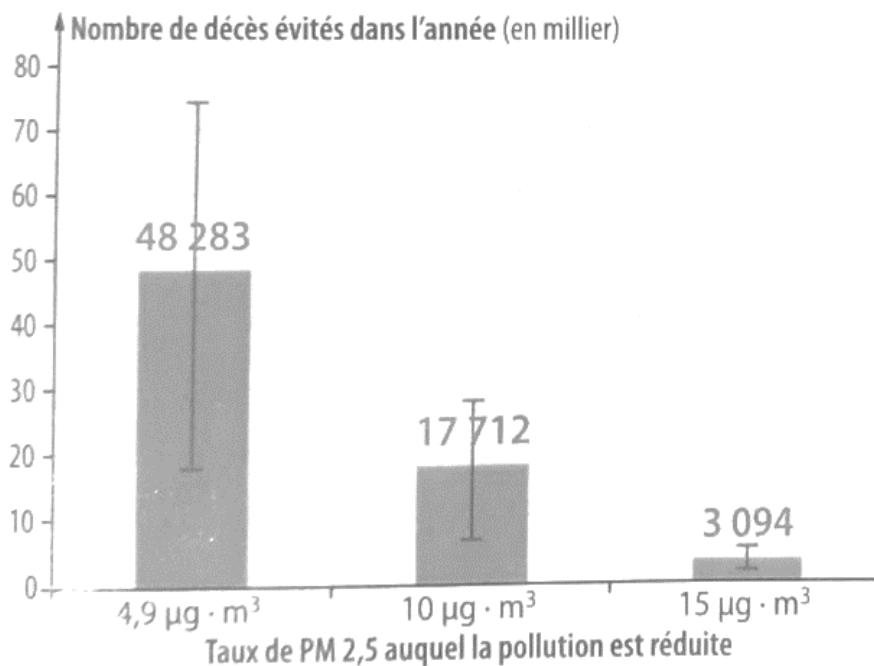


Né(e) le :

(Les numéros figurent sur la convocation.)

1.1

Nombre de morts qui auraient été évités dans l'année selon la modélisation réalisée par les chercheurs



D'après Santé Publique France

<https://www.santepubliquefrance.fr/presse/2016/impacts-sanitaires-de-la-pollution-de-l-air-en-france-nouvelles-donnees-et-perspectives>

Fin de l'exercice