



Exercice 1 : L'histoire du dioxygène terrestre

Sur 10 points

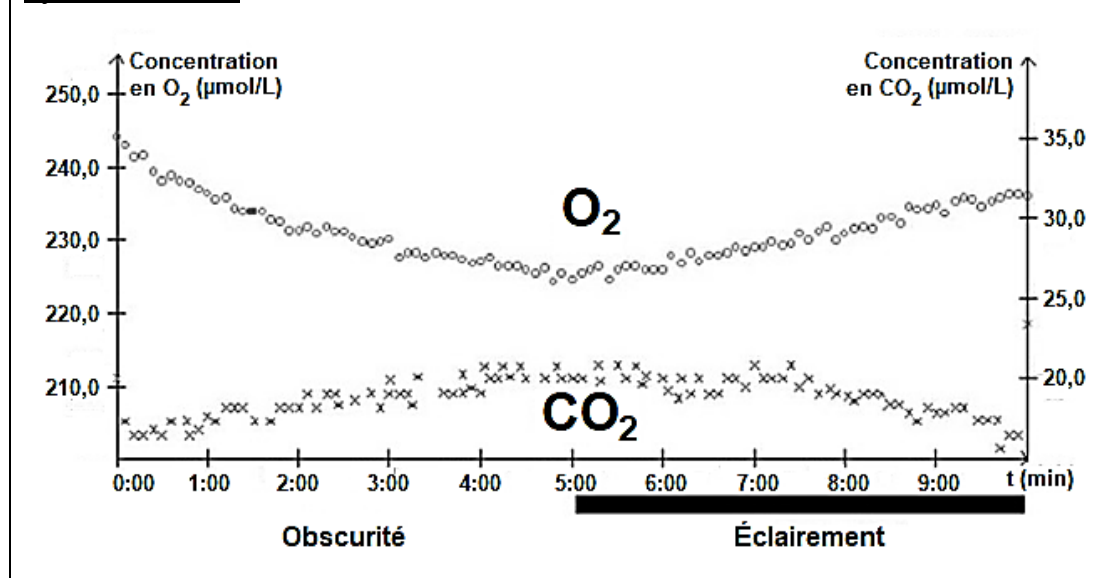
L'atmosphère primitive de la Terre, issue du dégazage au cours du refroidissement de la Terre, était très différente de l'atmosphère actuelle. La transformation de l'atmosphère au cours du temps est marquée en particulier par un fort enrichissement en dioxygène, ce qui lui a conféré un caractère oxydant.

L'objectif de cet exercice est de rechercher des arguments expliquant l'enrichissement de l'atmosphère en dioxygène, il y a 2,4 milliards d'années.

Document 1 : métabolisme des cyanobactéries actuelles

Une culture de cyanobactéries est placée dans une enceinte hermétique. Les teneurs en dioxygène et en dioxyde de carbone sont relevées sous différentes conditions d'éclairement. Les résultats sont présentés sur le graphique ci-dessous.

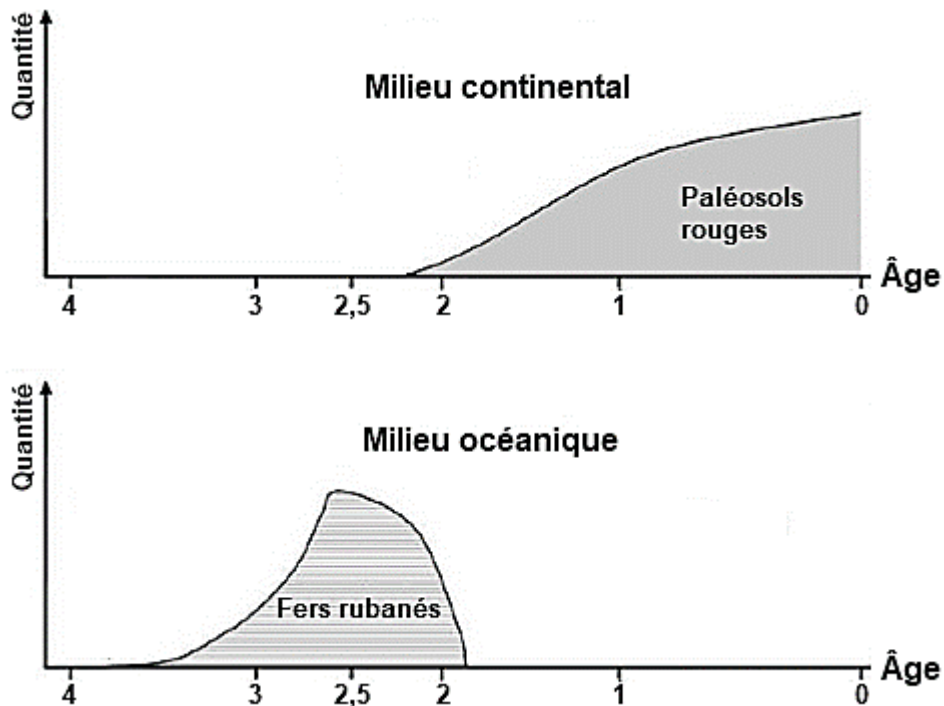
Évolution des teneurs en dioxygène et dioxyde de carbone de la culture de cyanobactéries





3- Justifier que l'oxyde de fer majoritaire présent dans les BIF correspond à l'hématite et ajuster l'équation chimique de sa formation après l'avoir recopiée sur la copie.

Document 3 : évolution de la formation des paléosols rouges et des fers rubanés au cours du temps



D'après C. Klein, Nature, 1997

L'axe des abscisses correspond à l'âge des roches en milliard d'années avant le présent. L'axe des ordonnées correspond à la quantité relative des roches formées.

Les paléosols, ou sols fossiles, se sont formés par altération de roches continentales au contact de l'atmosphère. La couleur rouge de certains de ces sols provient de la forte teneur en hématite. Les fers rubanés sont toujours des formations sédimentaires marines.

Le volcanisme continental et marin relâchent une quantité importante de fer sous forme d'ions Fe^{2+} oxydés en Fe^{3+} par le dioxygène entraînant la formation de l'hématite.




Située en Asie du Sud-Est, à la jonction entre l'océan Indien et l'océan Pacifique, l'île de Bornéo représente 1 % des terres émergées. Elle détient 6 % de la biodiversité en lien avec sa richesse en écosystèmes (forêts tropicales, mangroves...). Ses forêts sont actuellement défrichées, notamment pour laisser place à des exploitations agricoles comme les palmeraies.

Dans les forêts de Bornéo, vit une espèce de grand-singe, l'orang-outan (*Pongo pygmaeus*), qui est en danger critique d'extinction (selon l'UICN). L'espèce est menacée par la perte de son habitat naturel.

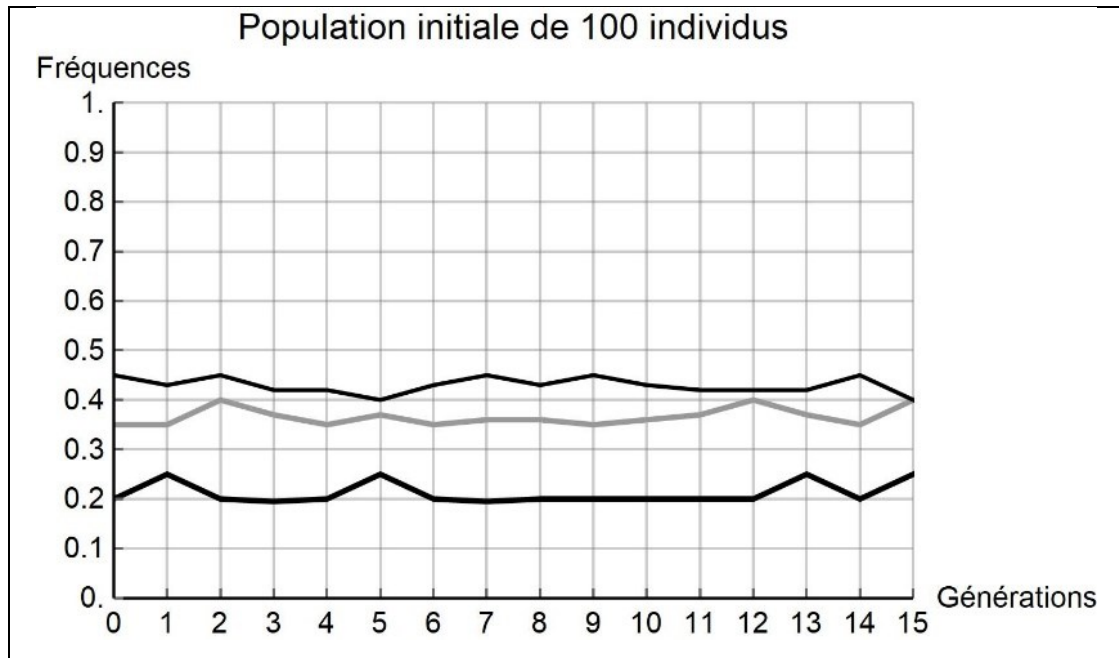
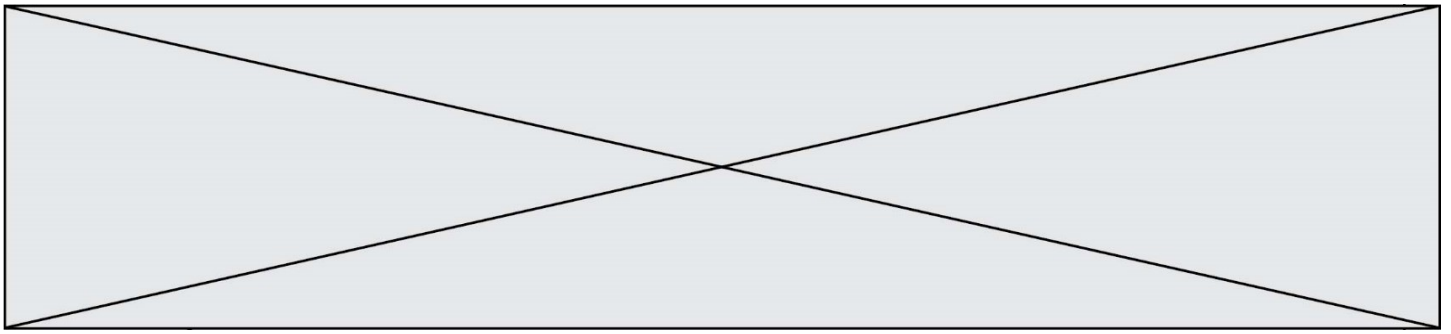
Bien que l'ADN des orangs-outans est beaucoup plus diversifié que celui de l'espèce humaine, on s'intéresse aux conséquences possibles de la déforestation sur la diversité génétique des populations d'orang-outans.

Document 1 : représentation simplifiée de l'évolution de la forêt tropicale dans la région de Kalimantan entre 1970 et 2020 (Ile de Bornéo)



Zone étudiée de la région
de Kalimantan en 1970

Chaque carré a une aire de 100 km².
Les carrés sombres correspondent à des zones recouvertes par de la forêt et
les carrés blancs à des zones défrichées



2- À partir de l'analyse de la simulation présentée dans le document 2, montrer que la taille de la population joue un rôle dans l'évolution des fréquences alléliques au cours des générations.

3- D'après vos connaissances, indiquer quelle force évolutive est à l'œuvre dans l'évolution des fréquences alléliques pour une petite population de 10 individus. Justifier votre réponse.

4- À l'aide des documents 1 et 2 et des connaissances, rédiger un paragraphe argumenté reliant la déforestation d'origine anthropique au risque d'appauvrissement génétique des populations d'orangs-outans de Bornéo. Proposer des mesures qui permettraient prioritairement de protéger les populations d'orangs-outans et également de conserver leur diversité génétique.

Fin de l'exercice