



## Exercice 1 - Le crapaud sonneur à ventre jaune

Sur 10 points

L'objectif de cet exercice est de s'intéresser aux actions humaines entreprises pour la sauvegarde d'une espèce d'Amphibien.

### Document 1 : le crapaud sonneur à ventre jaune, une espèce en danger.




Photo de l'aspect général



Photo de la face ventrale

Le crapaud sonneur à ventre jaune, *Bombina variegata*, est une espèce d'Amphibien qui fait partie des espèces vulnérables et menacées. Elle fait l'objet d'une protection en France.

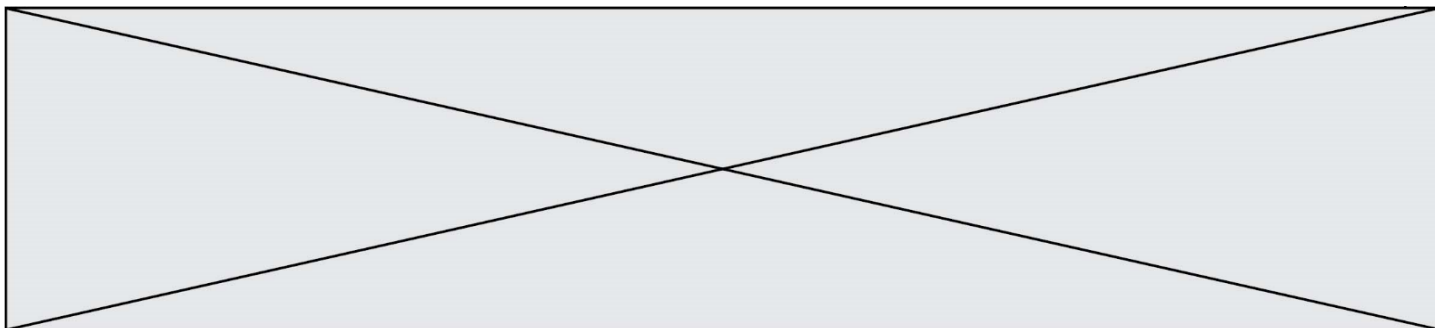
Ce crapaud de 3,5 à 5,5 cm de long tient son nom de sa face ventrale jaune tachetée de noir, qui contraste avec sa face dorsale marron-grisâtre.

Les mares et les flaques d'eau en forêt constituent l'habitat naturel de cette espèce. Ces lieux sont menacés par l'industrialisation mais aussi par l'agriculture.

La maturité sexuelle du crapaud sonneur à ventre jaune est atteinte au bout de 3 ou 4 ans. Ce crapaud utilise plusieurs mares pour se reproduire accrochant quelques œufs de façon regroupée ou isolée aux plantes aquatiques. Après éclosion des œufs, les têtards se métamorphosent en 34 à 130 jours.

*D'après Wikipédia (consulté le 04/11/2020)*





1- Présenter les principes de la méthode CMR (capture, marquage, recapture).

2- Donner la fréquence  $f$  de la population marquée rapportée à l'échantillon des  $n = 554$  individus recapturés. En déduire une première estimation de l'abondance de la population de sonneurs à ventre jaune dans la zone d'étude.

3- Pour tenir compte de la fluctuation d'échantillonnage, on considère, avec un indice de confiance de 95 %, que la proportion de la population marquée rapportée à la population totale de sonneurs à ventre jaune se situe dans l'intervalle :

$$\left[ f - \frac{1}{\sqrt{n}}; f + \frac{1}{\sqrt{n}} \right],$$

Déterminer dans ces conditions un encadrement de l'abondance de la population de sonneurs à ventre jaune.

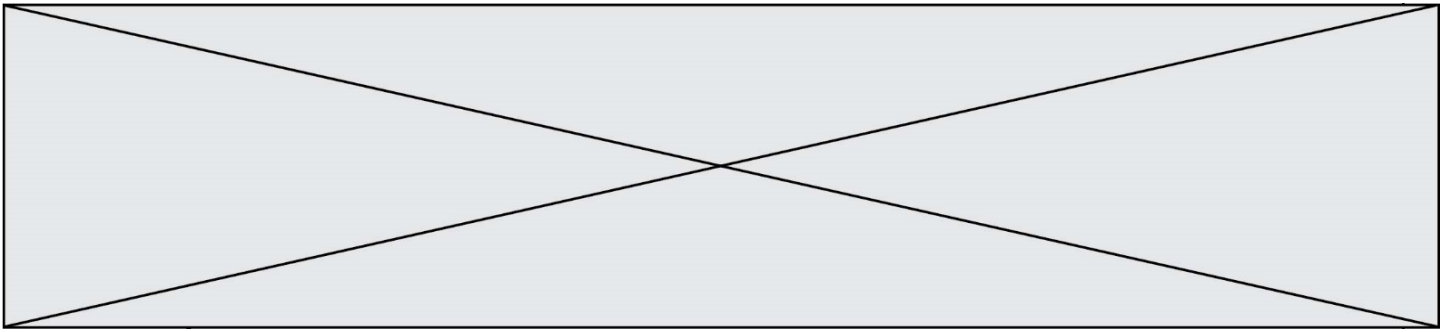
4- À partir de vos connaissances et des documents, formuler des hypothèses sur les causes possibles de la baisse d'abondance de ce crapaud.

5- On cherche à élaborer un plan national d'action pour la protection du crapaud sonneur à ventre jaune. Proposer différentes mesures permettant d'éviter l'extinction de cette espèce, en se basant sur les documents 1, 2 et 3 et vos connaissances.

**Document 3 : le crapaud sonneur à ventre jaune, mesures relatives à sa conservation.**

Afin de travailler à la conservation du sonneur à ventre jaune (*Bombina variegata*) dont le statut est critique en Normandie, l'Union régionale des Centres permanents d'initiatives pour l'environnement de Normandie propose la mise en place d'un élevage conservatoire de cinq années (2018-2023) permettant, d'une part, de protéger un groupe d'individus d'éventuelles menaces pouvant affecter le site de prélèvement et, d'autre part, d'optimiser la reproduction des géniteurs afin de tenter la réintroduction dans deux sites restaurés dans le département de l'Eure.





## Exercice 2 - L'atmosphère terrestre et la vie

Sur 10 points

*L'étude des formations sédimentaires, et en particulier les minerais et les fossiles qui leur sont associés, permet d'appréhender certaines étapes de l'évolution de l'atmosphère terrestre.*

### Document 1. L'uraninite, un minéral riche en uranium.

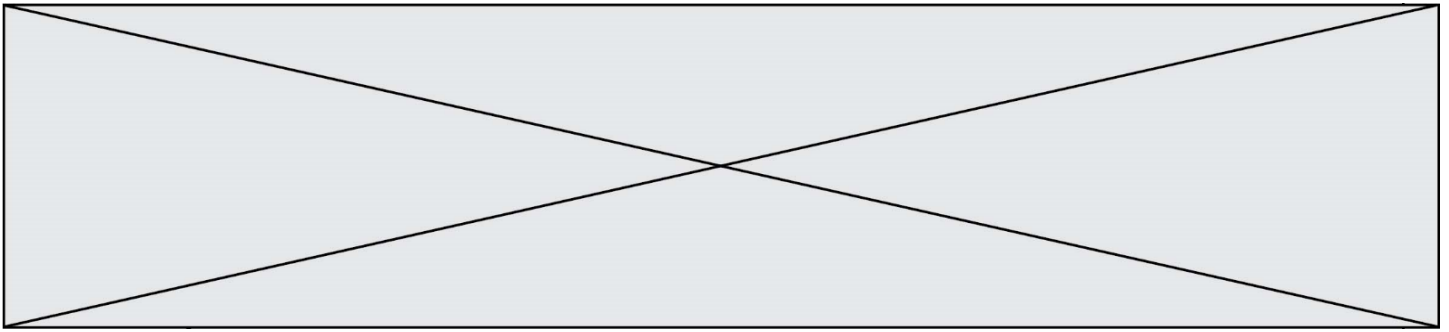


L'Afrique du Sud possède d'exceptionnels gisements d'uranium d'origine sédimentaire âgés de - 3,4 Ga. Ils contiennent de l'uraninite (image ci-contre), minéral dont la forme en boule indique un transport par les eaux courantes (torrent, rivière...) et une sédimentation à l'état de particules (non dissoutes) lors de sa formation.

L'uraninite est un oxyde d'uranium qui possède la propriété d'être soluble dans les eaux riches en dioxygène : elle ne cristallise qu'en milieu dépourvu de dioxygène. Aucune formation sédimentaire plus récente que - 2,2 Ga ne contient de cristaux d'uraninite.

1- Expliquer quelle information apporte l'existence de gisements anciens d'uraninite sur la composition de l'atmosphère à l'époque de leur formation (entre - 3,4 Ga et - 2,2 Ga).





2- Repérer la réponse correcte pour chaque série d'affirmations et l'écrire dans votre copie.

**a. Les différents rapports isotopiques  $\delta^{13}\text{C}$  indiquent :**

- qu'il y avait des êtres vivants eucaryotes (possédant un noyau) il y a 3,8 Ga
- que les cyanobactéries sont à l'origine du dioxygène atmosphérique
- qu'il y avait probablement des êtres vivants il y a 3,8 Ga
- que les plus anciens êtres vivants sont des cyanobactéries.

**b. La confrontation du rapport isotopique  $\delta^{13}\text{C}$  déterminé dans les roches sédimentaires d'Isua à des  $\delta^{13}\text{C}$  actuels indique que :**

- le  $\delta^{13}\text{C}$  augmente quand l'activité biologique augmente
- l'activité photosynthétique était plus importante il y a 3,8 Ga qu'aujourd'hui
- l'activité photosynthétique des cyanobactéries est supérieure à celle des algues eucaryotes
- certaines molécules des roches sédimentaires d'Isua sont issues d'une photosynthèse.

3- Formuler une hypothèse sur la date du début de l'apparition du dioxygène dans les océans. Présenter le raisonnement vous conduisant à proposer cette hypothèse.

4- L'étude de l'uraninite (document 1) et des roches sédimentaires d'Isua (document 2) indique l'existence d'un important décalage dans le temps entre l'apparition du dioxygène dans les océans et son accumulation dans l'atmosphère :

Donner une estimation de ce décalage dans le temps, puis, en vous appuyant sur vos connaissances, proposer une explication sur l'origine de ce décalage temporel. *Cette explication s'appuiera sur un autre exemple de roche ou de formation sédimentaire.*

Fin de l'exercice