


Exercice 1 - Des sphères géantes immergées sous l'eau

Sur 10 points

Le projet de recherche scientifique baptisé StEnSEA (pour « Stored Energy in the Sea ») développé par l'institut allemand Fraunhofer IWES propose un nouveau dispositif de stockage de l'électricité constitué de sphères géantes immergées en mer.

On cherche à comprendre en quoi ce type de dispositif pourrait être intéressant pour stocker l'énergie et en pallier l'intermittence.



Installation d'une sphère géante et schéma de leur position en mer
(<https://lenergeek.com>)

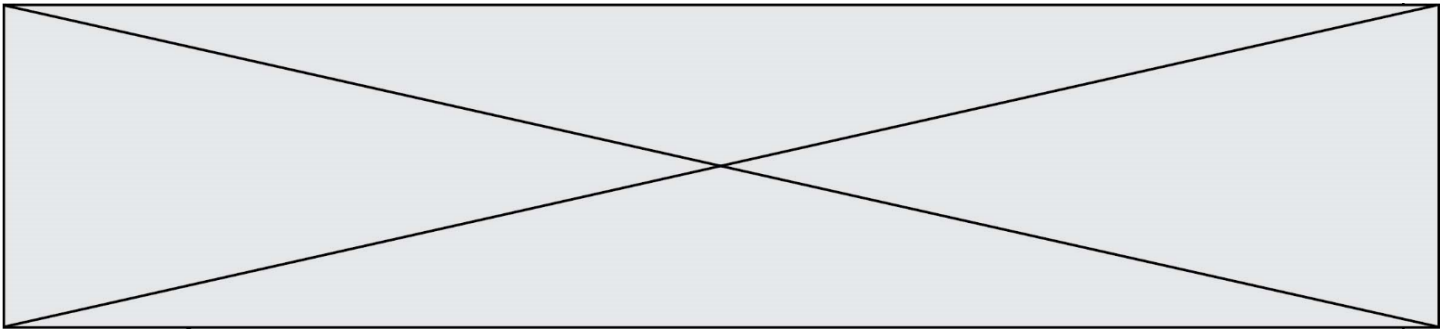
PARTIE 1 – fonctionnement des sphères

Document 1 : fonctionnement général et paramètres des sphères

Chacune de ces sphères est connectée à un système de production d'électricité (ferme éolienne, ferme solaire...).

Lors des périodes de forte production d'énergie, l'énergie électrique excédentaire qui ne peut être injectée dans le réseau est utilisée pour faire fonctionner des pompes qui expulsent l'eau présente à l'intérieur des sphères. À l'inverse, en période de faible production, on laisse l'eau s'engouffrer dans les sphères à travers un jeu de turbines qui génèrent de l'énergie électrique.

L'objectif de ce projet est que chacune sphères soit en mesure de stocker 20 MWh.

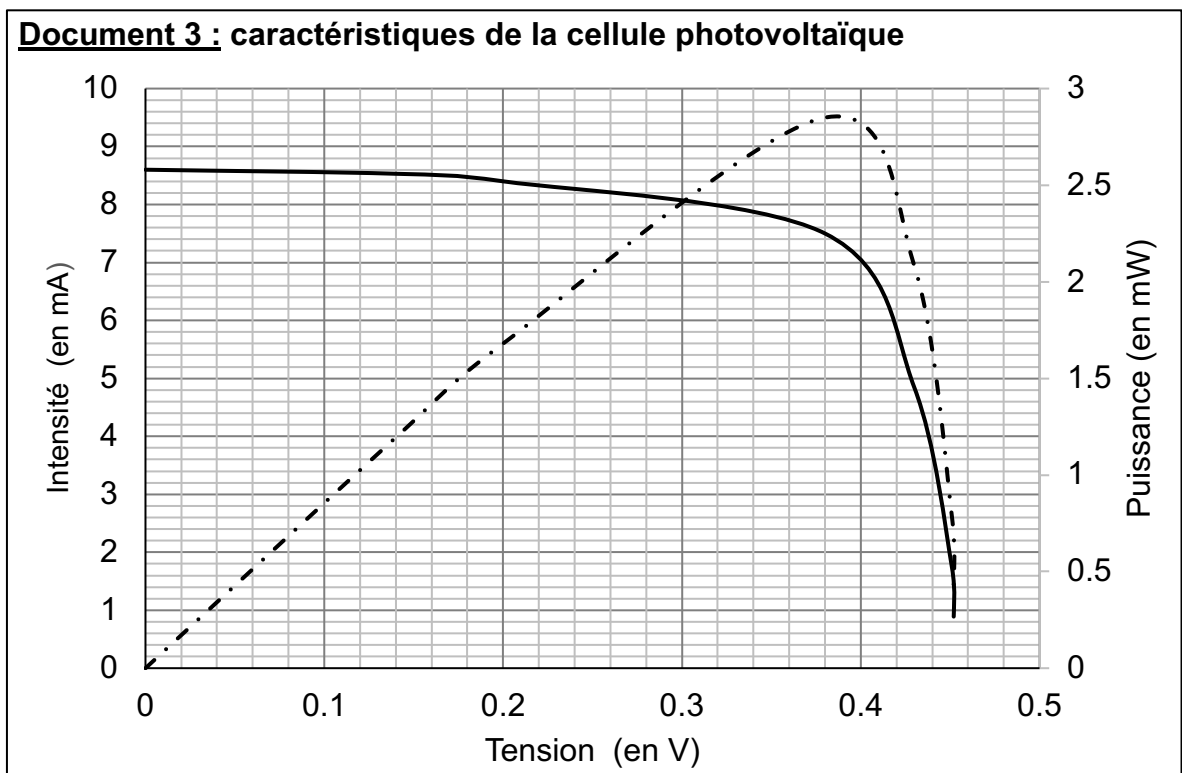



3- Calculer le rendement de l'opération de stockage d'énergie réalisée par l'une des sphères.

PARTIE 2 - Alimentation des sphères par une ferme photovoltaïque

Les sphères immergées sont reliées à une ferme solaire. On se propose d'étudier le fonctionnement d'une cellule photovoltaïque, élément de base de chaque panneau photovoltaïque de la ferme solaire.

Grâce aux mesures réalisées aux bornes de la cellule, on trace la caractéristique tension - intensité (en trait plein) et la caractéristique tension - puissance (en pointillé).



Modèle CCYC : ©DNE																				
Nom de famille (naissance) : <i>(Suivi s'il y a lieu, du nom d'usage)</i>																				
Prénom(s) :																				
N° candidat :											N° d'inscription :									
 Liberté • Égalité • Fraternité RÉPUBLIQUE FRANÇAISE	(Les numéros figurent sur la convocation.)																			
Né(e) le :			/			/														

1.1

- 4-** Déterminer graphiquement la valeur de la puissance maximale P_{\max} .
- 5-** En déduire la valeur de l'intensité maximale I_{\max} et celle de la tension maximale U_{\max} .
- 6-** En déduire que la valeur de la résistance du récepteur à utiliser avec le panneau pour fonctionnement optimal est environ égale à 50Ω .

PARTIE 3 - Conclusion

7- Rédiger un paragraphe argumenté d'une dizaine de lignes environ expliquant en quoi cette association sphères immergées -panneaux solaires permet de « pallier l'intermittence des énergies » mais n'est pas sans impact sur l'environnement et la biodiversité.

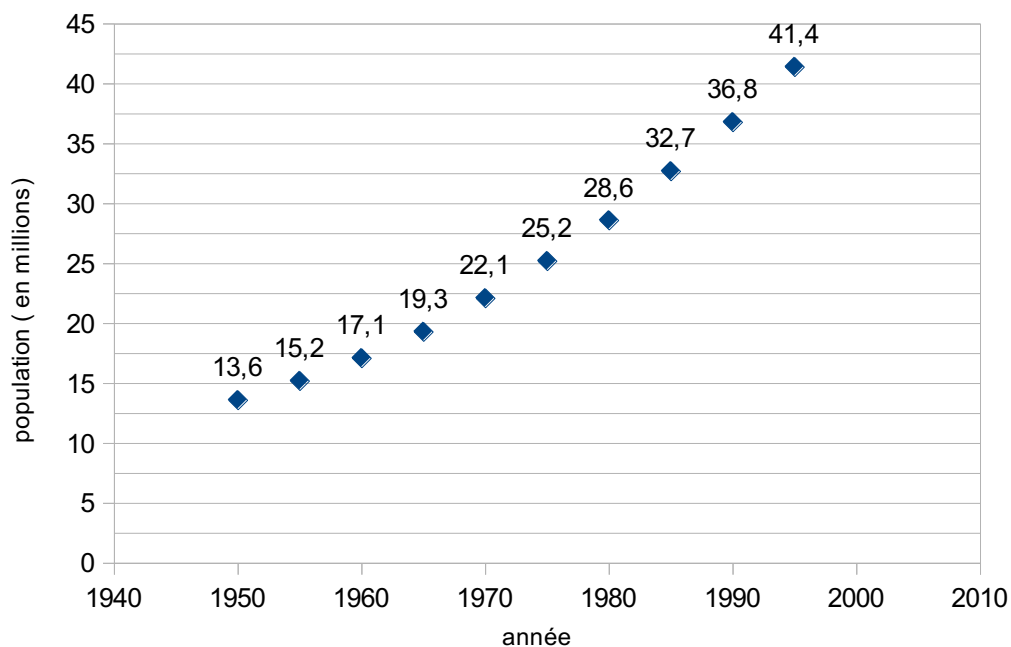
Fin de l'exercice

Exercice 2 - Étude démographique de la population en Afrique du Sud

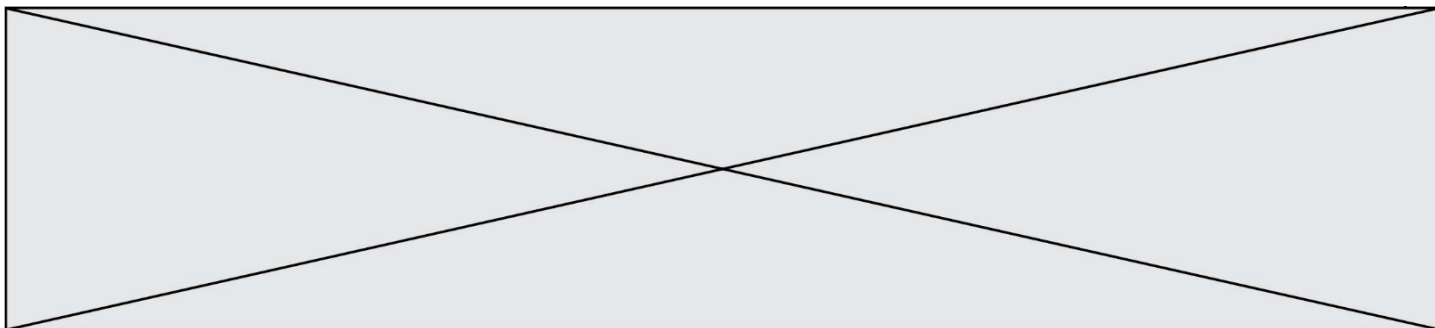
Noté sur 10 points

Cet exercice a pour objet l'étude démographique d'une population.

Document 1 : effectifs de la population en Afrique du Sud depuis 1950



D'après World population prospects



En 1950, l'Afrique du Sud est peuplée de 13,6 millions d'habitants.

Entre 1950 et 1990, on a constaté que la population sud-africaine a augmenté en moyenne, d'une année sur l'autre, de 2,5%.

On modélise la population sud-africaine à l'aide d'une suite u .

On note $u(0)$ le nombre d'habitants en Afrique du Sud en 1950 et $u(n)$ la population d'Afrique du Sud n années après 1950.

Ainsi $u(1)$ est le nombre d'habitants en 1951.

1- Justifier que l'on a la relation : $u(n+1) = 1,025 \times u(n)$ pour n entier naturel.

2- Vérifier qu'à l'aide de ce modèle, la population sud-africaine en 1951 est estimée à environ 13,9 millions d'habitants.

3- À l'aide de ce modèle, estimer le nombre d'habitants en 1995 et comparer avec la valeur donnée sur le document 1.

Indiquer si la modélisation de la variation de la population sud-africaine semble satisfaisante et justifier la réponse.

4- Selon ce modèle, indiquer à partir de quelle année la population d'Afrique du sud dépassera 50 millions d'habitants.

5- La population d'Afrique du Sud comptait respectivement 44 millions d'habitants en 2000 et 45,3 millions en 2005.

Compléter avec ces données le graphique fourni **en annexe (à rendre avec la copie)**.

Indiquer si ces données sont conformes au modèle proposé. Justifier la réponse.

6- En utilisant le document 2, justifier que le taux d'accroissement annuel moyen en 1970 est de 2,4 %.

7- Au regard du document 2, on émet l'hypothèse qu'à partir de 1950, le taux de mortalité de la population diminue de 3 points sur mille tous les 10 ans. Calculer les taux de mortalité attendus en 1990 et 2000. Les comparer aux valeurs réelles.

8- À partir de 1995, la population sud-africaine n'a plus suivi la variation prévue par ce dernier modèle. À l'aide des documents 2 et 3, donner des arguments permettant d'expliquer ce phénomène.

