

Modèle CCYC : ©DNE

Nom de famille (naissance) :


(Suivi s'il y a lieu, du nom d'usage)

Prénom(s) :

N° candidat : N° d'inscription :

(Les numéros figurent sur la convocation.)

Né(e) le : / /



1.1

ÉVALUATIONS COMMUNES

CLASSE :

EC : EC1 EC2 EC3

VOIE : Générale Technologique Toutes voies (LV)

ENSEIGNEMENT : Enseignement scientifique

DURÉE DE L'ÉPREUVE : --2h--

Niveaux visés (LV) : LVA LVB

CALCULATRICE AUTORISÉE : Oui Non

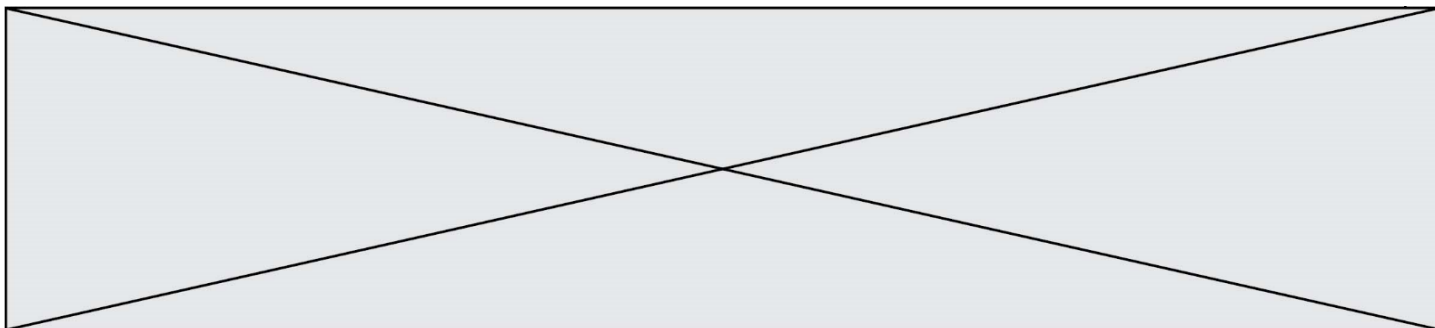
DICTIONNAIRE AUTORISÉ : Oui Non

Ce sujet contient des parties à rendre par le candidat avec sa copie. De ce fait, il ne peut être dupliqué et doit être imprimé pour chaque candidat afin d'assurer ensuite sa bonne numérisation.

Ce sujet intègre des éléments en couleur. S'il est choisi par l'équipe pédagogique, il est nécessaire que chaque élève dispose d'une impression en couleur.

Ce sujet contient des pièces jointes de type audio ou vidéo qu'il faudra télécharger et jouer le jour de l'épreuve.

Nombre total de pages : 7



Exercice 1 - La solution hydrogène

Sur 10 points

On s'intéresse à deux modes de production d'électricité (la production éolienne et la production nucléaire) puis au stockage du dihydrogène.

Document 1 : produire de l'électricité avec le vent

Une éolienne utilise la force du vent pour produire de l'électricité. Celui-ci actionne les pales de l'éolienne, ce qui entraîne un alternateur. La production électrique est instantanée, mais intermittente, et dépend de la vitesse du vent. Le problème principal de ce type de production d'électricité est son intégration au réseau. Un surplus de production peut perturber gravement le réseau de transport d'électricité : si trop d'énergie électrique est injectée sur le réseau par rapport à la demande d'énergie, cela peut entraîner une instabilité du réseau, pouvant aller jusqu'à la déconnexion des centrales.

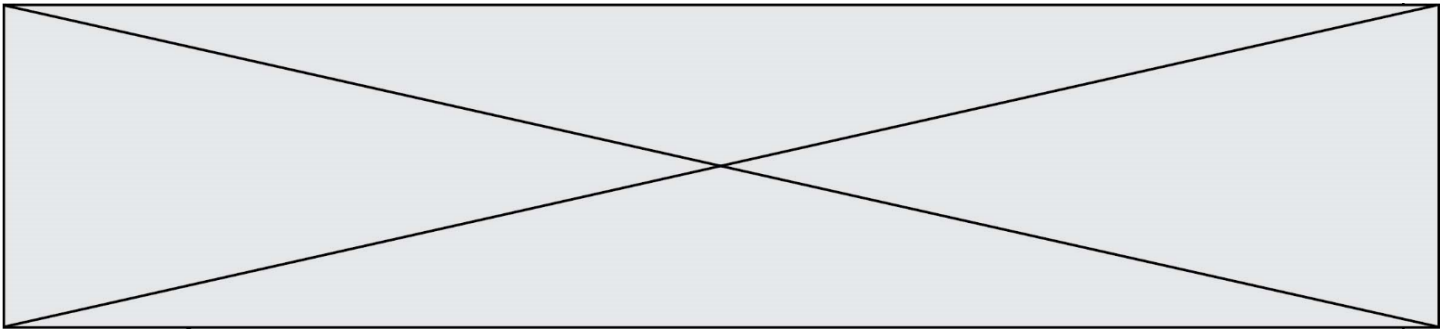
D'après le ministère de la transition écologique, la production d'électricité éolienne a représenté 6,9 % de la production totale en France pour le 1er trimestre 2019. La production électrique éolienne est entièrement automatisée et nécessite peu de maintenance. Le rendement d'une éolienne est d'environ 35 %.

Document 2 : les centrales nucléaires

En 2019, en France, la part du nucléaire s'élevait à 70,6 % de la production électrique totale en France.

La production d'électricité par une centrale nucléaire est basée sur la fission d'un combustible nucléaire. Cette fission dégage de l'énergie qui sert à produire de la vapeur, qui entraîne une turbine reliée à un alternateur. La fission de sept grammes d'uranium produit autant d'énergie que la combustion d'une tonne de charbon. Ce type de centrale peut fonctionner quasiment en continu, mais une fois à l'arrêt, il faut plusieurs jours pour relancer la production d'électricité. Une centrale nucléaire a un rendement d'environ 30 %.

Comme toute activité industrielle, les centrales nucléaires génèrent des déchets, dont certains sont radioactifs. Aujourd'hui, des solutions techniques existent pour la gestion de tous les déchets radioactifs, mais cela exige une sûreté très importante des installations. Les déchets « à vie courte » sont triés selon leur niveau de radioactivité et leur nature, conditionnés et stockés dans les centres de l'ANDRA. Les déchets « à vie longue » issus du traitement du combustible utilisé sont vitrifiés en blocs inaltérables et entreposés dans l'usine Areva NC de La Hague dans l'attente du stockage géologique en profondeur qui constituera une solution définitive de



EHT développé au Commissariat à l'Énergie Atomique (CEA). Si cette solution venait à se généraliser, l'impact des électrolyseurs sur le réseau électrique serait non négligeable. D'où l'idée d'utiliser les surplus d'électricité des sources intermittentes, ou pourquoi pas recourir à de petits réacteurs nucléaires modulaires hybrides. Car dès 2025, il faudra pouvoir produire 4 à 5 millions de tonnes de dihydrogène par an.

D'après « Les défis du CEA » n°241

6- Expliquer en quoi le stockage du dihydrogène apporte un élément de réponse au problème de l'instabilité du réseau de transport d'électricité liée à la production intermittente d'énergie électrique par les éoliennes.

7- Préciser si le document 3 fournit suffisamment de données pour comparer les émissions de CO₂ par combustion d'hydrogène et par combustion d'hydrocarbures, pour une énergie thermique produite donnée. Si ce n'est pas le cas, indiquer les données manquantes nécessaires pour effectuer cette comparaison (on ne demande pas les valeurs de ces paramètres).

Fin de l'exercice


Modèle CCYC : ©DNE
Nom de famille (*naissance*) :
(Suivi s'il y a lieu, du nom d'usage)

Prénom(s) :

N° candidat : **N° d'inscription** :

(Les numéros figurent sur la convocation.)

Né(e) le : / /


Liberté • Égalité • Fraternité
RÉPUBLIQUE FRANÇAISE

1.1

Exercice 2 - Des moustiques résistants aux insecticides

Sur 10 points

La calculatrice est autorisée

De 1968 à 2002, la population de moustiques *Culex pipiens* a été contrôlée dans le sud de la France par l'épandage d'insecticides sur les étendues d'eau dans lesquelles se développent leurs larves.

On s'intéresse à la résistance développée par certains moustiques à ces insecticides dans la région de Montpellier.

Document 1 : résistance de *Culex pipiens* aux insecticides.

Des insecticides organophosphorés ont été utilisés pour lutter contre le moustique *Culex pipiens*. Certains moustiques y sont devenus résistants. L'étude du génome du moustique a montré que le moustique possédait un gène codant une molécule (enzyme), sous deux allèles :

- l'allèle R (résistance) conférant la capacité de résister aux insecticides ;
- l'allèle S (sensible).

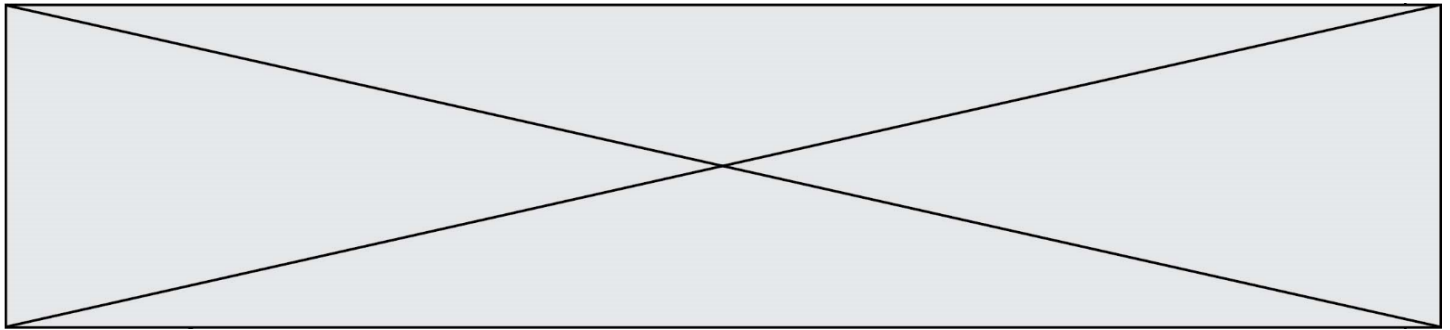
On observe que la quantité de cette enzyme produite dépend du génotype du moustique. On constate que la quantité de celle-ci est ainsi 500 fois plus importante chez un moustique résistant que chez un moustique sensible.

Document 2 : action de l'enzyme sur un insecticide, le parathion.

Le parathion est, comme tous les insecticides organophosphorés, une molécule qui altère le fonctionnement du système nerveux du moustique entraînant sa mort. Pour qu'il soit efficace, il doit pénétrer dans l'organisme de l'insecte et atteindre son système nerveux.

Chez le moustique résistant au parathion, on peut schématiser ainsi l'action de l'enzyme évoquée dans le document 1 :



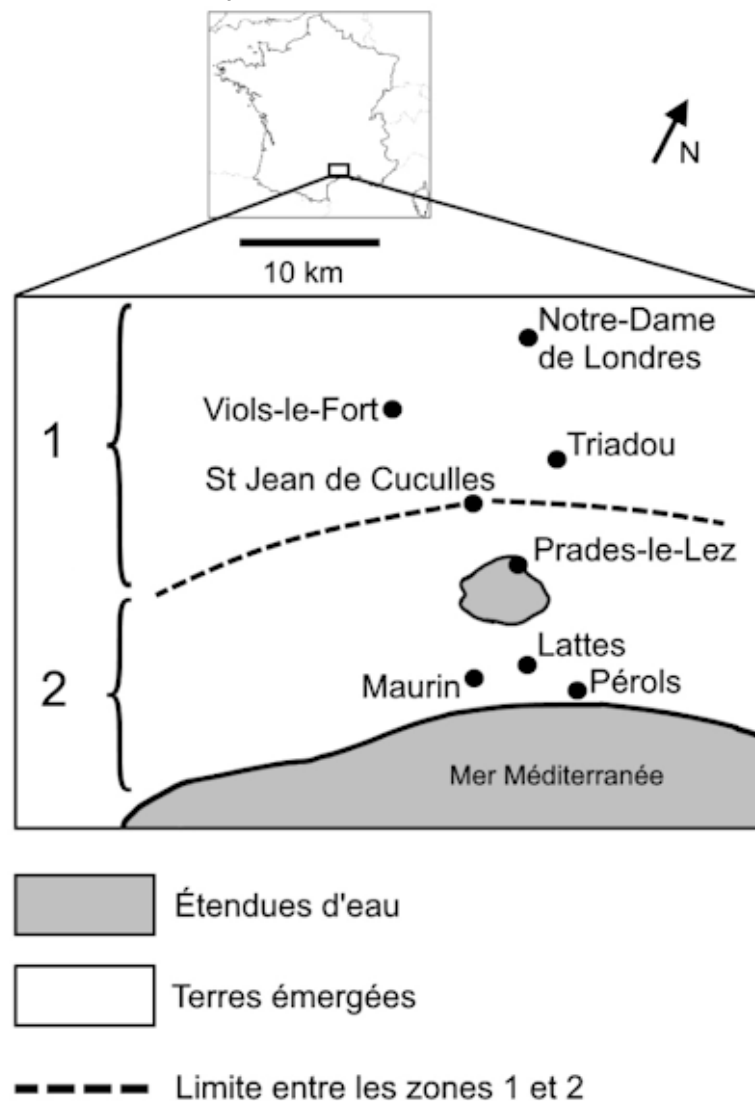


Document 3 : échantillonnage d'une population de moustiques dans la région de Montpellier

La carte ci-dessous définit les différentes zones exposées ou non aux insecticides organophosphorés.

La zone 1, située au nord, n'a jamais été traitée avec des insecticides organophosphorés.

La zone 2, située au sud, a été traitée avec des insecticides organophosphorés depuis 1968. À cette époque, ces insecticides étaient très efficaces dans cette zone et tuaient la majorité des moustiques.



D'après www.acces.ens-lyon.fr

Modèle CCYC : ©DNE

Nom de famille (naissance) :


(Suivi s'il y a lieu, du nom d'usage)

Prénom(s) :

N° candidat : N° d'inscription :

(Les numéros figurent sur la convocation.)

Né(e) le : / /



RÉPUBLIQUE FRANÇAISE

1.1

En 1980, un échantillonnage a été réalisé dans une population de moustiques située à Maurin (zone 2) afin d'étudier la structure génétique de cette population.

Les résultats de cette étude sont résumés dans le tableau ci-dessous.

Génotypes concernant le gène de résistance à l'insecticide (doc. 1)	R//R	R//S	S//S	Total
Résistance à l'insecticide	oui	oui	non	
Nombre de moustiques	90	284	70	444
Fréquence génotypique observée	0,20	0,64	0,16	1

Questions :

1- À partir des documents 1 et 2 et de vos connaissances, expliquer l'acquisition de la résistance au parathion de certains moustiques.

2- À partir du document 3, vérifier que la structure génétique de la population n'est pas à l'équilibre de Hardy-Weinberg. Pour ce faire, on comparera les fréquences génotypiques observées dans la population de moustique aux fréquences génotypiques que vous calculerez selon le modèle de Hardy-Weinberg.

Rappel du modèle de Hardy-Weinberg :

Soient A1 et A2 deux allèles d'un même gène, avec p la fréquence de l'allèle A1 et q la fréquence de l'allèle A2 et $p + q = 1$, les fréquences génotypiques sont :

p^2 = fréquence du génotype A1//A1

$2pq$ = fréquence du génotype A1//A2

q^2 = fréquence du génotype A2//A2

3- Expliquer les raisons pour lesquelles la structure génétique de la population n'est pas à l'équilibre de Hardy-Weinberg.

Fin de l'exercice