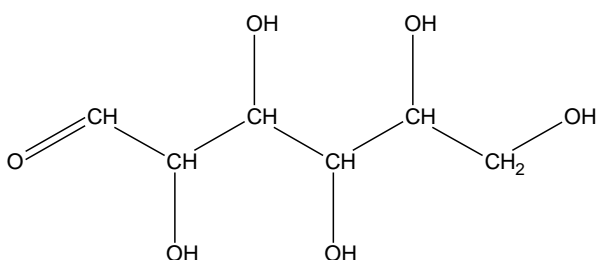




Exercice 1 : Diagnostic d'un diabète gestationnel (5 points)

La femme enceinte doit subir différents examens au cours de sa grossesse, elle doit notamment surveiller sa glycémie (taux de glucose dans le sang) et sa glycosurie (taux de glucose dans les urines).

Document 1 : Représentation de quelques molécules d'intérêt biologique	
Glucose	
Acide oléique	$\text{CH}_3-(\text{CH}_2)_7-\text{CH}=\text{CH}-(\text{CH}_2)_7-\text{COOH}$
Acide palmitique	$\text{CH}_3-(\text{CH}_2)_{14}-\text{COOH}$

Document 2 : Glycosurie et grossesse
<p>Habituellement, on ne trouve pas ou très peu de glucose dans les urines. On considère que le taux de glucose dans les urines est normal s'il se situe en dessous de $150 \text{ mg}\cdot\text{L}^{-1}$.</p> <p>Si la glycosurie se situe au dessus des normes, cela peut notamment être le signe d'un diabète gestationnel chez la femme enceinte qui se confirmera par une hyperglycémie (glycémie supérieure à la normale).</p> <p>Quelques modifications du régime alimentaire sont souvent suffisantes pour maintenir la glycémie à des taux acceptables, et pour que la mère et l'enfant se portent bien.</p> <p>Par exemple, il faut surveiller les apports quotidiens en glucides (sucres contenus en particulier dans les sodas, les sirops, les bonbons, les confitures, les compotes) et manger moins d'aliments riches en acides gras saturés (crème, gras contenu dans les viandes grasses, les charcuteries, huile de palme, etc...).</p> <p>L'alimentation doit bien sûr respecter les besoins nutritionnels de la femme enceinte et un suivi par un médecin nutritionniste ou un diététicien est recommandé.</p> <p>En respectant ces recommandations, cela permet la diminution des malformations comme la macrosomie (enfant de poids trop élevé) et des complications périnatales (autour de la période d'accouchement).</p> <p><i>d'après https://www.passeportsante.net/</i></p>



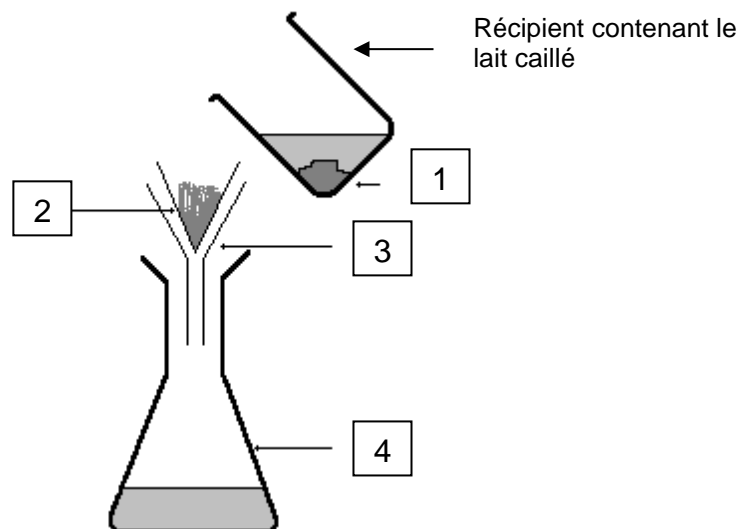
8. En déduire si le médecin va recommander à la femme enceinte de privilégier la cuisine au beurre ou la cuisine à l'huile d'olive. Expliciter la réponse.

Exercice 2 : Le lait de soja, une alternative au lait de vache (5 points)

Le lait de soja est une boisson végétale produite à base de graines de soja et d'eau. Son aspect et sa texture sont proches de celle d'un lait d'origine animale. Il est utilisé comme substitut du lait de vache dans certains régimes alimentaires. Il est notamment très apprécié des végétariens et des végétaliens, comme source de protéines.

Afin de valider la substitution du lait de vache par le lait de soja dans un régime alimentaire, on réalise une étude comparative de la composition d'un lait de vache entier et d'un lait de soja. Pour cela, on effectue quelques tests de reconnaissance d'espèces chimiques sur ces deux laits.

Document 1 : Séparation du caillé et du petit lait



Modèle CCYC : ©DNE

Nom de famille (naissance) :

(Suivi s'il y a lieu, du nom d'usage)

Prénom(s) :

N° candidat :

N° d'inscription :



Liberté • Égalité • Fraternité
RÉPUBLIQUE FRANÇAISE

Né(e) le :

(Les numéros figurent sur la convocation.)

1.1

Document 2 : Résultats des tests de reconnaissance de quelques espèces chimiques dans le lait de vache et le lait de soja

Espèce chimique	Lactose*	Protéines	Lipides	Ions calcium* Ca ²⁺
Réactif	Liquueur de Fehling (solution bleue)	Test du Biuret : sulfate de cuivre (solution bleue) + soude	Rouge Soudan	Oxalate d'ammonium (solution incolore)
Résultat avec le lait de vache	Test positif	Test positif	Test positif	Test positif
Résultat avec le lait de soja	Test négatif	Test positif	Test positif	Test négatif

* Les tests de reconnaissance du lactose et des ions calcium sont effectués sur le petit lait, solution aqueuse de couleur jaunâtre.

Document 3 : Informations extraites d'étiquettes concernant deux laits différents

Etiquette 1		Etiquette 2	
Valeurs nutritionnelles moyennes (pour 100 mL)		Valeurs nutritionnelles moyennes (pour 100 mL)	
Energie	269 kJ (64 kcal)	Energie	155 kJ (37 kcal)
Protides	3,2 g	Protides	3,7 g
Glucides	4,8 g	Glucides	0,4 g
Lactose	4,5 g – 5 g	Lactose	0
Lipides	3,6 g	Lipides	2,2 g
Calcium	120 mg	Calcium	0
Fer	0,028 mg	Fer	0,72 mg

Après avoir fait cailler le lait, on sépare le caillé du petit lait selon une technique schématisée dans le **document 1**.

1. Nommer la technique utilisée et préciser le nom de chacun des quatre éléments numérotés indiqués sur le schéma du **document 1**, en portant à côté de chaque nom le numéro correspondant.

2. Expliquer pourquoi le test des ions calcium doit être effectué sur le petit lait et non sur le lait.

3. À l'aide **du document 2**, indiquer à quelle étiquette correspond le lait de soja. Justifier soigneusement la réponse grâce à deux arguments au moins.



4. À l'aide d'informations extraites des étiquettes de deux laits différents, donner les arguments permettant de comprendre pourquoi le lait auquel correspond l'étiquette n°1 est plus énergétique.

5. Les apports journaliers de fer recommandés pour l'homme adulte correspondent à une masse de fer de 10 mg. Calculer le volume de lait de soja nécessaire pour couvrir ce besoin.

Le lactose est un glucide naturellement présent dans un lait d'origine animale. Lorsqu'il est consommé, le lactose $C_{12}H_{22}O_{11}$ réagit avec l'eau pour donner du glucose et du galactose, deux oses assimilés par l'organisme et de même formule brute $C_6H_{12}O_6$. Cette transformation n'est possible qu'en présence d'une quantité suffisante de lactase, enzyme présente dans les intestins. Si le lactose circule dans l'intestin sans être digéré, il engendre des symptômes comme une sensation de gonflement, des maux de ventre, des nausées et de la diarrhée.

6. Écrire l'équation de la réaction du lactose avec l'eau et nommer ce type de réaction.

7. Indiquer la raison pour laquelle certaines personnes digèrent mal le lactose.

8. Expliquer pourquoi le lait de soja peut constituer une alternative au lait de vache pour ces personnes.

Exercice 3 : les risques encourus par l'usage d'un appareil électrique défectueux (5 points)

L'électricien des services techniques de l'hôpital est en intervention dans une pièce du sous-sol. Afin d'éclairer les lieux, il tient dans une main une baladeuse c'est-à-dire une lampe électrique portative puis il saisit avec l'autre main la porte d'un autoclave dédié à la stérilisation du matériel médical. Dès qu'il touche cette porte, il est très rapidement projeté en arrière et perd connaissance. Le disjoncteur coupe alors le circuit électrique au bout de 200 ms.

Un médecin réanime la victime après avoir débranché la baladeuse et écarté la main crispée de l'électricien de cette dernière. L'enquête permet d'établir que cette lampe baladeuse n'est pas conforme aux normes électriques NF C15-100. L'isolation des conducteurs d'alimentation de cette dernière est détériorée au niveau de leur entrée dans le manche de la lampe.

L'objectif de cet exercice est de comprendre les constatations du médecin ayant secouru l'électricien.

Document 1 : Enregistrements de signaux de la vie quotidienne

Modèle CCYC : ©DNE

Nom de famille (naissance) :

(Suivi s'il y a lieu, du nom d'usage)

Prénom(s) :

N° candidat :

N° d'inscription :



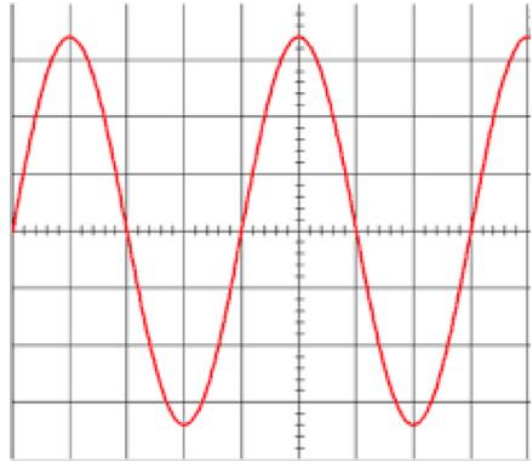
Né(e) le :

(Les numéros figurent sur la convocation.)

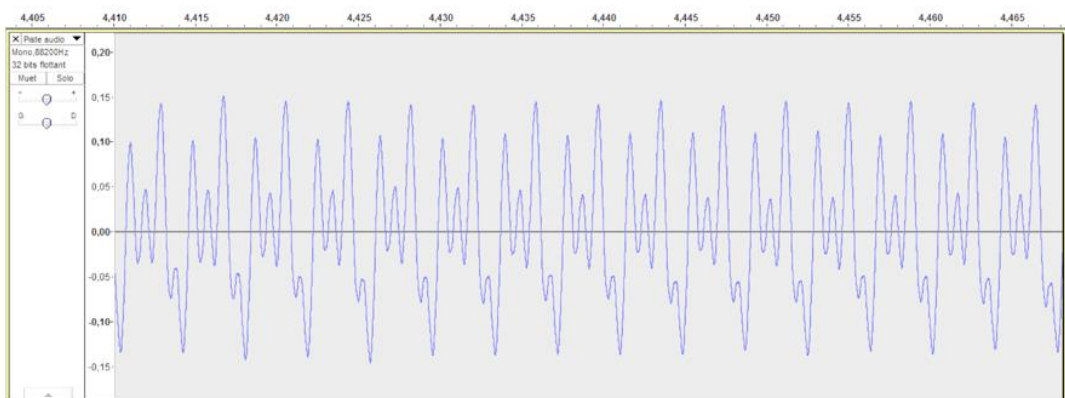
1.1



1 : Enregistrement d'un électrocardiogramme



2 : Oscillogramme d'un signal inconnu



3 : Enregistrement de la note Do3 d'un orgue

Réglages réalisés sur l'oscilloscope de la figure 2 :

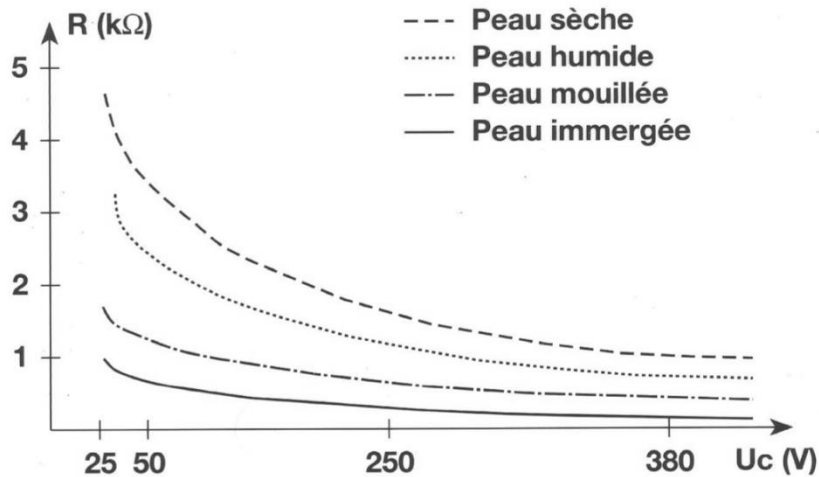
- sensibilité verticale : 100 V / div
- base de temps : 5 ms / div

Document 2 : La résistance du corps humain en fonction de la tension de contact U_c et de l'état de la peau (d'après <http://www.ac-poitiers.fr>)

Le corps humain, est conducteur du courant électrique. Si une personne est soumise à une tension électrique, par exemple entre sa main droite et sa main gauche, ou entre sa main et le sol, un courant électrique va traverser son corps. La résistance électrique du corps humain varie et dépend de plusieurs paramètres : type de courant, intensité du courant, durée du passage du courant, état de la peau (sèche, humide, mouillée), nature du sol, capacité d'isolation des chaussures portées, etc. On peut considérer que la résistance moyenne du corps humain est de l'ordre de 2 k Ω . Le graphique suivant indique les variations de la résistance du corps humain en fonction de la tension de contact et de l'état de la peau.

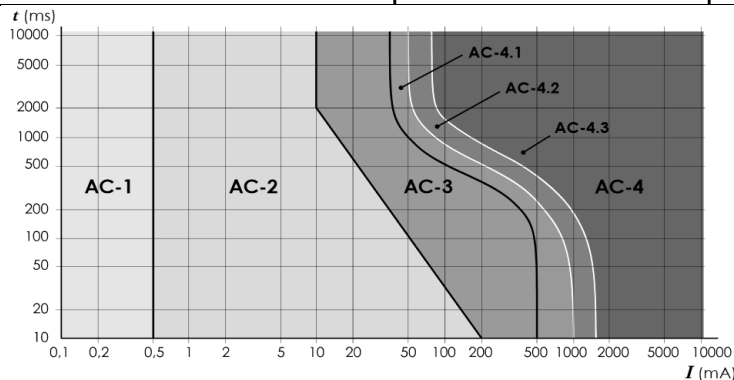


RÉSISTANCE DU CORPS HUMAIN



Document 3 : Effets physiologiques du courant sur le corps humain

Les données ci-dessous explicitent les effets physiologiques du courant alternatif en fonction de l'intensité du courant électrique et de la durée d'exposition



Zone	Principaux effets physiologiques constatés
AC-1	Aucune réaction
AC-2	Sensations désagréables mais pas d'effets physiologiques dangereux
AC-3	Tétanisation musculaire avec risque de paralysie respiratoire mais sans fibrillation ventriculaire
AC-4	Fibrillation ventriculaire, possibilités d'arrêt respiratoire, d'arrêt cardiaque, de brûlures graves, etc

Document 4 : Schéma de principe d'une installation électrique

Modèle CCYC : ©DNE

Nom de famille (naissance) :

(Suivi s'il y a lieu, du nom d'usage)

Prénom(s) :

N° candidat :

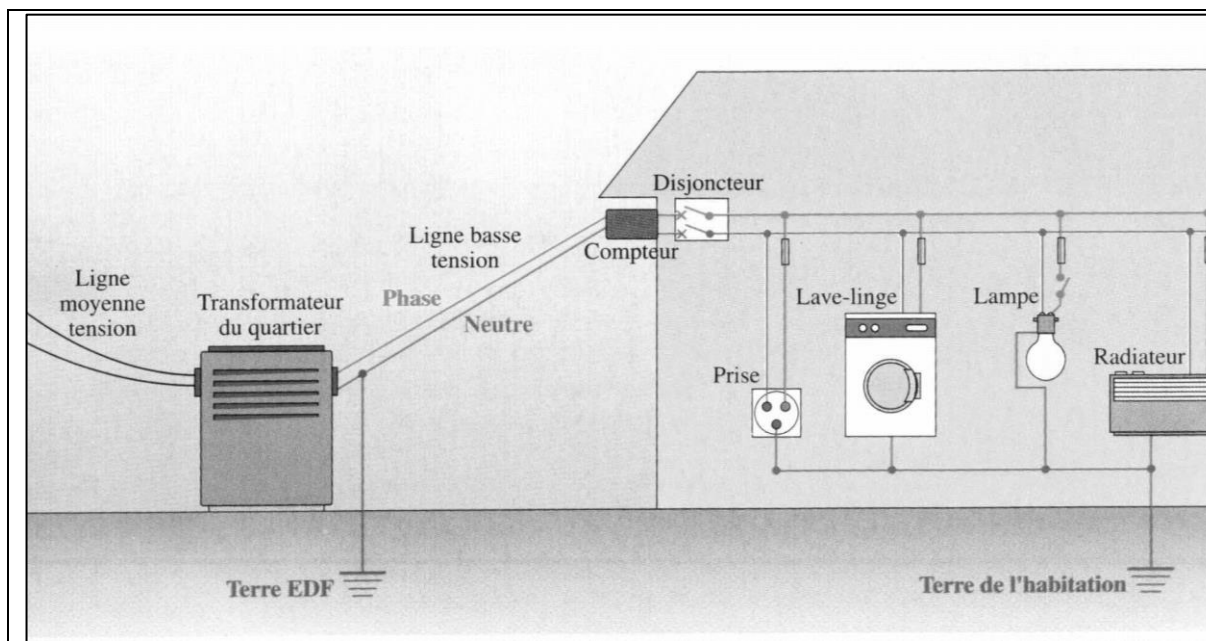
N° d'inscription :



Né(e) le :

(Les numéros figurent sur la convocation.)

1.1



Donnée :

Loi d'Ohm reliant la tension U exprimée en volt (V) aux bornes d'un dipôle, l'intensité I exprimée en ampère (A) du courant qui le traverse et la résistance R exprimée en ohm (Ω) du dipôle étudié : $U = R \times I$.

1. Citer une propriété commune aux trois signaux représentés sur le **document 1**, relativement à l'allure de ces signaux.
2. Expliciter les calculs de la fréquence et de la tension efficace du signal inconnu à partir de son oscillogramme figurant dans le **document 1**, et conclure qu'il peut s'agir de l'oscillogramme de la tension du secteur.

Le risque électrique est lié à la résistance du corps humain qui peut varier en fonction de l'individu et de l'état de la peau. Lors de son accident, l'électricien se trouvait dans un local parfaitement sec et sa peau était sèche lorsqu'il est entré en contact avec la phase du secteur.

3. Évaluer, en exploitant le **document 2**, la valeur approchée de l'intensité du courant (exprimée en milliampère) ayant traversé le corps de l'électricien.
4. À l'aide de l'étude précédente et du **document 3**, déduire la nature des constatations effectuées par le médecin lors de l'accident de l'électricien.
5. Citer deux règles de sécurité, dans la vie quotidienne à la maison, à respecter afin d'éviter les risques d'électrisation.

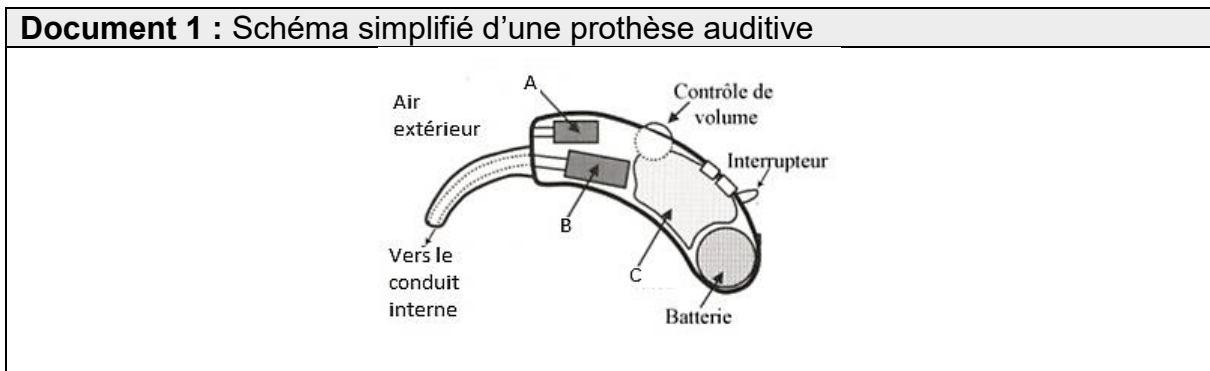


6. Identifier, sur le schéma de l'installation électrique figurée sur le **document 4**, les éléments utilisés afin de protéger les usagers du réseau électrique.

Exercice 4 : L'appareillage auditif (5 points)

À la fois puissantes et discrètes, les prothèses auditives sont aujourd'hui efficaces et faciles d'utilisation. Elles ont évolué au même rythme que les avancées technologiques. De l'appareil d'entrée de gamme à des modèles plus sophistiqués, les prothèses auditives actuelles ont une excellente qualité de restitution sonore.

Document 1 : Schéma simplifié d'une prothèse auditive



Modèle CCYC : ©DNE

Nom de famille (naissance) :

(Suivi s'il y a lieu, du nom d'usage)

Prénom(s) :

N° candidat :

N° d'inscription :

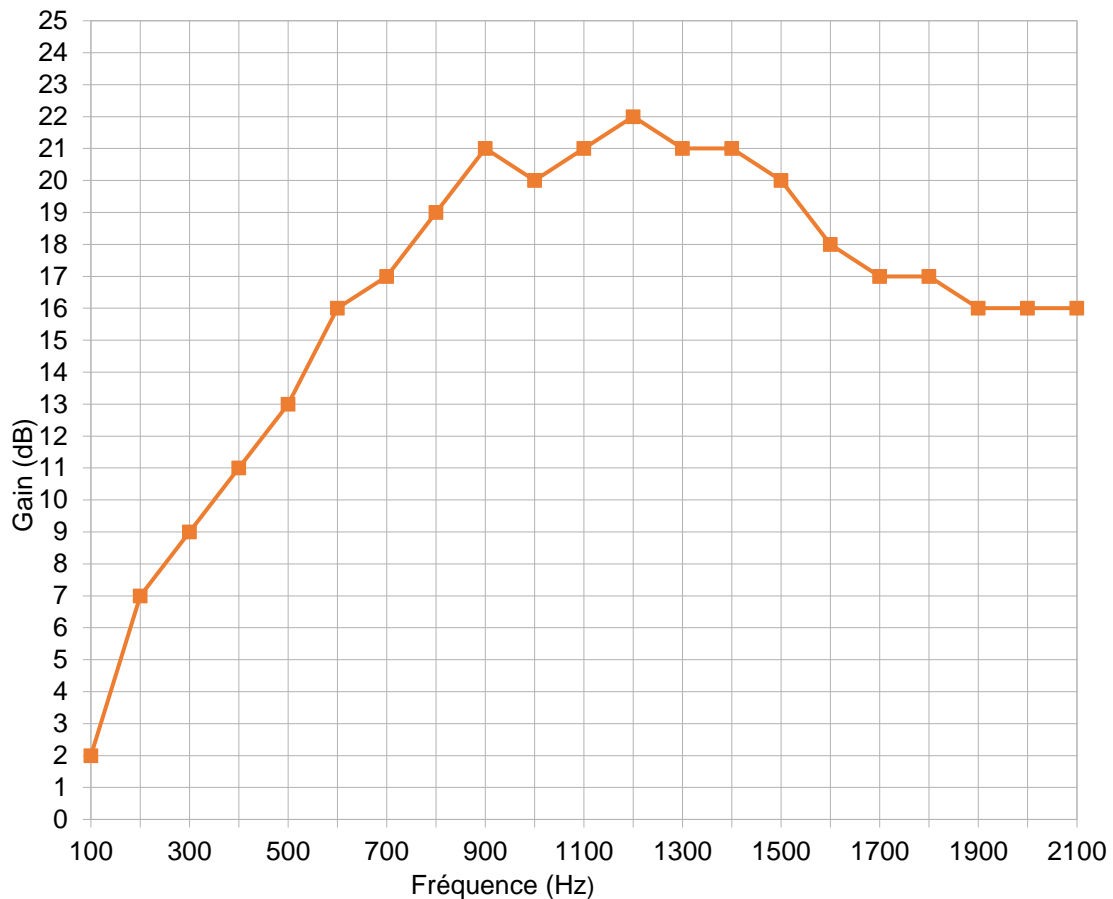


Né(e) le :

(Les numéros figurent sur la convocation.)

1.1

Document 2 : Gain de la prothèse auditive en fonction de la fréquence



Donnée :

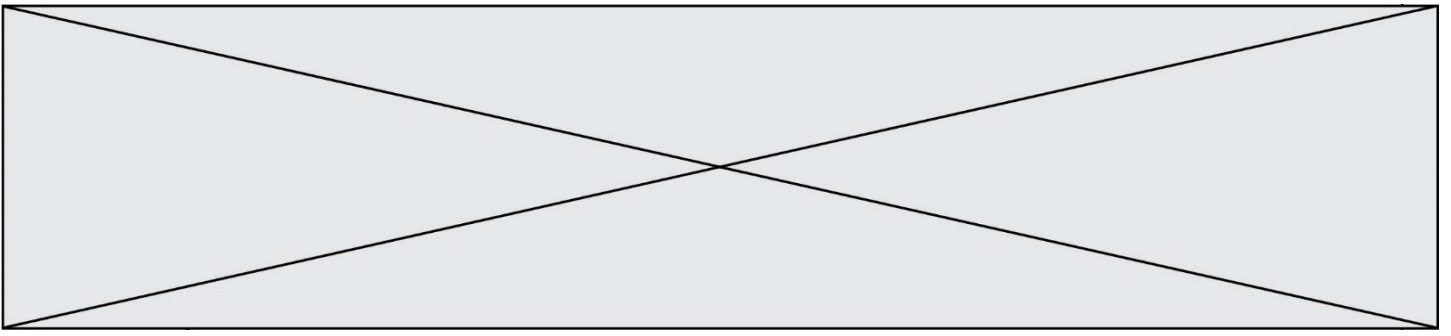
La période T d'une onde est égale à l'inverse de sa fréquence f .

1. Associer aux lettres A, B et C, figurant sur le schéma simplifié d'une prothèse auditive dans le **document 1**, les termes suivants : amplificateur ; haut-parleur et microphone.

2. Expliquer brièvement le principe de fonctionnement d'une prothèse auditive de même type que celle décrite au **document 1**.

Un fabricant de prothèses auditives effectue une série de tests avant de commercialiser une prothèse auditive. Il obtient alors la courbe tracée au **document 2**.

3. Expliquer l'intérêt de réaliser la série de tests dans la gamme de fréquence indiquée dans le **document 2**.



4. Indiquer le nom de l'unité dont le symbole est dB.
5. Calculer la période temporelle d'un son dont la fréquence est égale à 440Hz.
6. Déterminer graphiquement, en expliquant la démarche, le gain de la prothèse pour le son dont la fréquence est égale à 440 Hz.
7. Déterminer graphiquement, en expliquant la démarche, la fréquence pour laquelle la prothèse auditive est la plus efficace.