

Exercice 1 : Quels acides pour l'entretien de la maison ? (5 points)

L'air que nous respirons, les produits que nous manipulons au quotidien, les aliments que nous ingérons nous exposent de manière passive à des substances chimiques qui peuvent se révéler néfastes pour la santé et le bien-être. Si la qualité de l'air intérieur est longtemps restée oubliée, elle est aujourd'hui un des enjeux majeurs de santé publique. Nous passons en effet plus de 85 % de notre temps dans des environnements clos ce qui nous expose à de nombreux polluants : les oxydes d'azote NO_x, les biocontaminants (allergènes, moisissures, ...), les composés organiques volatils (COV). Ces derniers sont notamment présents dans les produits chimiques utilisés pour le bâtiment, le mobilier, l'agroalimentaire, l'entretien, ...

Madame X, soucieuse à la fois de nettoyer et d'assainir sa maison, de préserver la santé des siens et d'adopter une démarche citoyenne et écologique se penche sur les produits présents dans son placard. Quel serait le produit le plus intéressant à utiliser afin de détartrer le robinet en inox de son évier en polymère plastique synthétique ?

Document 1 : Le vinaigre, un détartrant naturel



Mode d'emploi : verser le vinaigre directement sur la surface à détartrer, laisser agir quelques heures puis rincer abondamment. Bien aérer la pièce. Détartrage plus efficace à chaud.

Le vinaigre est un détartrant naturel très efficace, non polluant, biodégradable et très bon marché qui permet de plus d'assainir et désodoriser la maison. Son utilisation est à bannir sur les surfaces poreuses comme le marbre, la pierre, le ciment, il les attaque. Il faut l'utiliser avec précautions sur les surfaces métalliques.

Acide

Mention d'avertissement (CLP) :

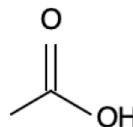


Mention de danger (CLP) :

H226 - Liquide et vapeurs inflammables.

H314 - Provoque des brûlures de la peau et des lésions oculaires graves.

source <http://www.inrs.fr/publications/bdd/fichetox.html>



Document 2 : Le détartrant « Cit'Cal » et la molécule d'acide citrique

Modèle CCYC : ©DNE

Nom de famille (naissance) :

(Suivi s'il y a lieu, du nom d'usage)

Prénom(s) :

N° candidat :

N° d'inscription :



Né(e) le :

(Les numéros figurent sur la convocation.)

1.1

CIT'CAL



ACIDE CITRIQUE

Super détartrant naturel, écologique, utilisable pour les surfaces et dans les appareils électroménagers

Usages multiples : dissout rouille, calcaire incrusté, taches tenaces (thé, brûlé, ...)

L'acide citrique est un acide végétal entièrement biodégradable. Il s'agit d'un produit naturel d'entretien de la maison aujourd'hui très prisé pour ses propriétés anti-oxydantes, anticalcaires, bactéricides, fongicides et anti-algues. L'usage de l'acide est à proscrire pour les surfaces sensibles aux acides : aluminium, marbre, email.

Mode d'emploi : dissoudre la poudre dans de l'eau chaude, laisser agir quelques minutes puis rincer abondamment.

Acide citrique

$C_6H_8O_7$

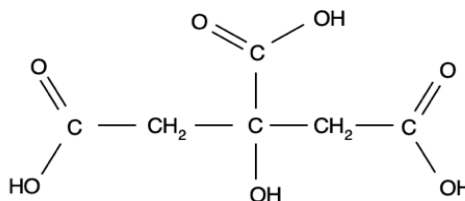
Informations de sécurité selon le SGH :



Mention(s) de danger :

H319 : provoque une sévère irritation des yeux

source <http://www.inrs.fr/publications/bdd/fichetox.html>



Document 3 : Le détartrant « Sulf'Cal » et la molécule d'acide sulfamique



Mode d'emploi : mélanger à de l'eau chaude, laisser agir cinq minutes puis rincer abondamment à l'eau. Procéder à des détartrages très réguliers.

L'acide sulfamique est un agent de nettoyage et de détartrage moins corrosif que les autres acides minéraux. Il peut donc servir au nettoyage du matériel en acier inox, en cuivre, en laiton et à l'occasion en aluminium.

Acide sulfamique

H_3NSO_3

Mention d'avertissement (CLP) :

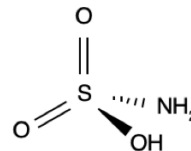


Mention de danger (CLP) :

H315 - Provoque une irritation cutanée.

H319 - Provoque une sévère irritation des yeux.

H412 - Nocif pour les organismes aquatiques, entraîne des effets néfastes à long terme.



source <http://www.inrs.fr/publications/bdd/fichetox.html>

Document 4 : Recette d'un détartrant « fait maison » pour robinetterie



Pour nettoyer le calcaire accumulé sur la robinetterie, cette recette maison est couramment utilisée :

- Dissoudre 2 à 5 cuillères à soupe* de poudre d'acide citrique dans 1 litre d'eau chaude.
- Frotter énergiquement les parties les plus entartrées ou laisser le mélange agir environ 30 min.
- Rincer abondamment.

* 1 cuillère à soupe représente un volume estimé à 15 mL.

Document 5 : Liste du matériel disponible au laboratoire

Liste du matériel disponible :

- une balance électronique,
- une spatule,
- un compte-goutte,
- une burette graduée de 25 mL,
- une coupelle de pesée,
- des tubes à essais,
- un entonnoir,
- une éprouvette graduée de 250 mL, 500 mL et 1 L,
- un bécher de 250 mL, 500 mL et 1 L,
- une fiole jaugée de 250 mL, 500,0 mL et 1,0 L,
- des pipettes graduées de 10,0 mL, 25,0 mL,
- des pipettes jaugées de 10,0 mL, 25,0 mL, 50,0 mL, 100,0 mL,
- une pissette d'eau distillée.

Données utiles :

- masse volumique de l'acide citrique $\rho = 1,66 \text{ g.mL}^{-1}$
- masses molaires atomiques en g.mol^{-1} : $M(\text{C}) = 12,0$; $M(\text{H}) = 1,0$; $M(\text{O}) = 16,0$
- formule de calcul de l'incertitude-type : $\frac{\text{écart-type}}{\sqrt{n-1}}$, n représentant le nombre de mesures effectuées

1. Le détartrant à base de vinaigre du **document 1** contient un acide pour lequel on ne dispose que de la formule topologique. Trouver le nom de cet acide et l'écrire en toutes lettres.

2. Définir un acide selon la théorie de Brönsted.

Modèle CCYC : ©DNE

Nom de famille (naissance) :

(Suivi s'il y a lieu, du nom d'usage)

Prénom(s) :

N° candidat : N° d'inscription :

(Les numéros figurent sur la convocation.)

Né(e) le : / /



RÉPUBLIQUE FRANÇAISE

1.1

3. Identifier dans les **documents 1 à 3** les différents acides utilisables pour un détartrage et comparer dans un tableau récapitulatif leurs avantages et inconvénients. Conclure, en argumentant, si Madame X dispose ou non d'un produit lui permettant d'atteindre tous ses objectifs.

Madame X achète un paquet d'acide citrique au supermarché. Elle décide de préparer un volume de 1 L de solution d'un détartrant « fait maison » en utilisant 4 cuillères à soupe d'acide citrique.

4. Indiquer le nom de la technique expérimentale que Madame X doit mettre en œuvre en suivant les indications du **document 4**. À l'aide du **document 5**, faire la liste précise (nom et éventuellement contenance) du matériel dont elle a besoin.

5. Proposer un mode opératoire qui serait écrit pour un chimiste désirant préparer précisément un volume de 1 L de solution aqueuse contenant 100 g d'acide citrique, en indiquant le matériel utilisé par le chimiste au laboratoire.

6. Calculer la valeur de la concentration massique C_m puis la valeur de la concentration molaire C en acide citrique, dans la solution préparée par Madame X.

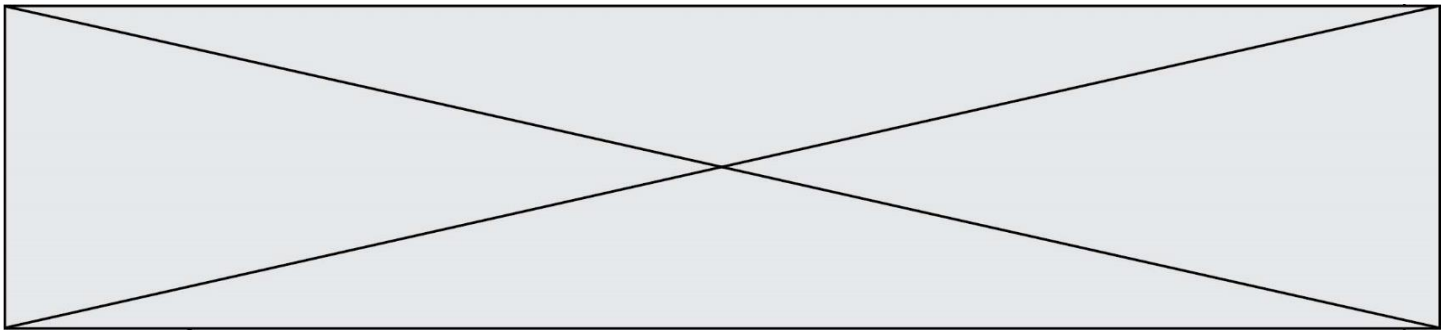
La solution de détartrant « fait maison » est diluée d'un facteur égal à 10 ; la solution obtenue fait l'objet d'une mesure de pH par des lycéens dans le cadre d'une séance d'activité expérimentale. Le tableau suivant rassemble les valeurs de pH relevées par neuf binômes :

Groupe	1	2	3	4	5	6	7	8	9
pH	2,33	2,25	2,23	2,20	2,19	2,22	2,17	2,35	2,12

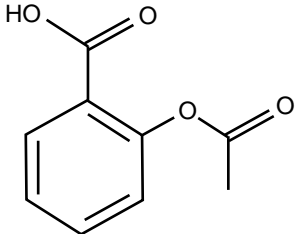
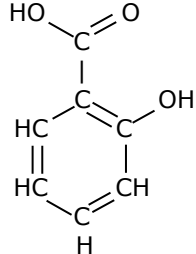
7. Calculer, en utilisant le mode « statistiques » de la calculatrice, la valeur moyenne du pH retenu et l'écart-type associé. Conclure à l'aide d'une phrase sur la valeur du pH de la solution en précisant la valeur de l'incertitude-type.

Exercice 2 : Des molécules comme principes actifs dans les médicaments (5 points)

Certaines molécules constituent des principes actifs dans les médicaments. Le **document 1** reporté en **annexe à rendre avec la copie**, regroupe les formules semi-développées de six molécules utilisées comme des principes actifs dans certains médicaments. Le **document 2** présente un éclairage sur les propriétés de quelques principes actifs couramment rencontrés.



Document 1 : Molécules utilisées dans l'industrie pharmaceutique

<i>molécule 1</i>	<i>molécule 2</i>	<i>molécule 3</i>
	$\begin{array}{c} \text{H}_3\text{C} - \text{CH} - \text{CH}_3 \\ \\ \text{CH}_2 \\ \\ \text{C} \\ / \quad \backslash \\ \text{HC} \quad \text{CH} \\ \quad \\ \text{HC} \quad \text{CH} \\ \backslash \quad / \\ \text{C} \\ \\ \text{H}_3\text{C} - \text{CH} - \text{C} = \text{O} \\ \\ \text{OH} \end{array}$	$\begin{array}{c} \text{O} \qquad \qquad \text{OH} \\ \qquad \qquad \\ \text{H}_3\text{C} - \text{C} - \text{NH} - \text{CH} - \text{C} = \text{O} \\ \\ \text{CH}_2 \\ \\ \text{H}_3\text{C} - \text{CH} - \text{CH}_3 \end{array}$
<i>molécule 4</i>	<i>molécule 5</i>	<i>molécule 6</i>
$\begin{array}{c} \text{OH} \\ \\ \text{HO} - \text{CH} - \text{C} = \text{O} \\ \\ \text{CH}_3 \end{array}$	$\begin{array}{c} \text{OH} \\ \\ \text{C} \\ / \quad \backslash \\ \text{HC} \quad \text{CH} \\ \quad \\ \text{HC} \quad \text{CH} \\ \backslash \quad / \\ \text{C} \\ \\ \text{HN} \\ \\ \text{H}_3\text{C} - \text{C} = \text{O} \end{array}$	

Document 2 : Présentation des molécules utilisées comme principe actif

L'acétyl-leucine est utilisée depuis 1957 comme médicament symptomatique des états vertigineux. Cette molécule comporte deux fonctions : une fonction acide carboxylique et une fonction amide.

L'aspirine est le nom usuel de l'acide acétylsalicylique. Cette molécule est synthétisée par transformation chimique de l'acide salicylique. Au cours de cette synthèse, il se forme la fonction ester, tandis que le reste de la molécule ne change pas.

L'ibuprofène, l'acide lactique et l'acide salicylique ont en commun la fonction acide carboxylique.

L'ibuprofène ne possède que cette fonction. L'acide lactique n'est pas cyclique.

Modèle CCYC : ©DNE

Nom de famille (naissance) :

(Suivi s'il y a lieu, du nom d'usage)

Prénom(s) :

N° candidat :

N° d'inscription :



Liberté • Égalité • Fraternité
RÉPUBLIQUE FRANÇAISE

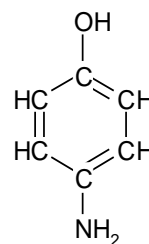
Né(e) le :

(Les numéros figurent sur la convocation.)

1.1

Le paracétamol, l'aspirine et l'ibuprofène sont des espèces chimiques utilisées en médecine pour leurs propriétés antalgique et antipyrétique. Elles constituent le principe actif de nombreux médicaments commercialisés sous des noms variés. Le paracétamol a entre autre une fonction amide.

Contrairement à l'aspirine, le paracétamol peut généralement être utilisé par les personnes qui suivent un traitement anticoagulant. La synthèse du paracétamol est effectuée par transformation chimique du para-aminophénol. Au cours de cette synthèse, le groupe amine du para-aminophénol est transformé en groupe amide, tandis que le reste de la molécule est inchangé.



Formule semi-développée du para-aminophénol

1. Donner le nom de la représentation utilisée pour la molécule 1 représentée dans le **document 1**.
2. Ecrire la formule brute de la molécule 1 représentée dans le **document 1**.
3. Entourer et nommer les fonctions présentes sur les molécules 1, 2, 3 et 4 dans l'**annexe à rendre avec la copie**.
4. Donner les noms des six principes actifs présentés dans le **document 2**.
5. Attribuer ces noms aux molécules sur les pointillés de l'**annexe à rendre avec la copie** en expliquant la démarche.
6. Calculer la masse molaire du paracétamol de formule brute $C_8H_9NO_2$.
7. Calculer la quantité de matière (en mol) dans un comprimé de paracétamol de 500 mg.

Données : Masses molaires atomiques $M_C = 12 \text{ g}\cdot\text{mol}^{-1}$; $M_H = 1 \text{ g}\cdot\text{mol}^{-1}$; $M_O = 16 \text{ g}\cdot\text{mol}^{-1}$; $M_N = 14 \text{ g}\cdot\text{mol}^{-1}$.



Exercice 3 : Histoire et mécanisme de la vision (5 points)

Document 1 : Aperçu historique des conceptions sur la vision

Pourquoi diable dit-on « jeter un coup d'œil » ou « foudroyer du regard » ? Les bizarreries de la langue française rappellent une vieille controverse : comment fonctionne la vision ? Et quel est son « sens », de l'œil à l'objet ou de l'objet à l'œil ?

La dispute scientifique remonte à l'Antiquité. En lice : deux théories, connues sous les noms d'intromission et d'émission. La première, assignant à l'œil un rôle passif, décrivait le phénomène de la vision par un quelque chose allant de l'objet à l'œil.

La seconde, octroyant à l'œil un rôle plus actif, expliquait la vision par un quelque chose allant de l'œil à l'objet.

Au III^e siècle avant J.-C., Euclide géométrisa l'optique : la lumière se propage suivant des lignes droites qu'il appelle « rayons ». Pour ce mathématicien, partisan de l'émission, des rayons visuels jaillissaient de la pupille pour partir à la rencontre de l'objet.

À l'encontre de la thèse de l'émission, en revanche, s'inscrivait l'absence de vision nocturne. Un œil émetteur aurait dû être en mesure de remplir ses fonctions même dans l'obscurité.

La mise en évidence du rôle de la lumière en tant qu'agent de la sensation visuelle allait émerger à la charnière du Xe et du XI^e siècle, grâce au mathématicien, physicien et astronome arabe Alhazen. Ses réflexions et expériences l'amènèrent à condamner sans appel la théorie de l'émission. Il expliqua le processus de la vision par des rayons de lumière parvenant à l'œil à partir de chaque point d'un objet. Mais il commit l'erreur de suggérer que l'image se forme sur le cristallin.

D'après l'article « Quand la vue change de sens » de Marie-Christine de La Souchère, *La Recherche*, 06/2010

Document 2 : Propositions de trajets suivis par la lumière permettant de voir un objet

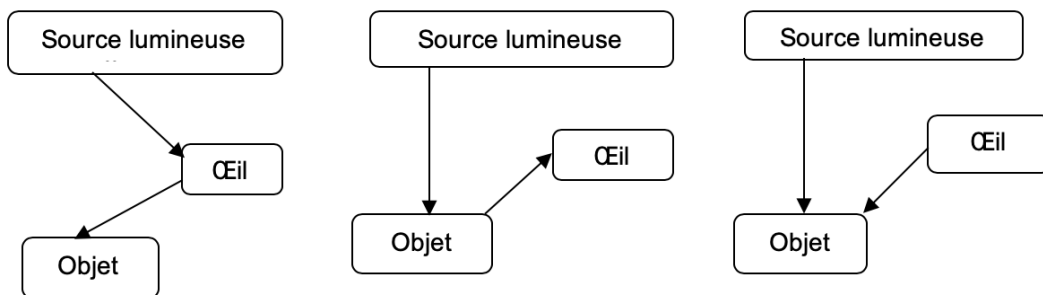


Schéma 1

Schéma 2

Schéma 3

Modèle CCYC : ©DNE																				
Nom de famille (naissance) : <small>(Suivi s'il y a lieu, du nom d'usage)</small>																				
Prénom(s) :																				
N° candidat :											N° d'inscription :									
 <small>Liberté • Égalité • Fraternité</small> <small>RÉPUBLIQUE FRANÇAISE</small>	<small>(Les numéros figurent sur la convocation.)</small>																			
	Né(e) le :			/			/													

1.1

Des questionnements sur le mécanisme de la vision divisèrent les savants pendant des siècles...

Répondre aux questions 1 et 2 en utilisant le **document 1**.

1. Citer un argument qui a remis en cause la théorie de l'émission.
2. À la charnière du Xe et du XIe siècle, le savant Alhazen a apporté une explication du processus de la vision, proche de la théorie actuelle. Donner l'explication apportée par ce savant.
3. Choisir, parmi les propositions du **document 2**, celle qui correspond à la théorie actuelle sur la vision.

D'après le mathématicien Euclide, cité dans le **document 1**, la lumière se propage en ligne droite.

4. Recopier et compléter cette phrase de manière à énoncer rigoureusement le principe de propagation rectiligne de la lumière : « La lumière se propage en ligne droite dans..... »

5. Expliquer pourquoi, lors d'un mirage dans le désert, la lumière ne se propage pas en ligne droite au niveau du sol.

Le schéma fourni dans l'**annexe à rendre avec la copie**, représente, en coupe, un mur percé d'une ouverture circulaire. Pour schématiser la situation, on a indiqué par une croix la position de l'œil d'un observateur. De l'autre côté du mur, sont situés deux objets éclairés O₁ et O₂.

6. Déterminer, en traçant les rayons lumineux qui permettent de justifier la réponse, l'objet pouvant être vu par l'observateur.

7. On rappelle la relation liant la vitesse de propagation c de la lumière (en m·s⁻¹), la distance parcourue d (en m) et la durée du parcours Δt (en s) : $c = \frac{d}{\Delta t}$.

Calculer la distance entre l'objet visible et l'observateur sachant que la lumière met 10 ns pour parcourir cette distance.

Données :

- 1ns = 10⁻⁹ s
- $c = 3,00 \times 10^8$ m·s⁻¹



Exercice 4 : Détecteur de fumée (5 points)

Selon la loi, les détecteurs de fumée, également appelés détecteurs avertisseurs autonomes de fumée (DAAF), sont obligatoires dans tous les logements d'habitation depuis le 8 mars 2015.

Chaque année, les détecteurs de fumée sauvent des vies et s'avouent être un excellent investissement. Mais un détecteur de fumée n'est efficace que s'il peut être entendu...

Document : Détecteurs de fumée pour personnes sourdes et malentendantes

Pour une personne déficiente auditive, il peut être difficile d'entendre le son émis par un détecteur d'incendie ordinaire, et c'est pour cela que des détecteurs de fumée spécialement conçus pour les personnes malentendantes ont été développés.

Il existe plusieurs solutions : des alarmes qui émettent des faisceaux lumineux et communiquent de petites vibrations à un appareil qui peut être placé sous l'oreiller ou des alarmes qui émettent des sons à basse fréquence. Les alarmes à basse fréquence émettent des sons de fréquence 520 Hz, alors que les alarmes traditionnelles émettent des sons de fréquence comprise entre 3000 et 4000 Hz.

Quelle est l'efficacité des alarmes ?

Une étude publiée en 2009 dans le journal Ear and Hearing (Oreille et Entendre) a démontré que certaines alarmes sont plus efficaces que d'autres lorsqu'il s'agit de réveiller les personnes déficientes auditives.

Selon l'étude, les alarmes qui envoient des faisceaux lumineux ne sont pas très efficaces. Le petit vibreur sous l'oreiller est efficace pour les personnes qui ont une perte d'acuité auditive sévère ou totale. Pour les personnes atteintes de surdité moyenne, les alarmes à basse fréquence sont les plus efficaces. Selon l'étude, la probabilité qu'une alarme à basse fréquence réveille une personne déficiente auditive est sept fois plus élevée que celle d'une alarme classique.

D'après <https://www.hear-it.org/fr/detecteurs-de-fumee-pour-personnes-sourdes-et-malentendantes>

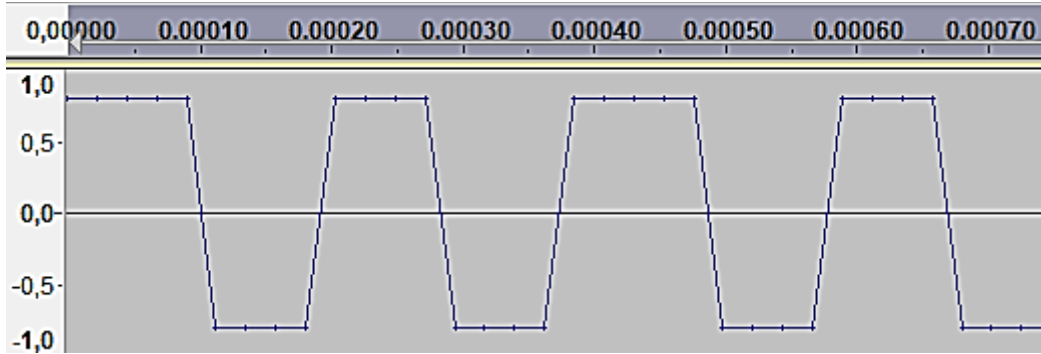


Figure 1 : Signal sonore 1 : en abscisse, au-dessus du graphe, le temps exprimé en secondes ; en ordonnée, la tension électrique proportionnelle à l'intensité sonore du signal.

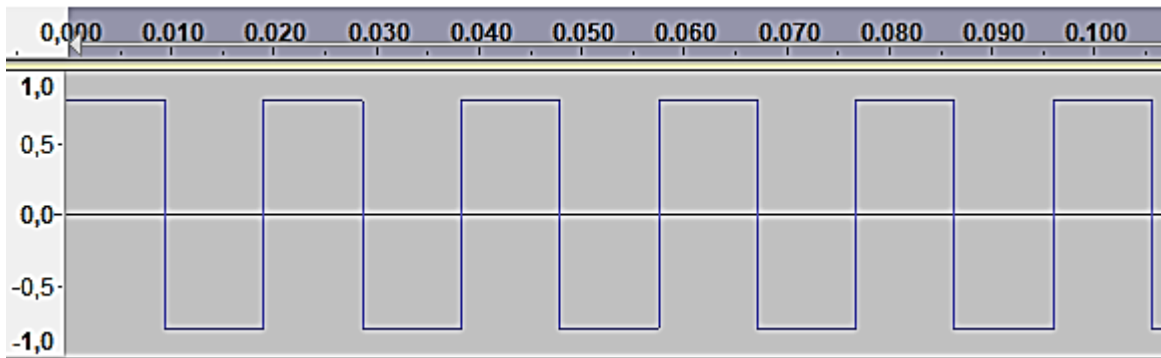


Figure 2 : Signal sonore 2 : en abscisse, au-dessus du graphe, le temps exprimé en secondes ; en ordonnée, la tension électrique proportionnelle à l'intensité sonore du signal.

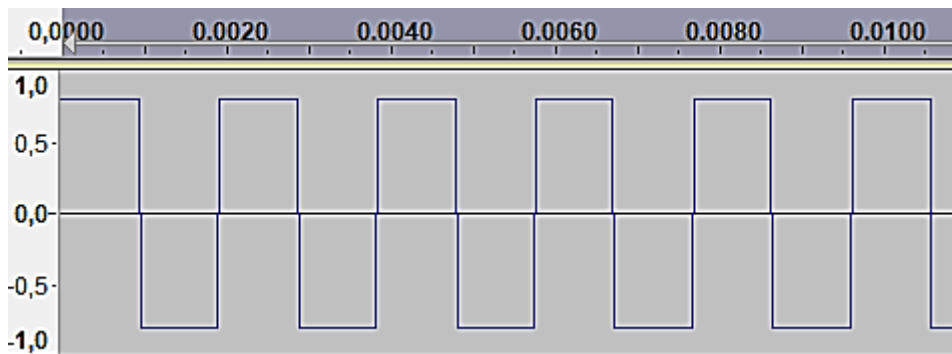


Figure 3 : Signal sonore 3 : en abscisse, au-dessus du graphe, le temps exprimé en secondes ; en ordonnée, la tension électrique qui traduit l'intensité sonore du signal.

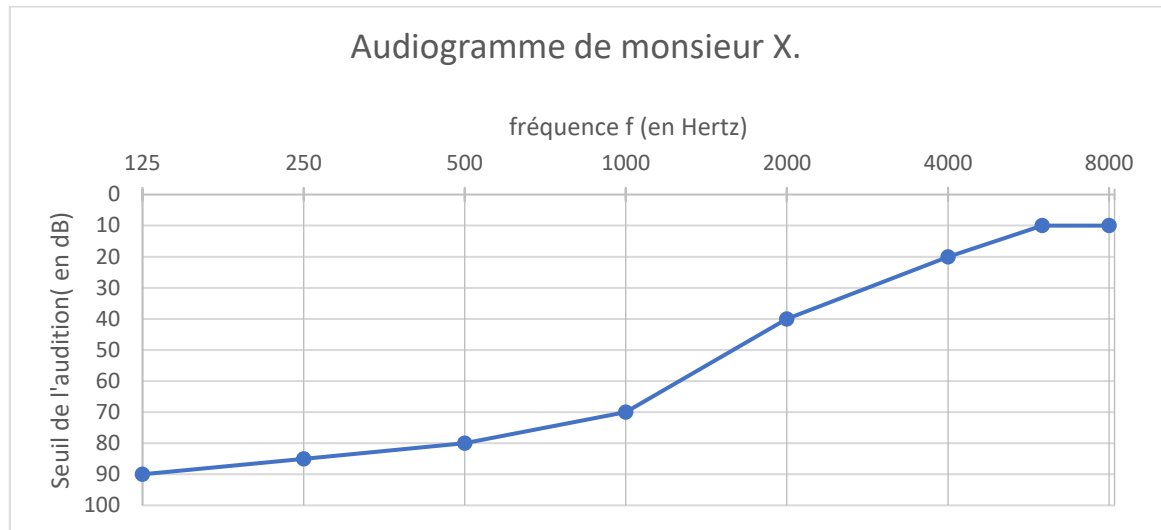


Figure 4 : Audiogramme de monsieur X

Données :

- La période T d'un signal est l'inverse de sa fréquence f .
- $1 \text{ s} = 10^3 \text{ ms}$.

On s'intéresse tout d'abord aux fréquences des sons émis par les détecteurs avertisseurs.

2. Indiquer le domaine des fréquences audibles par l'homme.

3. Préciser, en expliquant la réponse, si les détecteurs avertisseurs traditionnels émettent des sons plus aigus ou plus graves que les détecteurs avertisseurs basse fréquence.

On peut lire sur la fiche d'un détecteur avertisseur les caractéristiques suivantes :

Sirène piézo-électrique intégrée d'une puissance acoustique réglementaire de 85 dB à 3 m et d'une fréquence nominale maximale de 3,5 kHz

4. Préciser, en expliquant la réponse, si ce détecteur avertisseur correspond à un détecteur avertisseur traditionnel ou basse fréquence.

On s'intéresse maintenant au signal émis par un détecteur avertisseur basse fréquence.

5. Calculer la valeur numérique de la période du signal émis par un détecteur avertisseur basse fréquence.

Grâce à un logiciel adapté, on peut réaliser l'acquisition d'un signal sonore puis analyser ce signal.

Modèle CCYC : ©DNE

Nom de famille (naissance) :

(Suivi s'il y a lieu, du nom d'usage)

Prénom(s) :

N° candidat : N° d'inscription :


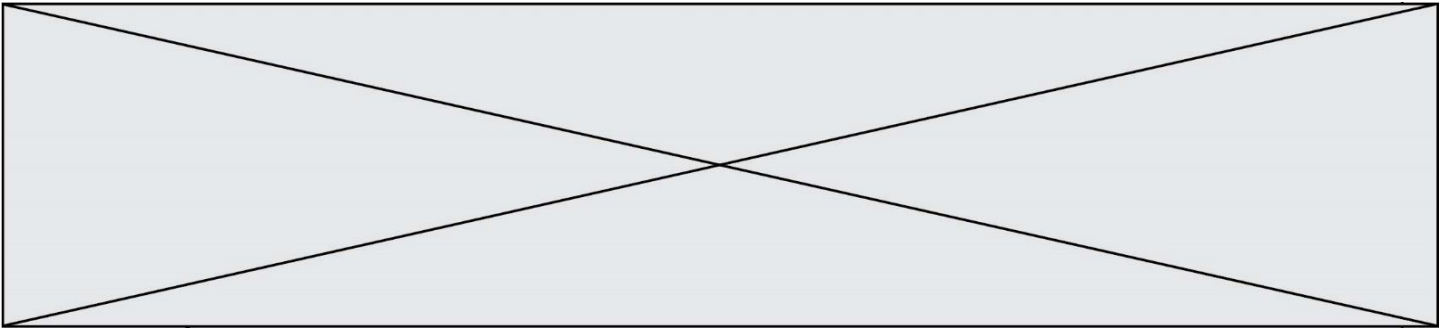
(Les numéros figurent sur la convocation.)

Né(e) le : / /



1.1

6. Parmi les représentations proposées sur **les figures 1 à 3**, identifier le signal qui correspond au son émis par un détecteur avertisseur à basse fréquence. Expliquer la réponse.
7. Grâce à l'observation de l'audiogramme de monsieur X représenté sur la **figure 4** et en tenant compte du niveau sonore d'une alarme (85 dB), proposer un développement argumenté pour déterminer le type de détecteur avertisseur à utiliser pour monsieur X.



Modèle CCYC : ©DNE

Nom de famille (naissance) :

(Suivi s'il y a lieu, du nom d'usage)

Prénom(s) :

N° candidat :

N° d'inscription :



Né(e) le :

(Les numéros figurent sur la convocation.)

1.1

Exercice 2 : annexe à rendre avec la copie

<p><i>molécule 1</i></p> <p>Nom du composé :</p>	<p><i>molécule 2</i></p> $\begin{array}{c} \text{H}_3\text{C} - \text{CH} - \text{CH}_3 \\ \\ \text{CH}_2 \\ \\ \text{C} \\ / \quad \backslash \\ \text{HC} \quad \text{CH} \\ \quad \\ \text{HC} \quad \text{CH} \\ \backslash \quad / \\ \text{C} \\ \\ \text{H}_3\text{C} - \text{CH} - \text{C} = \text{O} \\ \\ \text{OH} \end{array}$ <p>Nom du composé :</p>	<p><i>molécule 3</i></p> $\begin{array}{c} \text{O} \qquad \qquad \text{OH} \\ \qquad \qquad \\ \text{H}_3\text{C} - \text{C} - \text{NH} - \text{CH} - \text{C} = \text{O} \\ \\ \text{CH}_2 \\ \\ \text{H}_3\text{C} - \text{CH} - \text{CH}_3 \end{array}$ <p>Nom du composé :</p>
<p><i>molécule 4</i></p> $\begin{array}{c} \text{OH} \\ \\ \text{HO} - \text{CH} - \text{C} = \text{O} \\ \\ \text{CH}_3 \end{array}$ <p>Nom du composé :</p>	<p><i>molécule 5</i></p> $\begin{array}{c} \text{OH} \\ \\ \text{C} \\ / \quad \backslash \\ \text{HC} \quad \text{CH} \\ \quad \\ \text{HC} \quad \text{CH} \\ \backslash \quad / \\ \text{C} \\ \\ \text{HN} \\ \\ \text{H}_3\text{C} - \text{C} = \text{O} \end{array}$ <p>Nom du composé :</p>	<p><i>molécule 6</i></p> $\begin{array}{c} \text{HO} - \text{C} = \text{O} \\ \\ \text{C} \\ / \quad \backslash \\ \text{HC} \quad \text{CH} - \text{OH} \\ \quad \\ \text{HC} \quad \text{CH} \\ \backslash \quad / \\ \text{C} \\ \\ \text{H} \end{array}$ <p>Nom du composé :</p>



Exercice 3 : annexe à rendre avec la copie

