

Modèle CCYC : ©DNE

Nom de famille (naissance) :


(Suivi s'il y a lieu, du nom d'usage)

Prénom(s) :

N° candidat : **N° d'inscription** :

(Les numéros figurent sur la convocation.)

Né(e) le : / /



Liberté • Égalité • Fraternité
RÉPUBLIQUE FRANÇAISE

1.1

ÉVALUATION

CLASSE : Première ST2S

VOIE : Générale Technologique Toutes voies (LV)

ENSEIGNEMENT : Physique-chimie pour la santé

DURÉE DE L'ÉPREUVE : 2h

Niveaux visés (LV) : LVA LVB

Axes de programme :

CALCULATRICE AUTORISÉE : Oui Non

DICTIONNAIRE AUTORISÉ : Oui Non

Ce sujet contient des parties à rendre par le candidat avec sa copie. De ce fait, il ne peut être dupliqué et doit être imprimé pour chaque candidat afin d'assurer ensuite sa bonne numérisation.

Ce sujet intègre des éléments en couleur. S'il est choisi par l'équipe pédagogique, il est nécessaire que chaque élève dispose d'une impression en couleur.

Ce sujet contient des pièces jointes de type audio ou vidéo qu'il faudra télécharger et jouer le jour de l'épreuve.

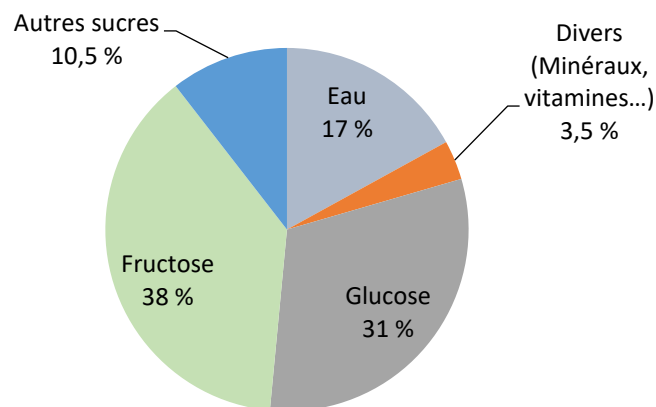
Nombre total de pages : 10



Exercice 1 : Le miel et la santé (5 points)

Certaines personnes adorent le miel : au cours de la journée, on peut en consommer avec les yaourts nature, les tartines, les boissons chaudes... L'Organisation Mondiale de la Santé (OMS) recommande de diminuer sa consommation journalière de sucre afin de limiter son impact sur la santé. Dans cet exercice, on souhaite savoir si une consommation importante de miel peut avoir un effet négatif sur la santé.

Document 1 : Diagramme circulaire représentant la composition moyenne du miel en pourcentage en masse



D'après : <https://aurore.unilim.fr/theses/>

Document 2 : Le sucre et la santé

Glucose, galactose, fructose, saccharose, lactose, maltose... sont ce qu'on appelle couramment les sucres. Compte tenu des effets sur la santé que peut provoquer une consommation excessive de sucre, l'Anses (Agence nationale de sécurité sanitaire de l'alimentation, de l'environnement et du travail) recommande de ne pas consommer plus de 100 g de sucres par jour (hors lactose et galactose) et pas plus d'une boisson sucrée. L'excès de sucre peut entraîner surpoids, obésité et maladies qui y sont associées, comme le diabète de type 2, des maladies cardiovasculaires et certains cancers.

D'après <https://www.anses.fr/fr/content/sucres>

Données : Représentations des molécules de glucose et de fructose :

Modèle CCYC : ©DNE

Nom de famille (naissance) :

(Suivi s'il y a lieu, du nom d'usage)

Prénom(s) :

N° candidat :


N° d'inscription :



Né(e) le : / /

(Les numéros figurent sur la convocation.)

1.1



Les glucides sont classifiés en deux catégories : les glucides simples et les glucides complexes.

1. Définir un glucide simple et un glucide complexe.

Lorsque les abeilles ouvrières butinent, le nectar est ramené à la ruche. Sous l'effet de l'*invertase*, une enzyme présente dans le jabot des abeilles, les sucres présents dans ce nectar sont lentement modifiés : le saccharose, de formule brute $\text{C}_{12}\text{H}_{22}\text{O}_{11}$, est hydrolysé en fructose et glucose. Le nectar se transforme ainsi en miel.

2. Recopier les formules semi-développées des molécules de glucose et de fructose et entourer puis nommer les fonctions chimiques présentes.

3. Déterminer les formules brutes du glucose et du fructose.

4. En déduire la relation qui existe entre les deux molécules de glucose et de fructose. Expliquer la réponse.

5. Écrire l'équation chimique de la réaction d'hydrolyse du saccharose, en utilisant les formules brutes des molécules.

On souhaite déterminer quelle quantité maximale de miel il est possible de manger afin de ne pas dépasser la dose journalière de sucre recommandée. Les réponses aux deux questions suivantes s'appuient sur les documents présentés en introduction.

6. Calculer le pourcentage total, en masse, de sucres présents dans un miel.

7. Montrer que la valeur de la masse journalière maximale de miel que l'on peut ingérer est de 126 g.



La relation qui permet de calculer la masse volumique ρ (en g.L^{-1}) d'un corps en fonction de la masse m (en g) et du volume V (en L) d'un échantillon de ce corps est :

$$\rho = \frac{m}{V}$$

8. Sachant que le miel possède une masse volumique de 1410 g.L^{-1} , déterminer le volume maximal de miel que l'on peut consommer.
9. Sachant qu'une cuillère à café correspond à un volume de $5,0 \text{ mL}$, déterminer le nombre de cuillères à café de miel que l'on peut consommer par jour pour respecter les consignes de l'Anses. Commenter ce résultat.

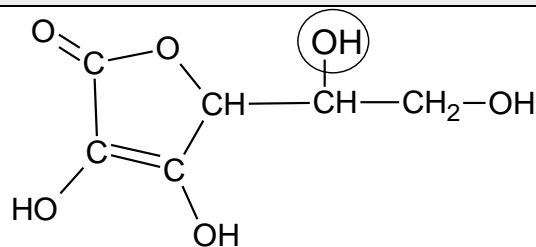
Exercice 2 : Les propriétés acides de la vitamine C (5 points)

« Que ton aliment soit ton médicament » était l'un des principes essentiels de la médecine d'Hippocrate (460 av JC).

Connue pour ses vertus énergisantes, la vitamine C, ou acide ascorbique, possède de nombreuses propriétés. Elle est indispensable au bon fonctionnement de l'organisme dont elle renforce les défenses immunitaires.

L'acide ascorbique doit son nom à la maladie qu'il prévient : le [scorbut](#), une affection autrefois fréquente chez les marins, qui n'avaient pas accès aux végétaux frais au cours de leurs longues expéditions.

Document 1 : Formule semi-développée de l'acide ascorbique



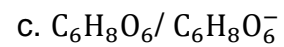
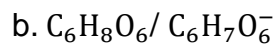
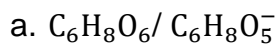
1. Donner le nom de la fonction entourée dans la formule semi-développée de l'acide ascorbique représentée dans le **document 1**.
2. Citer l'autre fonction présente dans la molécule d'acide ascorbique représentée dans le **document 1**.
3. Ecrire la formule brute de l'acide ascorbique à partir des informations contenues dans le **document 1**.



L'acide ascorbique et l'ion ascorbate constituent un couple acide-base noté AH / A⁻.

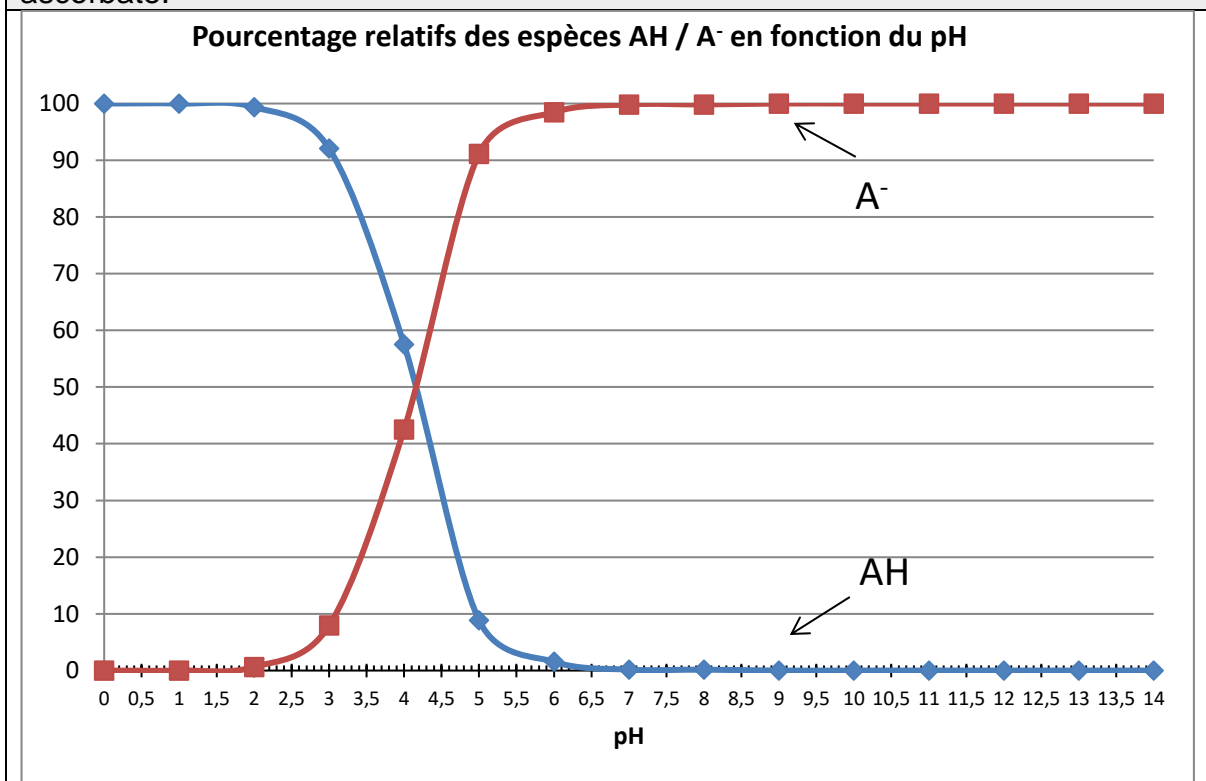
4. Donner la définition d'un acide selon Brönsted.

5. Parmi les propositions a, b, et c, ci-dessous, choisir le couple acide/base correspondant à l'acide ascorbique et l'ion ascorbate.



Le diagramme de distribution de l'acide ascorbique et de l'ion ascorbate donne les pourcentages relatifs des deux espèces en milieu aqueux en fonction du pH.

Document 2 : diagramme de distribution de l'acide ascorbique et de l'ion ascorbate.



6. A l'aide du **document 2**, et en explicitant la démarche, donner la forme prédominante de la vitamine C dans l'estomac sachant que le pH de l'estomac est de 1,5.



En cas d'apport insuffisant en vitamine C, il existe des compléments alimentaires sous forme de comprimés. On souhaite préparer une solution aqueuse de volume V égal à 100,0 mL par dissolution d'un comprimé préalablement broyé.

7. Choisir et nommer parmi le matériel ci-dessous, la verrerie nécessaire à la préparation de cette solution.

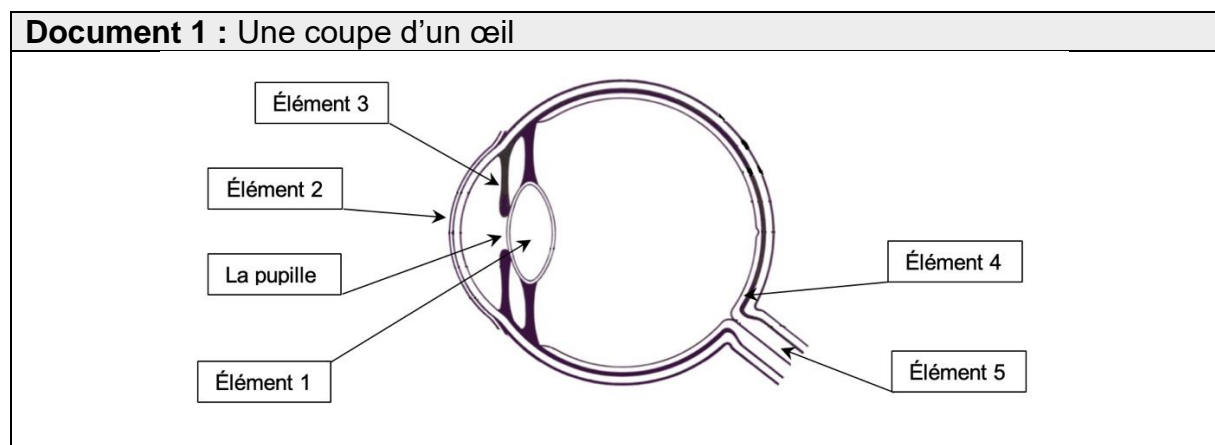


On mesure le pH de cette solution. On obtient une valeur de pH égale à 4,1.

8. En exploitant le **document 2**, déterminer les pourcentages relatifs approximatifs de l'acide ascorbique et de l'ion ascorbate dans la solution.

Exercice 3 : Une consultation ophtalmologique (5 points)

L'ophtalmologie est la branche de la médecine chargée, entre autres, du traitement des maladies de l'œil, l'un des organes les plus complexes et perfectionnés de notre corps.



Modèle CCYC : ©DNE

Nom de famille (naissance) :

(Suivi s'il y a lieu, du nom d'usage)

Prénom(s) :

N° candidat :

N° d'inscription :



Né(e) le :

(Les numéros figurent sur la convocation.)

1.1

Document 2 : Les lentilles minces

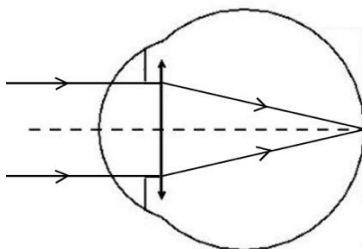
Il existe deux catégories de lentilles minces : les lentilles convergentes et divergentes. Le simple fait d'observer l'action sur des rayons lumineux permet de les différencier. Celles qui transforment un faisceau de rayons parallèles en un faisceau de rayons convergents sont les lentilles convergentes. Les lentilles divergentes transformeront un faisceau de rayons parallèles en un faisceau de rayons divergents.

Chaque lentille est caractérisée par sa vergence, V , qui correspond à l'inverse de sa distance focale, f' . Ainsi, la relation liant ces deux grandeurs est :

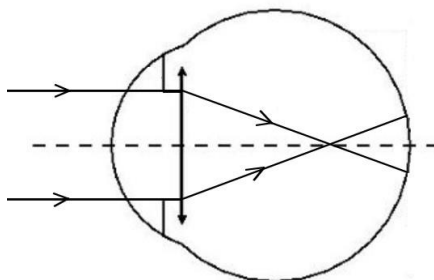
$$V = \frac{1}{f'}$$

avec la vergence V exprimée en dioptries (δ) et la distance focale f' en mètres (m).

Document 3 : Vision à l'infini d'un œil emmétrope au repos



Document 4 : Vision à l'infini de l'œil du patient au repos



1. Faire correspondre à chaque élément numéroté de 1 à 5, du **document 1**, le terme correct parmi la liste suivante :

la rétine	l'iris	le cristallin	la cornée	le nerf optique
-----------	--------	---------------	-----------	-----------------



2. Associer à chaque élément de l'œil, cité précédemment, son rôle parmi les suivants :

Endroit où l'image se forme	Fait converger les rayons lumineux	Transmet les informations de l'œil au cerveau	Paroi transparente qui se trouve à l'avant de l'œil et le protège	Partie colorée qui permet de régler la quantité de lumière entrant dans l'œil
-----------------------------	------------------------------------	---	---	---

3. Décrire comment varie le diamètre de la pupille lorsque la luminosité augmente.

On appelle œil emmétrope, un œil « normal », ne nécessitant aucune correction. Pour simplifier sa représentation, on peut modéliser l'ensemble des milieux transparents de l'œil par une unique lentille équivalente convergente. Pour un œil emmétrope au repos, les rayons issus d'un objet à l'infini sont déviés et forment l'image sur la rétine, la distance focale f de la lentille équivalente est, alors, égale à $1,67 \times 10^{-2}$ m.

4. À l'appui des **documents 2 et 3**, calculer la vergence, notée V_E , d'un œil emmétrope au repos.

Un patient qui a des difficultés à voir les objets lointains se rend chez son ophtalmologiste. L'examen du patient révèle que, pour une vision à l'infini, son œil droit a une vergence V_P égale à $62,0 \delta$. Le **document 4** schématise la progression des rayons lumineux issus d'un objet à l'infini pour cet œil au repos.

5. Écrire les phrases suivantes en choisissant le mot qui convient parmi les propositions en italique.

L'œil droit de ce patient est trop *divergent/convergent*. Ce patient souffre de *myopie/d'hypermétropie* pour cet œil.

6. Indiquer quel type de lentille (convergente ou divergente), l'ophtalmologiste devra prescrire au patient pour améliorer sa vision.

On note : V_E la vergence d'un œil emmétrope,
 V_C la vergence de la lentille correctrice,
 V_P la vergence de l'œil du patient.

Modèle CCYC : ©DNE

Nom de famille (naissance) :

(Suivi s'il y a lieu, du nom d'usage)

Prénom(s) :

N° candidat : N° d'inscription :

(Les numéros figurent sur la convocation.)

Né(e) le : / /

 Liberté • Égalité • Fraternité
RÉPUBLIQUE FRANÇAISE

1.1

7. Donner la relation liant V_E , V_C et V_P .

8. Calculer la vergence de la lentille correctrice V_C prescrite par l'ophtalmologiste pour l'œil droit du patient.

Exercice 4 : Signalisation en agglomération pour la sécurité des enfants (5 points)

En agglomération, plusieurs panneaux de signalisation font référence à la vitesse du véhicule.

A l'entrée d'une petite agglomération, on trouve le panneau 1, indiquant la vitesse maximale autorisée, en $\text{km}\cdot\text{h}^{-1}$:

Panneau 1



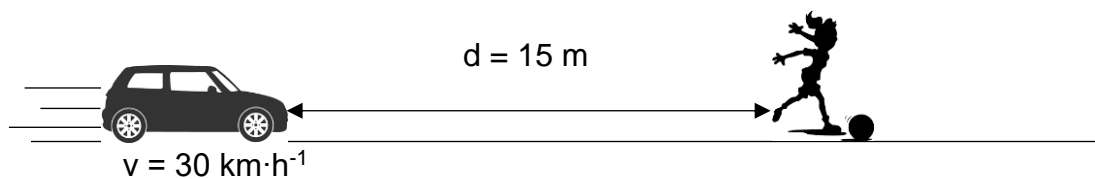
Dans le centre du village, aux abords d'un groupe scolaire, on trouve également le panneau 2 :

Panneau 2



Un automobiliste traverse ce village à la vitesse de $50 \text{ km}\cdot\text{h}^{-1}$ et réduit sa vitesse à $30 \text{ km}\cdot\text{h}^{-1}$ à l'approche de l'école primaire, lorsqu'il aperçoit le panneau 2.

Soudain, une fillette bondit brusquement sur la route, devant la voiture, pour récupérer son ballon, comme l'indique le schéma ci-dessous :



La voiture pourra-t-elle s'arrêter avant de percuter l'enfant ?

Données :

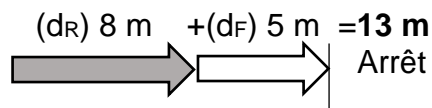
$$50 \text{ km}\cdot\text{h}^{-1} = 14 \text{ m}\cdot\text{s}^{-1}$$



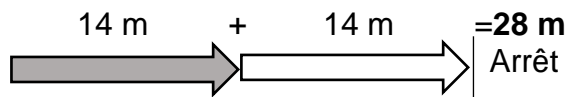
Document 1 : Distances d'arrêt incompressibles avec un temps de réaction normal d'une seconde à différentes vitesses

Distance d'arrêt = distance d_R parcourue pendant le temps de réaction + distance de freinage d_F

A 30 km/h :



A 50 km/h :



Source : d'après <http://www.securite-routiere.gouv.fr>

1. A partir du **document 1**, nommer et définir les deux distances qui composent la distance d'arrêt.

2. *Distance d_R parcourue pendant le temps de réaction*

2.1. Convertir la vitesse indiquée sur le panneau 2 dans l'unité du système international.

2.2. Exprimer la distance d_R , parcourue par la voiture, en fonction de la vitesse v de la voiture et du temps de réaction Δt . Préciser l'unité de chaque grandeur dans le système international d'unités.

2.3. Vérifier par le calcul que cette distance d_R correspond à celle donnée dans le document 1, si l'on considère que le conducteur a un temps de réaction normal d'1 s.

2.4. Citer un facteur qui pourrait augmenter le temps de réaction de l'automobiliste.

3. Citer un facteur qui pourrait augmenter la distance de freinage d_F .

4. *Distance d'arrêt du véhicule*

4.1. D'après le **document 1**, le conducteur pourra-t-il arrêter sa voiture assez tôt pour ne pas percuter l'enfant à la vitesse de $30 \text{ km}\cdot\text{h}^{-1}$? Justifier la réponse.

4.2. La réponse serait-elle la même si le conducteur n'avait pas réduit sa vitesse et roulait à $50 \text{ km}\cdot\text{h}^{-1}$ quand il aperçoit la fillette ? La réponse doit être argumentée par des valeurs numériques.

5. Préciser en quoi l'utilisation du panneau 2 à côté de l'école semble justifiée ?