

Modèle CCYC : ©DNE

Nom de famille (naissance) :

(Suivi s'il y a lieu, du nom d'usage)

Prénom(s) :

N° candidat :

N° d'inscription :

(Les numéros figurent sur la convocation.)

Né(e) le :



1.1

ÉVALUATION

CLASSE : Première ST2S

VOIE : Générale Technologique Toutes voies (LV)

ENSEIGNEMENT : Physique-chimie pour la santé

DURÉE DE L'ÉPREUVE : 2h

Niveaux visés (LV) : LVA LVB

Axes de programme :

CALCULATRICE AUTORISÉE : Oui Non

DICTIONNAIRE AUTORISÉ : Oui Non

Ce sujet contient des parties à rendre par le candidat avec sa copie. De ce fait, il ne peut être dupliqué et doit être imprimé pour chaque candidat afin d'assurer ensuite sa bonne numérisation.

Ce sujet intègre des éléments en couleur. S'il est choisi par l'équipe pédagogique, il est nécessaire que chaque élève dispose d'une impression en couleur.

Ce sujet contient des pièces jointes de type audio ou vidéo qu'il faudra télécharger et jouer le jour de l'épreuve.



Nombre total de pages : 14



Exercice 1 : Le match acide sulfamique / acide lactique pour le détartrage des bouilloires électriques (5 points)

Le tartre est l'ennemi des bouilloires électriques. Ce dépôt peut entraver rapidement leur bon fonctionnement si des opérations de détartrage ne sont pas, comme préconisé par les fabricants, menées régulièrement et avec précaution. Les produits plébiscités par ces derniers sont des acides comme l'acide sulfamique, l'acide citrique, l'acide malique, l'acide acétique, l'acide phosphorique, ...

Le consommateur recherche aujourd'hui des produits ménagers plus sûrs et plus sains, respectueux de l'environnement. À choisir entre un détartrant à base d'acide lactique ou d'acide sulfamique, lequel doit-il alors privilégier ?

Document 1 : les deux détartrants à disposition	
	<p><u>Composition</u> : acide lactique ($pH_{pur} = 2,50$), agents de surface non ioniques, parfum</p> <p><u>Mode d'emploi</u> : Formule concentrée à diluer 4 fois : verser 125 mL de produit dans de l'eau froide. Verser la solution obtenue dans la bouilloire, ne pas la mettre sous tension électrique du secteur et laisser agir 40 minutes. Après traitement, rincer 3 fois à l'eau claire et chaude. Recommencer les opérations précédentes tous les mois.</p>
	<p><u>Composition</u> : acide sulfamique</p> <p><u>Mode d'emploi</u> : Procéder à un détartrage hebdomadaire. Verser le contenu du sachet dans la bouilloire, verser 500 mL d'eau et mélanger jusqu'à dissolution complète. Mettre la bouilloire sous tension électrique du secteur, chauffer légèrement puis laisser agir 10 minutes. Après traitement, rincer 2 fois à l'eau claire.</p>

Modèle CCYC : ©DNE

Nom de famille (naissance) :

(Suivi s'il y a lieu, du nom d'usage)

Prénom(s) :

N° candidat :

N° d'inscription :



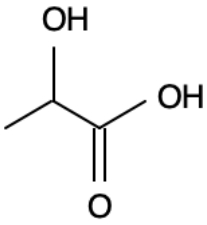
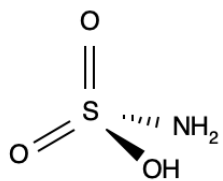
Liberté • Égalité • Fraternité
RÉPUBLIQUE FRANÇAISE

Né(e) le :

(Les numéros figurent sur la convocation.)

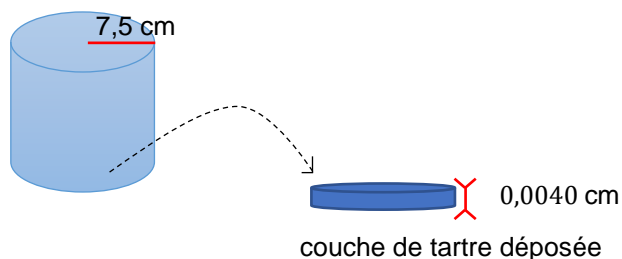
1.1

Document 2 : données sur les molécules d'acide lactique et d'acide sulfamique

	Acide lactique	Acide sulfamique
Formule de la molécule		
Masse volumique ρ ($g \cdot mL^{-1}$)	1,25	2,15
Utilisation	Agent biocide, excellent détartrant, biodégradable, dissolvant du savon. Utilisation à bannir sur les surfaces en émail, en marbre et synthétiques.	Acide fort, agent de nettoyage et de détartrage néanmoins moins corrosif que les autres acides minéraux. Utilisation possible sur les surfaces en acier inox, cuivre, laiton et à l'occasion en aluminium.
Mention de danger (CLP)	H315 - Provoque une irritation cutanée. H318 - Provoque des lésions oculaires graves.	H315 - Provoque une irritation cutanée. H319 - Provoque une sévère irritation des yeux. H412 - Nocif pour les organismes aquatiques, entraîne des effets néfastes à long terme.

Document 3 : caractéristiques de la bouilloire à détartrer

La bouilloire utilisée est de forme cylindrique (voir figure qui suit).

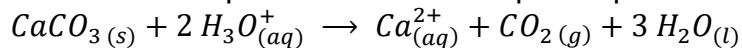


Le propriétaire de la bouilloire ne l'a jamais détartrée et le fond est entièrement recouvert de tartre. On assimile la couche de tarte déposée à un cylindre de rayon R et d'épaisseur e de volume $V = \pi \times R^2 \times e$.



Document 4 : la réaction chimique mise en jeu lors du détartrage avec les solutions détartrantes utilisées

Le tartre est assimilé à un dépôt de carbonate de calcium $CaCO_3$ solide. La réaction chimique entre le carbonate de calcium et les ions oxonium présents dans les solutions détartrantes utilisées peut être modélisée par l'équation :



La quantité de matière d'ions oxonium est alors liée à la quantité de matière de carbonate de calcium par la relation : $n(CaCO_3) = \frac{n(H_3O^+)}{2}$.

Document 5 : obtention d'acide lactique biosourcé

La production industrielle de l'acide lactique utilise déjà un procédé basé sur l'emploi des ressources végétales (amidon). Néanmoins, l'utilisation de l'amidon pour cette production entre en compétition avec son usage alimentaire. Ce procédé pose aujourd'hui un problème éthique dans un monde où 868 millions de personnes ont un apport énergétique insuffisant (Food and Agriculture Organization (FAO, 2013)). Par conséquent, le développement d'un procédé utilisant la biomasse lignocellulosique* comme matière première permettrait une production plus respectueuse de notre environnement. [...] Au préalable, la biomasse lignocellulosique doit être prétraitée afin de déstructurer et d'hydrolyser la paroi végétale. Cette étape est nécessaire car elle permet la libération des sucres fermentescibles nécessaires aux microorganismes pour produire l'acide lactique. Ensuite vient la fermentation en elle-même. Elle nécessite la sélection de biomasse, des microorganismes et la mise en place de différentes stratégies de fermentation. L'acide lactique produit est ensuite extrait et purifié. [...] Les techniques utilisées dans chaque étape ont été choisies afin de répondre aux critères d'un procédé engagé dans le développement durable.

* son de blé, rafles de maïs, bagasse de canne à sucre, ...

D'après la thèse soutenue en mars 2015 par F. Prévot « Valorisation de déchets végétaux pour la production (poly)acide lactique »

Données :

- masses molaires atomiques en $g \cdot mol^{-1}$:

$$M(S) = 32,1 ; M(H) = 1,0 ; M(O) = 16,0 ; M(N) = 14,0$$

- masse volumique du carbonate de calcium : $\rho = 2,65 g \cdot cm^{-3}$

- masse molaire du carbonate de calcium $M(CaCO_3) = 100,1 g \cdot mol^{-1}$

1. Définir un acide selon la théorie de Brönsted.

2. À l'aide des **documents 1 et 2**, calculer la valeur de la concentration molaire en soluté apporté en acide sulfamique dans la solution de détartrant préparée.



3. En s'appuyant sur le **document 1**, nommer, schématiser et préciser, en le calculant, le volume de l'instrument de verrerie dans lequel préparer au laboratoire de chimie la solution de détartrant à base d'acide lactique.

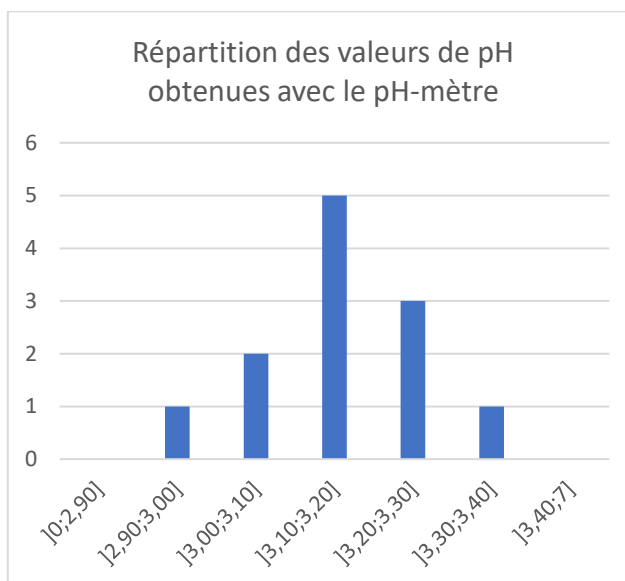
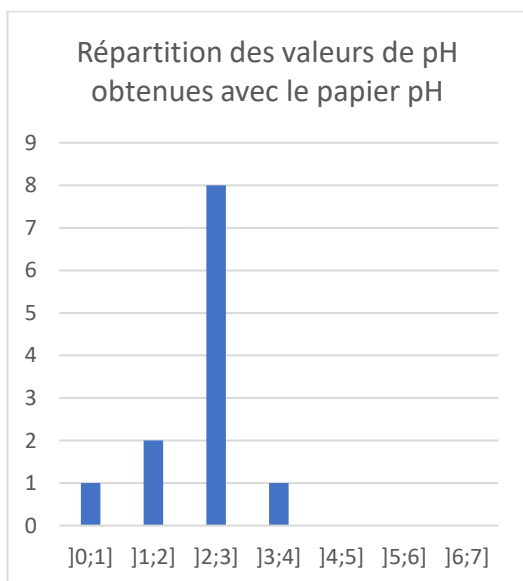
4. Montrer à l'aide des connaissances acquises et du **document 1** que la valeur de la quantité de matière en ions oxonium dans la solution de détartrant à base d'acide lactique présente dans la bouilloire lors du détartrage est égale à $4,0 \times 10^{-4} \text{ mol}$.

5. À l'aide du **document 3**, calculer, en l'exprimant en cm^3 , la valeur du volume de tartre déposé au fond de la bouilloire mal entretenue puis montrer, en exploitant les données, que la valeur de la quantité de matière de tartre correspondante est égale à $1,9 \times 10^{-2} \text{ mol}$.

6. Conclure, en utilisant le **document 4**, sur l'efficacité du détartrage mis en œuvre sur la bouilloire mal entretenue en utilisant la solution de détartrant à base d'acide lactique.

La solution diluée de détartrant à base d'acide lactique fait l'objet d'une mesure de pH par des lycéens dans le cadre d'une séance d'activité expérimentale. Le tableau suivant rassemble les valeurs de pH relevées par douze binômes en utilisant du papier pH et un pH-mètre et les deux histogrammes traduisent la répartition des valeurs obtenues :

Groupe	1	2	3	4	5	6	7	8	9	10	11	12
pH_{papier}	2	3	3	4	3	2	1	3	3	3	3	3
$pH_{\text{pH-mètre}}$	3,11	3,26	3,06	3,35	3,10	3,15	3,24	3,22	3,14	2,99	3,13	3,12





7. En s'appuyant sur les deux histogrammes, conclure sur la précision des deux méthodes de mesure du pH.

8. À l'aide des **documents 2 et 5**, construire en quelques lignes un argumentaire permettant d'éclairer le choix d'un consommateur hésitant entre un détartrant à base d'acide lactique et un détartrant à base d'acide sulfamique.

Exercice 2 : Les traitements pour fraisiers (5 points)

Un jardinier amateur souhaite apporter de l'engrais à ses fraisiers pour avoir une bonne récolte au printemps. Il recherche des informations dans un ouvrage de jardinage.

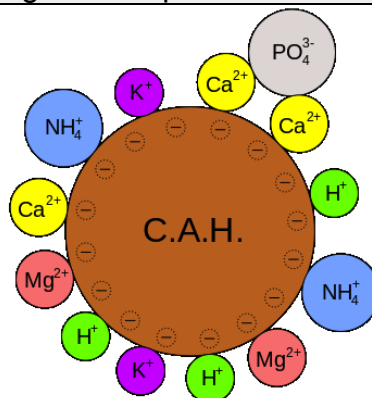
Document 1 : ce qu'il faut savoir sur les engrais

Quand un engrais est apporté au sol, il libère, selon sa composition :

- de l'azote sous forme d'ions nitrate NO_3^- et/ou ammonium NH_4^+ et à ce titre il permet de densifier et renforcer le feuillage,
- du phosphore sous forme d'ions H_2PO_4^- ou HPO_4^{2-} ou PO_4^{3-} et à ce titre il régule la croissance des plantes au niveau des racines, des tiges et des fleurs,
- du potassium sous forme d'ions K^+ et à ce titre il est essentiel à la floraison et à la maturation des fruits.

Ces éléments nutritifs sont absorbés par les racines des plantes, ou s'accumulent dans le sol, ou sont perdus en étant entraînés par ruissellement.

Document 2 : le complexe argilo-humique



Modèle CCYC : ©DNE

Nom de famille (naissance) :

(Suivi s'il y a lieu, du nom d'usage)

Prénom(s) :

N° candidat :

N° d'inscription :




Liberté • Égalité • Fraternité
RÉPUBLIQUE FRANÇAISE

Né(e) le :

(Les numéros figurent sur la convocation.)

1.1

Document 3 : Les traitements possibles pour lutter contre l'oïdium du fraisier, d'après www.agro.basf.fr

	Produit 1	Produit 2
Substance active pour 1 kg	800 g de soufre micronisé	67 g de pyraclostrobine 267 g de boscalid
Formulation	granulés à disperser dans l'eau	granulés à disperser dans l'eau
Classement toxicologique	Éviter le rejet dans l'environnement. Respectez les instructions d'utilisation afin d'éviter les risques pour la santé humaine et l'environnement. Tenir hors de portée des enfants.	Très toxique pour les organismes aquatiques. Respectez les instructions d'utilisation afin d'éviter les risques pour la santé humaine et l'environnement. Tenir hors de portée des enfants.
Pictogrammes de sécurité	Pas de classement selon le système général harmonisé	
Dose recommandée	5 kg/hectare	0,6 kg/hectare
Délai avant récolte	5 jours	3 jours

1. À l'aide du **document 1**, choisir, en justifiant la réponse, les éléments chimiques à privilégier dans le choix d'un engrais pour fraisier.

Le complexe argilo-humique joue un rôle important dans le devenir des éléments nutritifs, comme cela est illustré dans le **document 2**.

2. Expliquer pourquoi les ions nitrate NO_3^- qui ne sont pas rapidement absorbés par la plante sont entraînés par l'eau de ruissellement.

3. Expliquer ce que deviennent les ions potassium K^+ qui ne sont pas utilisés par la plante.

4. Expliquer pourquoi les ions phosphate PO_4^{3-} ne sont pas complètement entraînés par ruissellement.



Le jardinier observe sur ses fraisiers un duvet blanc qui commence à recouvrir les feuilles. Dans son ouvrage de jardinage, il peut lire que « les fraisiers peuvent être attaqués par plusieurs maladies notamment l'oïdium. L'oïdium est provoqué par le champignon *Podosphaera macularis* et se manifeste par l'apparition d'une sorte de duvet blanc qui recouvre progressivement tout le plant en commençant par les feuilles puis les hampes florales et même les fruits ». Il se rend donc à la jardinerie pour acheter un produit phytosanitaire.

5. Donner la fonction d'un herbicide, d'un fongicide et d'un insecticide.
6. Expliquer lequel de ces trois produits phytosanitaires le jardinier devra choisir.
7. En s'appuyant sur l'analyse du **document 3**, justifier le meilleur traitement à choisir parmi les deux produits proposés en jardinerie.

Exercice 3 : les risques encourus par l'usage d'un appareil électrique défectueux (5 points)

L'électricien des services techniques de l'hôpital est en intervention dans une pièce du sous-sol. Afin d'éclairer les lieux, il tient dans une main une baladeuse c'est-à-dire une lampe électrique portative puis il saisit avec l'autre main la porte d'un autoclave dédié à la stérilisation du matériel médical. Dès qu'il touche cette porte, il est très rapidement projeté en arrière et perd connaissance. Le disjoncteur coupe alors le circuit électrique au bout de 200 ms.

Un médecin réanime la victime après avoir débranché la baladeuse et écarté la main crispée de l'électricien de cette dernière. L'enquête permet d'établir que cette lampe baladeuse n'est pas conforme aux normes électriques NF C15-100. L'isolation des conducteurs d'alimentation de cette dernière est détériorée au niveau de leur entrée dans le manche de la lampe.

L'objectif de cet exercice est de comprendre les constatations du médecin ayant secouru l'électricien.

Modèle CCYC : ©DNE

Nom de famille (naissance) :

(Suivi s'il y a lieu, du nom d'usage)

Prénom(s) :

N° candidat :

N° d'inscription :



Né(e) le :

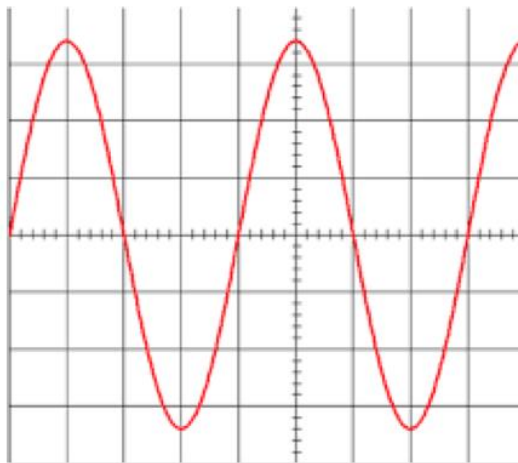
(Les numéros figurent sur la convocation.)

1.1

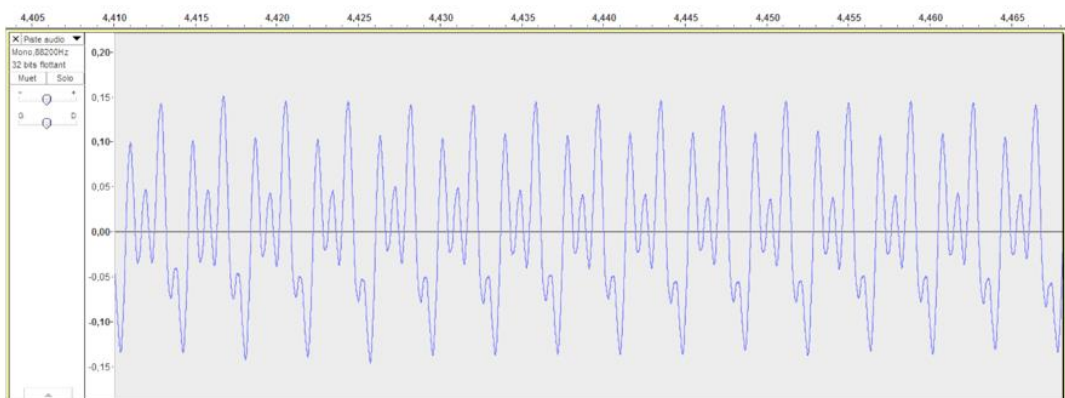
Document 1 : Enregistrements de signaux de la vie quotidienne



1 : Enregistrement d'un électrocardiogramme



2 : Oscillogramme d'un signal inconnu



3 : Enregistrement de la note Do3 d'un orgue

Réglages réalisés sur l'oscilloscope de la figure 2 :

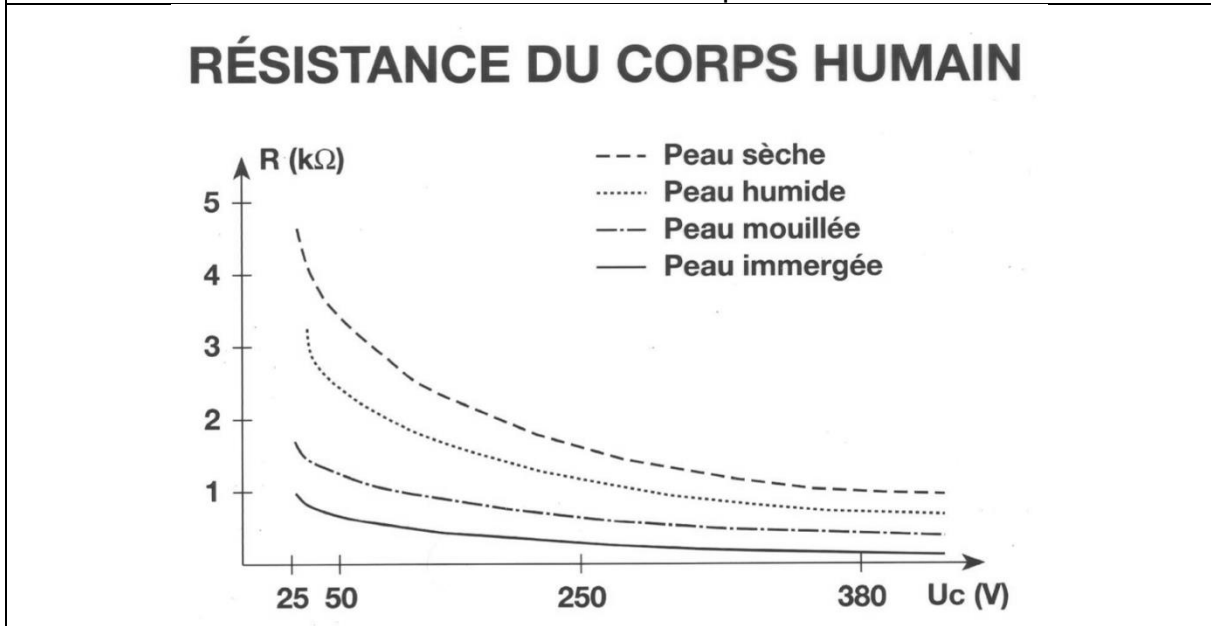
- sensibilité verticale : 100 V / div
- base de temps : 5 ms / div

Document 2 : La résistance du corps humain en fonction de la tension de contact U_c et de l'état de la peau (d'après <http://www.ac-poitiers.fr>)

Le corps humain, est conducteur du courant électrique. Si une personne est soumise à une tension électrique, par exemple entre sa main droite et sa main gauche, ou entre sa main et le sol, un courant électrique va traverser son corps. La résistance électrique du corps humain varie et dépend de plusieurs paramètres : type de courant, intensité du courant, durée du passage du courant, état de la peau (sèche, humide, mouillée), nature du sol, capacité d'isolation des chaussures portées, etc. On peut considérer que la résistance moyenne du corps humain est de l'ordre de 2

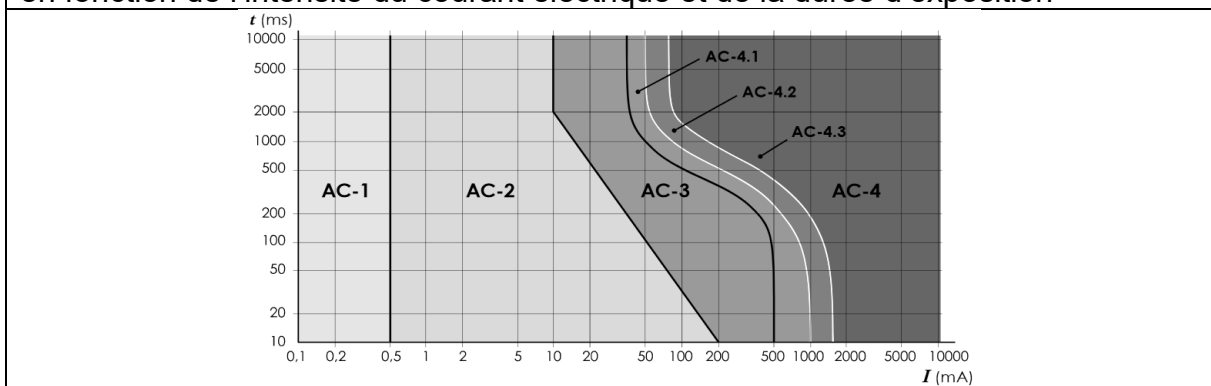


kΩ. Le graphique suivant indique les variations de la résistance du corps humain en fonction de la tension de contact et de l'état de la peau.



Document 3 : Effets physiologiques du courant sur le corps humain

Les données ci-dessous explicitent les effets physiologiques du courant alternatif en fonction de l'intensité du courant électrique et de la durée d'exposition



Zone	Principaux effets physiologiques constatés
AC-1	Aucune réaction
AC-2	Sensations désagréables mais pas d'effets physiologiques dangereux
AC-3	Tétanisation musculaire avec risque de paralysie respiratoire mais sans fibrillation ventriculaire
AC-4	Fibrillation ventriculaire, possibilités d'arrêt respiratoire, d'arrêt cardiaque, de brûlures graves, etc

Modèle CCYC : ©DNE

Nom de famille (naissance) :

(Suivi s'il y a lieu, du nom d'usage)

Prénom(s) :

N° candidat :

N° d'inscription :



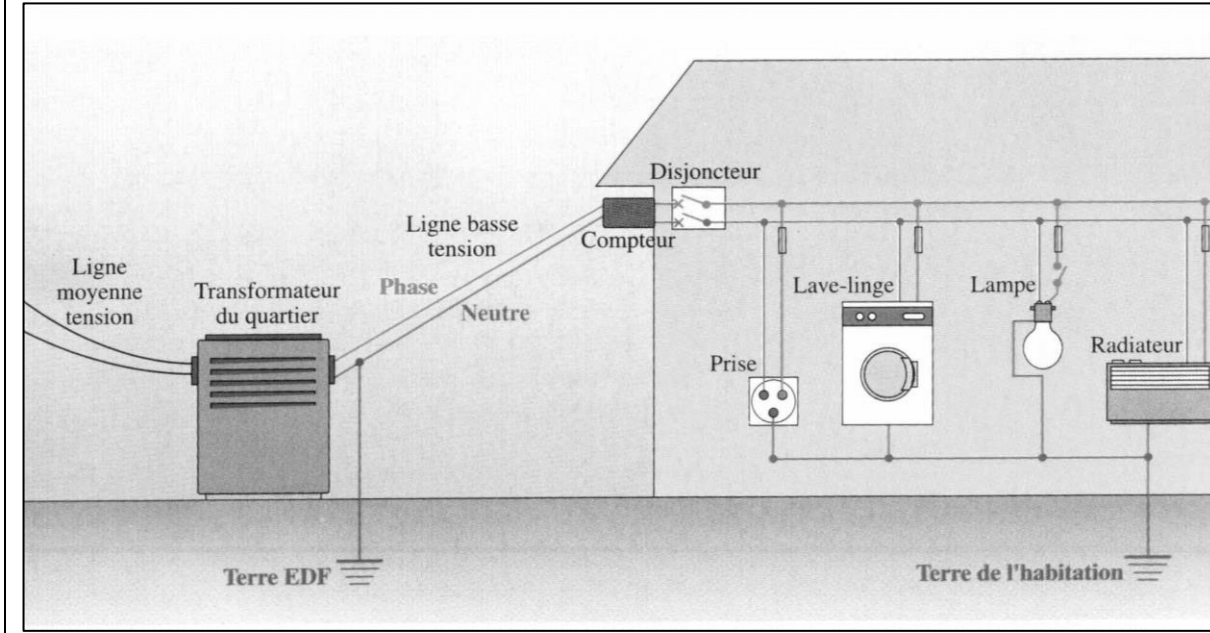
Liberté • Égalité • Fraternité
RÉPUBLIQUE FRANÇAISE

Né(e) le :

(Les numéros figurent sur la convocation.)

1.1

Document 4 : Schéma de principe d'une installation électrique



Donnée :

Loi d'Ohm reliant la tension U exprimée en volt (V) aux bornes d'un dipôle, l'intensité I exprimée en ampère (A) du courant qui le traverse et la résistance R exprimée en ohm (Ω) du dipôle étudié : $U = R \times I$.

1. Citer une propriété commune aux trois signaux représentés sur le **document 1**, relativement à l'allure de ces signaux.
2. Expliciter les calculs de la fréquence et de la tension efficace du signal inconnu à partir de son oscillogramme figurant dans le **document 1**, et conclure qu'il peut s'agir de l'oscillogramme de la tension du secteur.

Le risque électrique est lié à la résistance du corps humain qui peut varier en fonction de l'individu et de l'état de la peau. Lors de son accident, l'électricien se trouvait dans un local parfaitement sec et sa peau était sèche lorsqu'il est entré en contact avec la phase du secteur.

3. Évaluer, en exploitant le **document 2**, la valeur approchée de l'intensité du courant (exprimée en milliampère) ayant traversé le corps de l'électricien.
4. À l'aide de l'étude précédente et du **document 3**, déduire la nature des constatations effectuées par le médecin lors de l'accident de l'électricien.



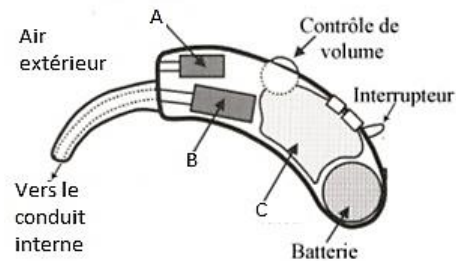
5. Citer deux règles de sécurité, dans la vie quotidienne à la maison, à respecter afin d'éviter les risques d'électrisation.

6. Identifier, sur le schéma de l'installation électrique figurée sur le **document 4**, les éléments utilisés afin de protéger les usagers du réseau électrique.

Exercice 4 : L'appareillage auditif (5 points)

À la fois puissantes et discrètes, les prothèses auditives sont aujourd'hui efficaces et faciles d'utilisation. Elles ont évolué au même rythme que les avancées technologiques. De l'appareil d'entrée de gamme à des modèles plus sophistiqués, les prothèses auditives actuelles ont une excellente qualité de restitution sonore.

Document 1 : Schéma simplifié d'une prothèse auditive



Modèle CCYC : ©DNE

Nom de famille (naissance) :

(Suivi s'il y a lieu, du nom d'usage)

Prénom(s) :

N° candidat :

N° d'inscription :



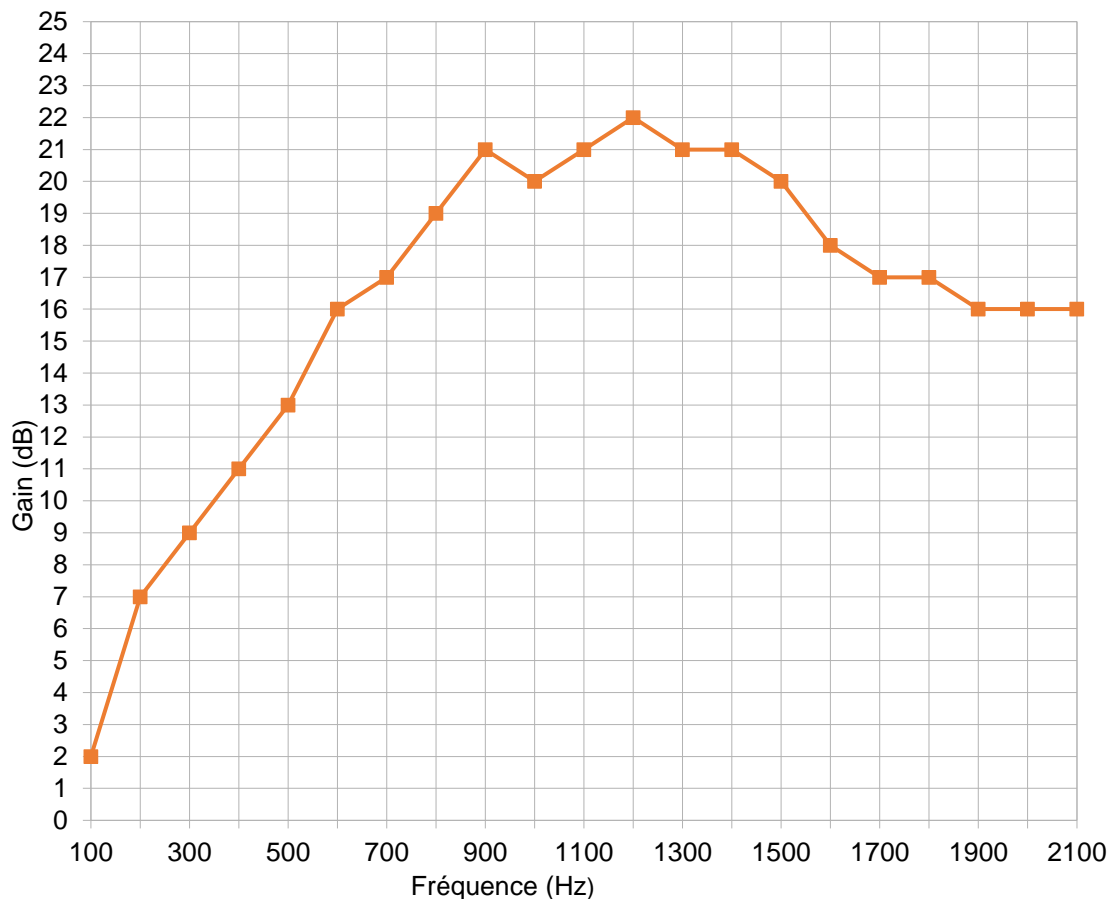
Liberté • Égalité • Fraternité
RÉPUBLIQUE FRANÇAISE

Né(e) le :

(Les numéros figurent sur la convocation.)

1.1

Document 2 : Gain de la prothèse auditive en fonction de la fréquence



Donnée :

La période T d'une onde est égale à l'inverse de sa fréquence f .

1. Associer aux lettres A, B et C, figurant sur le schéma simplifié d'une prothèse auditive dans le **document 1**, les termes suivants : amplificateur ; haut-parleur et microphone.

2. Expliquer brièvement le principe de fonctionnement d'une prothèse auditive de même type que celle décrite au **document 1**.

Un fabricant de prothèses auditives effectue une série de tests avant de commercialiser une prothèse auditive. Il obtient alors la courbe tracée au **document 2**.



3. Expliquer l'intérêt de réaliser la série de tests dans la gamme de fréquence indiquée dans le **document 2**.

4. Indiquer le nom de l'unité dont le symbole est dB.

5. Calculer la période temporelle d'un son dont la fréquence est égale à 440Hz.

6. Déterminer graphiquement, en expliquant la démarche, le gain de la prothèse pour le son dont la fréquence est égale à 440 Hz.

7. Déterminer graphiquement, en expliquant la démarche, la fréquence pour laquelle la prothèse auditive est la plus efficace.