

EXERCICE 1

TEMPERATURES DE SURFACE DE QUELQUES OBJETS DU SYSTÈME SOLAIRE

Le système solaire est formé d'une étoile, le Soleil, autour de laquelle des planètes, des satellites, des astéroïdes sont en orbite. La distance entre ces objets et l'étoile a une influence sur leur température de surface mais il semble que cela ne soit pas le seul facteur entrant en jeu...

Document de référence : Caractéristiques de quelques objets du système solaire :

Planètes internes	Mercure	Venus	Terre	Mars
Caractéristiques				
Distance au Soleil (10 ⁶ km)	57,91	108,21	149,6	227,94
Puissance solaire reçue par unité de surface (W·m ⁻²)	2290	656	342	148
Importance qualitative de l'effet de serre atmosphérique	Pas d'effet de serre atmosphérique	Effet de serre atmosphérique très marqué	Effet de serre atmosphérique modéré	Effet de serre atmosphérique faible
Albédo du système « planète-atmosphère »**	0,07	0,7	0,3	0,15
Satellites	Aucun	Aucun	La Lune : Pas d'atmosphère Albédo : 0,07	Phobos : Pas d'atmosphère Albédo : 0,07

** L'albédo mesure le pouvoir réfléchissant d'une surface. C'est la proportion d'énergie lumineuse réfléchie. Sa valeur est comprise entre 0 et 1. Plus une surface est réfléchissante, plus son albédo est élevé. Par exemple, l'albédo de la neige fraîche est de 0,87, ce qui signifie que 87 % de l'énergie lumineuse est réfléchie par ce type de neige.

L'albédo d'un système Planète-atmosphère est la proportion de l'énergie solaire qui est réfléchie par la planète et son atmosphère vers l'espace. Les éléments qui contribuent le plus à l'albédo du système Terre-atmosphère sont les nuages, les surfaces de neige et de glace et les aérosols.

D'après : Géosciences La dynamique du système Terre de Christian Robert et Romain Bousquet, <https://www.actu-environnement.com> et <https://www.futura-sciences.com>

Modèle CCYC : ©DNE

Nom de famille (naissance) :


(Suivi s'il y a lieu, du nom d'usage)

Prénom(s) :

N° candidat : N° d'inscription :

(Les numéros figurent sur la convocation.)

Né(e) le : / /



1.1

Partie 1 : Des données expérimentales à un modèle mathématique possible.

Document 1. Montage expérimental permettant de mesurer la puissance lumineuse reçue par un récepteur en fonction de la distance à la source lumineuse.

On dispose d'une lampe et d'un capteur, le luxmètre*, permettant de mesurer l'éclairement lumineux reçu. L'expérimentateur réalise une série de mesures en éloignant progressivement le luxmètre de la lampe. On présente ces mesures dans le tableau ci-dessous.

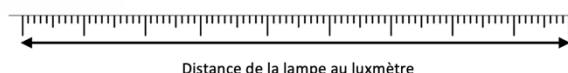


Tableau des mesures réalisées :

Distance par rapport à la lampe (en mètres)	0,2	0,3	0,4	0,5	0,7	0,8	0,9	1
Éclairement lumineux reçu (en lux**)	10 800	5 300	3 100	1 800	1 000	700	500	400

D'après : <https://www.pierron.fr/news/fiches-tp-svt-2nd.html>

* Luxmètre : Appareil de mesure de l'éclairement lumineux comportant une cellule photosensible.

** Lux : unité de mesure de l'éclairement lumineux (puissance lumineuse reçue par unité de surface).

1- Le graphique de l'annexe 1 (à rendre avec la copie) permet de représenter les variations de l'éclairement lumineux reçu par le capteur en fonction de la distance à la source d'énergie, Reporter sur ce graphique les points expérimentaux obtenus dans le document 1.

2- À partir de l'allure du nuage de points obtenu à la question 1, un tableur permet de proposer une modélisation mathématique par une fonction. Cette fonction, notée f , est définie par :

$$f(d) = \frac{432}{d^2}$$

où d représente la distance à la lampe (en mètre) et $f(d)$ l'éclairement lumineux reçu (en lux).

2-a- En utilisant cette modélisation mathématique, compléter le tableau de valeurs donné en annexe 2 à rendre avec la copie. On arrondira les résultats à l'unité.



2-b- Représenter la fonction f dans le repère donné en annexe 1.

2-c- Cette modélisation mathématique semble-t-elle pertinente pour caractériser la relation entre l'éclairement lumineux reçu par le capteur et la distance à la source lumineuse ? Justifier.

3- On admet que la loi illustrée expérimentalement dans le document 1 est générale : « La puissance lumineuse par unité de surface reçue par un objet est inversement proportionnelle au carré de la distance qui le sépare de la source lumineuse ».

En s'appuyant sur le document de référence, choisir, parmi les affirmations suivantes, celle qui est correcte au regard de ce modèle. L'écrire sur la copie et justifier la réponse donnée.

La puissance lumineuse par unité de surface, provenant du Soleil et reçue sur Venus est environ :

- a) deux fois plus grand que celui reçu sur Mercure.
- b) quatre fois plus grand que celui reçu sur Terre.
- c) deux fois plus petit que celui reçu sur Terre.
- d) quatre fois plus petit que celui reçu sur Mercure.

Partie 2 : Confrontation du modèle mathématique à la réalité.

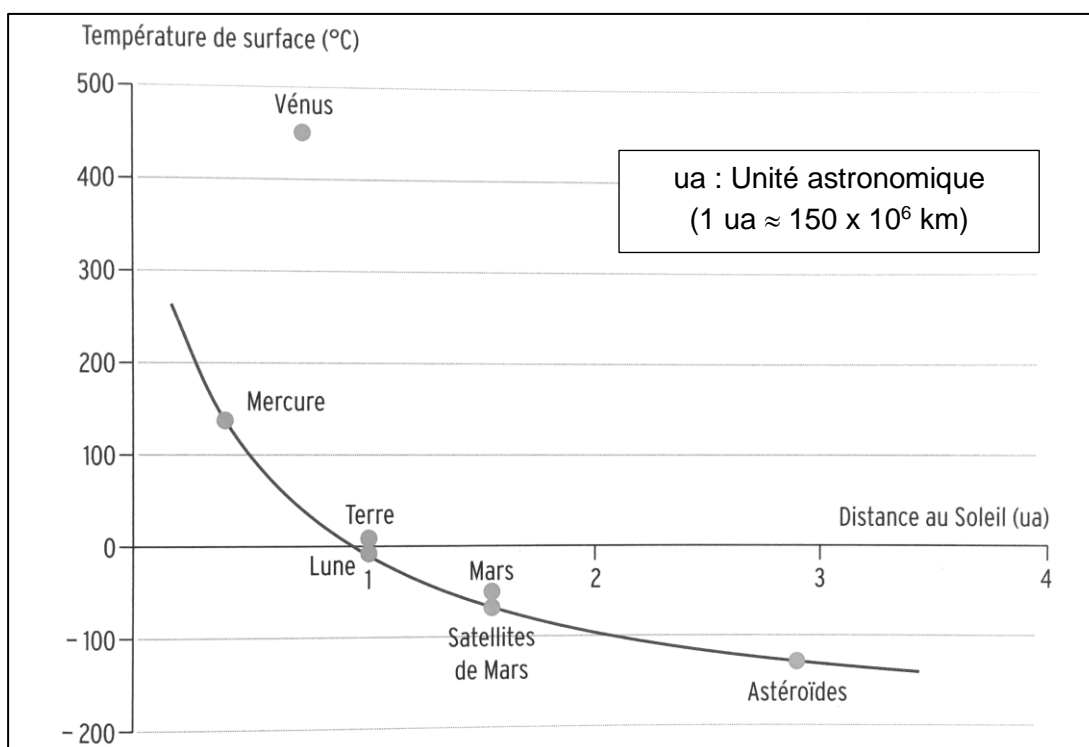
Dans cette partie, on admet que la puissance reçue par unité de surface par les objets du système solaire est inversement proportionnelle au carré de leur distance au soleil, d'une façon analogue à l'étude menée en partie 1. Moyennant certaines hypothèses, on peut en déduire une « loi de variation de la température moyenne des planètes en fonction de leur distance au soleil » (voir le document 2).



Document 2. Températures de surface de quelques objets proches du Soleil.

Le graphique ci-dessous précise :

- Les températures moyennes effectivement mesurées à la surface de différentes planètes en fonction de leur distance au soleil (points gris).
- L'évolution de la température moyenne d'un objet en fonction de la distance au soleil modélisée par la « loi de variation de la température moyenne des planètes en fonction de leur distance au soleil » (courbe continue).



D'après : Collection in vivo, SVT 2^{de} 2004, Magnard

4- Quels sont les objets considérés dans le document 2 pour lesquels la loi modélisant l'évolution de la température des planètes en fonction de leur distance au Soleil est bien vérifiée ? Quelles propriétés ces objets ont-ils en commun ?

5- A partir de vos connaissances, expliquer qualitativement l'influence de l'albedo et de l'effet de serre sur la température terrestre moyenne.

6- Proposer une explication du fait que la température de Vénus est « anormalement » élevée par rapport aux autres objets considérés.



EXERCICE 2 APPROCHE HISTORIQUE DE L'ÂGE DE LA TERRE

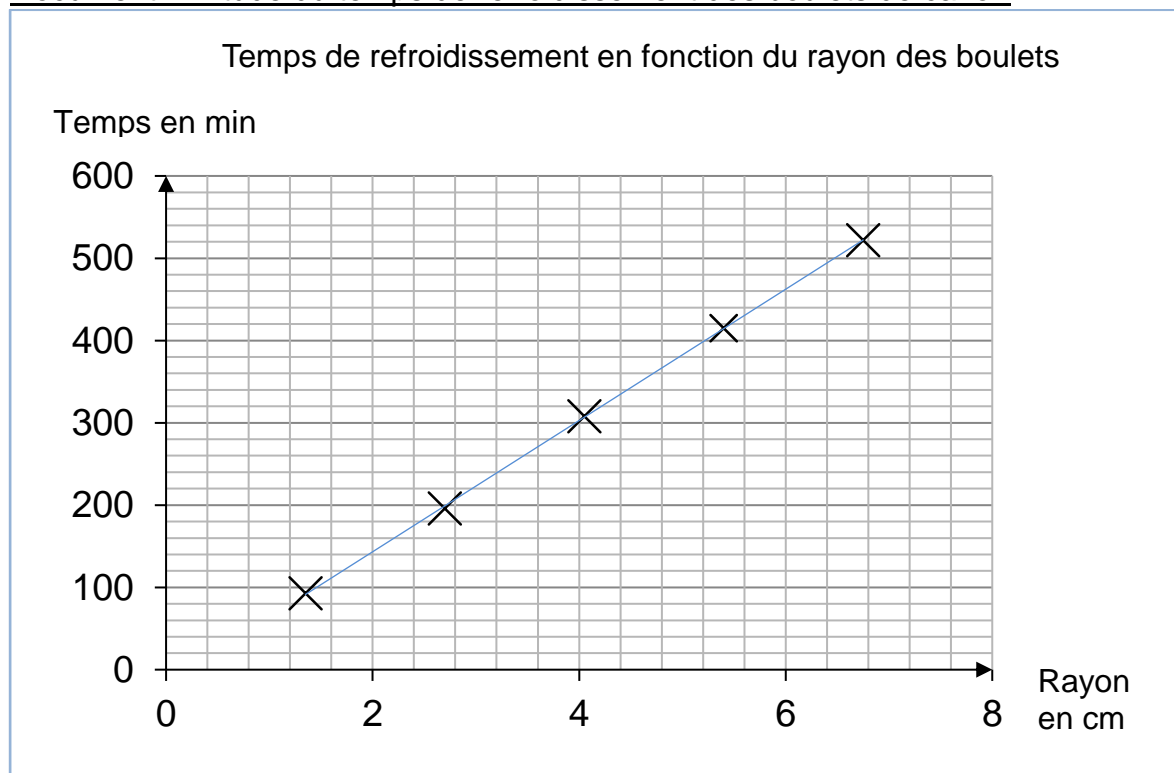
Depuis l'Antiquité, la question de l'âge de la Terre a soulevé de nombreuses controverses. On se propose d'étudier différentes méthodes ayant permis d'estimer l'âge de la Terre au cours de l'histoire des sciences.

Partie A. Les précurseurs : Buffon et Kelvin

• La démarche de Buffon

Georges Louis Leclerc, comte de Buffon, est le premier à réaliser une expérience pour déterminer l'âge de la Terre. Partant de l'hypothèse que la Terre a d'abord été une sphère de matière en fusion qui a refroidi, il chauffe au rouge 10 boulets de fer forgé de tailles différentes et inférieures à 5 pouces (1 pouce = 2,54 cm). Buffon mesure la durée de leur refroidissement et extrapole ensuite ses résultats au globe terrestre, dont le diamètre connu à l'époque est proche de 13 000 km. Pendant plusieurs années et avec des métaux différents, il effectuera plus de 60 expériences, chacune répétées trois fois.

Document 1. Étude du temps de refroidissement des boulets de canon



Modèle CCYC : ©DNE																				
Nom de famille (naissance) : <small>(Suivi s'il y a lieu, du nom d'usage)</small>																				
Prénom(s) :																				
N° candidat :											N° d'inscription :									
 Liberté • Égalité • Fraternité RÉPUBLIQUE FRANÇAISE	(Les numéros figurent sur la convocation.)																			
Né(e) le :			/			/														

1.1

Buffon écrit :

« Maintenant, si l'on voulait chercher [...] combien il faudrait de temps à un globe gros comme la Terre pour se refroidir, on trouverait, d'après les expériences précédentes, [...] quatre-vingt-seize-mille six cent soixante-dix ans et cent trente-deux jours pour la refroidir à la température actuelle » (extrait de *L'Histoire Naturelle, générale et particulière*, Buffon, 1774).

• La démarche de Kelvin

Presque un siècle plus tard, le Britannique Lord Kelvin utilise la théorie de la conduction de la chaleur établie par Fourier et modélisée par « l'équation de la chaleur ». En considérant que l'intérieur de la Terre est homogène et rigide, il estime l'âge de la Terre entre 20 et 400 millions d'années en utilisant l'équation de transfert de chaleur.

Lord Kelvin écrit :

« Le fait que la température de la Terre augmente avec la profondeur sous la surface implique une perte continue de chaleur de l'intérieur par conduction vers l'extérieur, à travers ou dans la croûte supérieure. Puisque la croûte supérieure ne devient pas plus chaude d'année en année, il doit donc y avoir une perte de chaleur séculaire de la Terre entière... Mais il est certain que la Terre devient de plus en plus froide d'âge en âge... » (d'après *On the Secular Cooling of the Earth*, Lord Kelvin, 1862)

En s'appuyant sur le document 1, les informations précédentes et sur vos connaissances personnelles, répondre aux questions suivantes.

- 1- Expliciter la démarche mise en œuvre par Buffon, ses points forts et ses limites.
- 2- Expliciter la démarche mise en œuvre par Lord Kelvin, ses points forts et ses limites.
- 3- Commenter les âges de la Terre proposés par Buffon et Kelvin. On attend une comparaison des valeurs, de leur précision et de leur ordre de grandeur.

Partie B. Les positions des géologues et de Charles Darwin

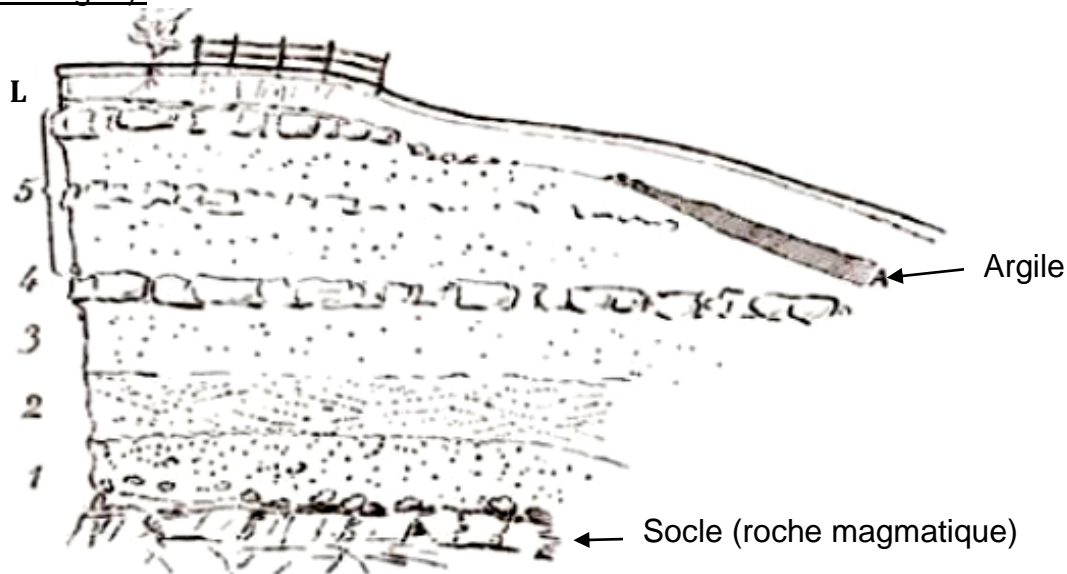
Au XIX^e siècle, des géologues à l'instar de Charles Lyell, affirment que l'explication du passé de la Terre réside dans l'étude des phénomènes géologiques actuels. Ils utilisent la vitesse de sédimentation pour évaluer l'âge de la Terre.

En considérant que les sédiments se déposent à un rythme compris entre 1 mm et 1 cm par an, ils estiment l'âge de la Terre à environ 3 milliards d'années.



Quant à Charles Darwin, il s'oppose à Kelvin dans son ouvrage « De l'origine des espèces » paru en 1859. Selon lui, la théorie de l'évolution permet d'expliquer la diversité du vivant, mais elle nécessite des temps très longs, de l'ordre du milliard d'années.

Document 2. Coupe géologique d'un affleurement géologique à Wöllstein (Allemagne).



L Terre végétale limoneuse	0,60	3 Sable blanc	1,20
A Argile grise, fendillée	0,20	2 Sable jaune à stratification oblique, débris fossilifères, <i>Ostrea callifera</i>	1,00
5 Sable gris et jaune avec blocs de grès arrondis	3,50	1 Sable graveleux, grossier	1,50
4 Grès jaune, dur, tabulaire	0,40		

L'épaisseur de chaque couche est donnée en mètres.

D'après Gustave-F. Dollfus, *Bulletin de la société géologique de France*, 1911.

4- En considérant que la vitesse de sédimentation est de 0,1 mm par an et que les sédiments formant ces différentes strates (couches 1 à 5) se sont déposés de manière uniforme, estimer la durée de formation de l'ensemble des strates de Wöllstein surmontant le socle.

5- Comparer cet âge à celui estimé par Darwin. Proposer une hypothèse pour laquelle cette estimation de l'âge de la Terre à partir de cette coupe géologique est très différente.

