

EXERCICE 1

TEMPERATURES DE SURFACE DE QUELQUES OBJETS DU SYSTEME SOLAIRE

Le système solaire est formé d'une étoile, le Soleil, autour de laquelle des planètes, des satellites, des astéroïdes sont en orbite. La distance entre ces objets et l'étoile a une influence sur leur température de surface mais il semble que cela ne soit pas le seul facteur entrant en jeu...

Document de référence : Caractéristiques de quelques objets du système solaire :

Planètes internes	Mercure	Venus	Terre	Mars
Caractéristiques				
Distance au Soleil (10 ⁶ km)	57,91	108,21	149,6	227,94
Puissance solaire reçue par unité de surface (W·m ⁻²)	2290	656	342	148
Importance qualitative de l'effet de serre atmosphérique	Pas d'effet de serre atmosphérique	Effet de serre atmosphérique très marqué	Effet de serre atmosphérique modéré	Effet de serre atmosphérique faible
Albédo du système « planète-atmosphère »**	0,07	0,7	0,3	0,15
Satellites	Aucun	Aucun	La Lune : Pas d'atmosphère Albédo : 0,07	Phobos : Pas d'atmosphère Albédo : 0,07

** L'albédo mesure le pouvoir réfléchissant d'une surface. C'est la proportion d'énergie lumineuse réfléchie. Sa valeur est comprise entre 0 et 1. Plus une surface est réfléchissante, plus son albédo est élevé. Par exemple, l'albédo de la neige fraîche est de 0,87, ce qui signifie que 87 % de l'énergie lumineuse est réfléchie par ce type de neige.

L'albédo d'un système Planète-atmosphère est la proportion de l'énergie solaire qui est réfléchie par la planète et son atmosphère vers l'espace. Les éléments qui contribuent le plus à l'albédo du système Terre-atmosphère sont les nuages, les surfaces de neige et de glace et les aérosols.

D'après : Géosciences La dynamique du système Terre de Christian Robert et Romain Bousquet, <https://www.actu-environnement.com> et <https://www.futura-sciences.com>

Modèle CCYC : ©DNE

Nom de famille (naissance) :


(Suivi s'il y a lieu, du nom d'usage)

Prénom(s) :

N° candidat : N° d'inscription :

(Les numéros figurent sur la convocation.)

Né(e) le : / /



1.1

Partie 1 : Des données expérimentales à un modèle mathématique possible.

Document 1 : Montage expérimental permettant de mesurer la puissance lumineuse reçue par un récepteur en fonction de la distance à la source lumineuse.

On dispose d'une lampe et d'un capteur, le luxmètre*, permettant de mesurer l'éclairement lumineux reçu. L'expérimentateur réalise une série de mesures en éloignant progressivement le luxmètre de la lampe. On présente ces mesures dans le tableau ci-dessous.



Distance de la lampe au luxmètre

Tableau des mesures réalisées :

Distance par rapport à la lampe (en mètres)	0,2	0,3	0,4	0,5	0,7	0,8	0,9	1
Éclairement lumineux reçu (en lux**)	10 800	5 300	3 100	1 800	000	700	500	400

D'après : <https://www.pierron.fr/news/fiches-tp-svt-2nd.html>

* Luxmètre : Appareil de mesure de l'éclairement lumineux comportant une cellule photosensible.

** Lux : unité de mesure de l'éclairement lumineux (puissance lumineuse reçue par unité de surface).

- 1- Le graphique de l'annexe 1 (à rendre avec la copie) permet de représenter les variations de l'éclairement lumineux reçu par le capteur en fonction de la distance à la source d'énergie, Reporter sur ce graphique les points expérimentaux obtenus dans le document 1.
- 2- À partir de l'allure du nuage de points obtenu à la question 1, un tableur permet de proposer une modélisation mathématique par une fonction. Cette fonction, notée f , est définie par :

$$f(d) = \frac{432}{d^2}$$

où d représente la distance à la lampe (en mètre) et $f(d)$ l'éclairement lumineux reçu (en lux).

2-a- En utilisant cette modélisation mathématique, compléter le tableau de valeurs donné en annexe 2 à rendre avec la copie. On arrondira les résultats à l'unité.



2-b- Représenter la fonction f dans le repère donné en annexe 1.

2-c- Cette modélisation mathématique semble-t-elle pertinente pour caractériser la relation entre l'éclairement lumineux reçu par le capteur et la distance à la source lumineuse ? Justifier.

3- On admet que la loi illustrée expérimentalement dans le document 1 est générale : « La puissance lumineuse par unité de surface reçue par un objet est inversement proportionnelle au carré de la distance qui le sépare de la source lumineuse ».

En s'appuyant sur le document de référence, choisir, parmi les affirmations suivantes, celle qui est correcte au regard de ce modèle. L'écrire sur la copie et justifier la réponse donnée.

La puissance lumineuse par unité de surface, provenant du Soleil et reçue sur Venus est environ :

- a) deux fois plus grand que celui reçu sur Mercure.
- b) quatre fois plus grand que celui reçu sur Terre.
- c) deux fois plus petit que celui reçu sur Terre.
- d) quatre fois plus petit que celui reçu sur Mercure.

Partie 2 : Confrontation du modèle mathématique à la réalité.

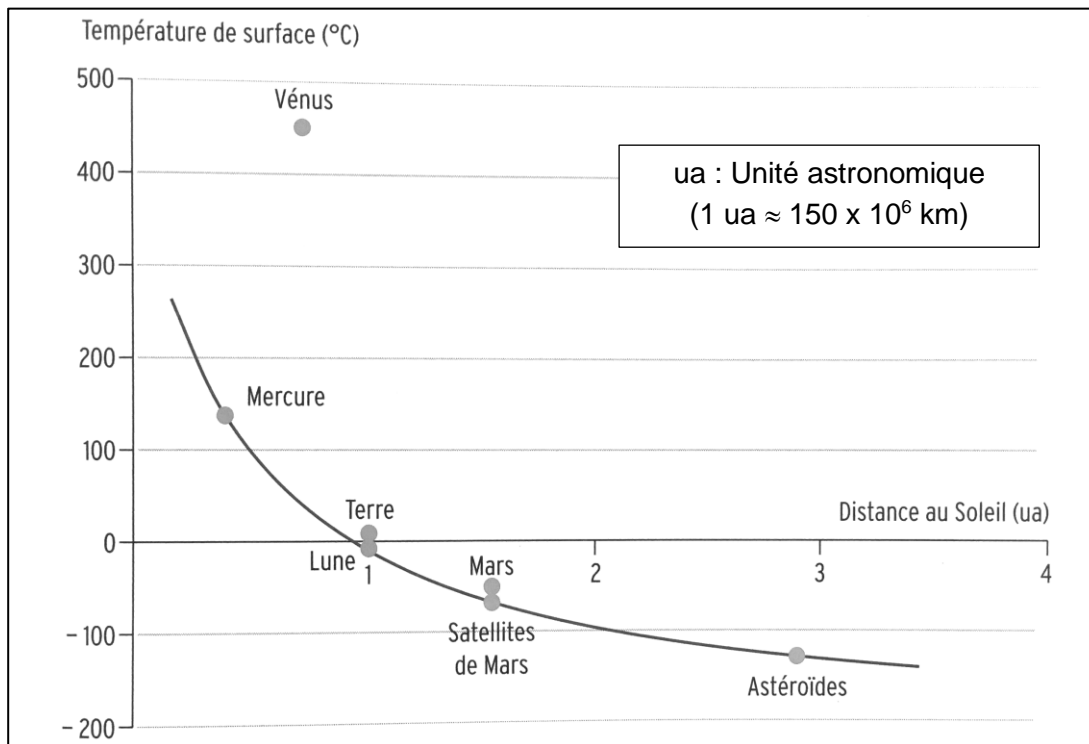
Dans cette partie, on admet que la puissance reçue par unité de surface par les objets du système solaire est inversement proportionnelle au carré de leur distance au soleil, d'une façon analogue à l'étude menée en partie 1. Moyennant certaines hypothèses, on peut en déduire une « loi de variation de la température moyenne des planètes en fonction de leur distance au soleil » (voir le document 2).



Document 2 : Températures de surface de quelques objets proches du Soleil.

Le graphique ci-dessous précise :

- Les températures moyennes effectivement mesurées à la surface de différentes planètes en fonction de leur distance au soleil (points gris).
- L'évolution de la température moyenne d'un objet en fonction de la distance au soleil modélisée par la « loi de variation de la température moyenne des planètes en fonction de leur distance au soleil » (courbe continue).



D'après : Collection in vivo, SVT 2^{de} 2004, Magnard

4- Quels sont les objets considérés dans le document 2 pour lesquels la loi modélisant l'évolution de la température des planètes en fonction de leur distance au Soleil est bien vérifiée ? Quelles propriétés ces objets ont-ils en commun ?

5- A partir de vos connaissances, expliquer qualitativement l'influence de l'albedo et de l'effet de serre sur la température terrestre moyenne.

6- Proposer une explication du fait que la température de Vénus est « anormalement » élevée par rapport aux autres objets considérés.



EXERCICE 2

PERTE AUDITIVE APRÈS UN CONCERT

Fabrice a passé une soirée au concert donné par les élèves du lycée. Dans les semaines qui suivent, il ressent une grande fatigue et ne semble pas toujours entendre les questions qu'on lui pose. Ses parents lui reprochent d'écouter la musique trop fort. Inquiet, Fabrice passe des examens médicaux fonctionnels et anatomiques.

En utilisant les documents :

- 1- Montrer que la perte auditive moyenne de Fabrice sur les deux oreilles est comprise entre 40 et 45 dB.
- 2- Indiquer si les symptômes présentés par Fabrice correspondent à la perte auditive constatée.
- 3- Expliquer l'origine physiologique de ces troubles en mobilisant vos connaissances.

Document 1. Audiogrammes de Fabrice

Un audiogramme permet d'évaluer la perte d'audition d'une personne mesurée en décibel (dB) en fonction de la fréquence du son émis en Hertz (Hz). Il s'obtient par un test réalisé chez un médecin spécialisé.

L'objectif du test est de mesurer, pour différentes fréquences, le niveau d'intensité sonore minimal (seuil d'audition) pour que le son soit entendu par Fabrice. Les fréquences sonores testées sont comprises entre 500 et 8 000 Hz.

Légende des audiogrammes :

—◆—◆— : norme auditive moyenne

—■—■— : réponse auditive de Fabrice lors du test médical



Document 2. Méthode de calcul de la perte auditive moyenne sur les deux oreilles

- Pour chacune des fréquences 500 Hz, 1000 Hz, 2000 Hz et 4000 Hz, et pour chaque oreille, on calcule la différence entre l'intensité du son audible par le patient et la norme auditive moyenne.
- On note Pmd la moyenne de ces 4 valeurs pour l'oreille droite et Pmg la moyenne de ces valeurs pour l'oreille gauche.
- La fonction Python ci-dessous permet alors de calculer la perte auditive moyenne (sur les deux oreilles) :

```
def Perte auditive moyenne  
(Pmd,Pmg) :  
    if -15 <= Pmg-Pmd <= 15 :  
        Pm = 0.5 * Pmd + 0.5 *  
Pmg  
    else :  
        if Pmg – Pmd > 15 :  
            Pm = 0.7 * Pmd + 0.3 * Pmg  
        else :  
            Pm = 0.3 * Pmd + 0.7 * Pmg  
    return Pm
```


Modèle CCYC : ©DNE

Nom de famille (naissance) :

(Suivi s'il y a lieu, du nom d'usage)

Prénom(s) :

N° candidat :

N° d'inscription :



Né(e) le :

(Les numéros figurent sur la convocation.)

1.1

Document 3. Niveaux de surdité et symptômes associés

Degré de la perte auditive	Perte auditive moyenne	Symptômes, conséquences
Audition "normale"	de 0 à 20 dB	Vous n'éprouvez aucune difficulté particulière, <u>en milieu calme ou bruyant.</u>
Perte légère	de 20 à 40 dB	Vous avez des difficultés à percevoir <u>les voix faibles ou lointaines</u> et les conversations, surtout lorsque vous êtes en milieu bruyant.
Perte moyenne	de 40 à 70 dB	<u>La perception des paroles devient difficile</u> , il faut que celles-ci soient fortes pour que vous puissiez les comprendre aisément. Vous avez <u>tendance à augmenter le volume</u> de la télévision, radio, mp3... Suivre une conversation en groupe devient très compliqué et fatigant.
Perte sévère	de 70 à 90 dB	Vous n'entendez pas les paroles, à moins que celles-ci soient fortes ou proche de vous. Il est très difficile pour vous de suivre une conversation, voire impossible si vous n'êtes pas équipé d'aides auditives. Certains sons forts restent audibles.
Perte profonde	90 dB et +	La plupart des sons deviennent imperceptibles, quel que soit l'environnement d'écoute. Vous n'arrivez pas à communiquer, <u>suivre une conversation est impossible sans appareil auditif</u> , certains sons extrêmement forts restent toutefois audibles.
Surdit� totale	120 dB	Aucune capacit� d'audition mesurable.

D'apr s : <https://www.laboratoires-unisson.com/perte-auditive-causes-et-consequence-de-la-perte-d-audition.html>



Modèle CCYC : ©DNE

Nom de famille (naissance) :

(Suivi s'il y a lieu, du nom d'usage)

Prénom(s) :

N° candidat :

N° d'inscription :



Liberté • Égalité • Fraternité
RÉPUBLIQUE FRANÇAISE

Né(e) le :

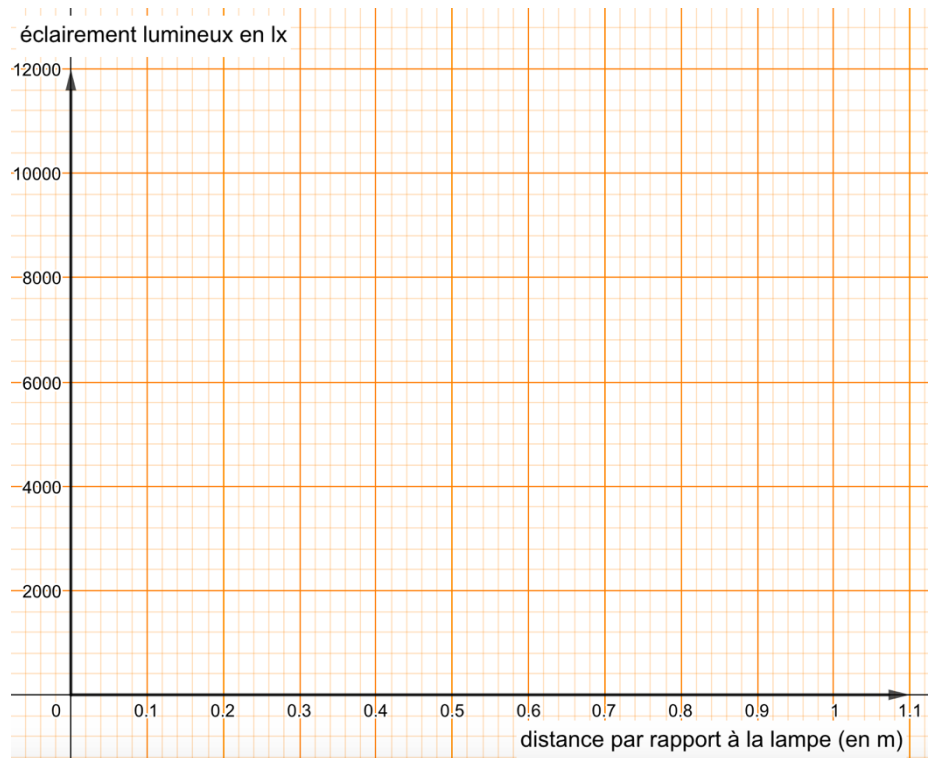
(Les numéros figurent sur la convocation.)

1.1

ANNEXE A RENDRE AVEC LA COPIE

Exercice : Températures de surface de quelques objets du système solaire

Partie 1 – questions 1- et 2-b



Partie 1 – question 2-a-

d (en m)	0,2	0,3	0,4	0,5	0,6	0,8	1
$f(d)$ (en lux)	10 800	4 700	...	1 728	...	675	...