

Modèle CCYC : ©DNE

Nom de famille (naissance) :

(Suivi s'il y a lieu, du nom d'usage)

Prénom(s) :

N° candidat :

N° d'inscription :



Liberté • Égalité • Fraternité  
RÉPUBLIQUE FRANÇAISE

Né(e) le :

(Les numéros figurent sur la convocation.)

1.1

## ÉVALUATION

**CLASSE** : Première

**VOIE** :  Générale  Technologique  Toutes voies (LV)

**ENSEIGNEMENT** : physique-chimie

**DURÉE DE L'ÉPREUVE** : 2 h

**CALCULATRICE AUTORISÉE** :  Oui  Non

Ce sujet contient des parties à rendre par le candidat avec sa copie. De ce fait, il ne peut être dupliqué et doit être imprimé pour chaque candidat afin d'assurer ensuite sa bonne numérisation.

**Nombre total de pages** : 9

### PARTIE A

#### Exposition au soleil et protection (10 points)

Le Soleil est la principale source du rayonnement électromagnétique reçu par la Terre. Une partie de ce rayonnement est constituée de radiations ultraviolettes (UV). Une exposition prolongée aux rayons ultraviolets peut provoquer des dommages au niveau des yeux ou de la peau, tels que brûlures, vieillissement prématuré ou cancers. Il est donc nécessaire de prendre certaines précautions pour s'en protéger.

#### 1. Les différents types de rayons ultraviolets

Il existe trois catégories de rayonnements ultraviolets, classés par domaines de longueur d'onde selon leurs effets biologiques et leur pouvoir de pénétration dans la peau :

- les UV-A :  $320 \text{ nm} < \lambda < 400 \text{ nm}$  ;
- les UV-B :  $280 \text{ nm} < \lambda < 320 \text{ nm}$  ;
- les UV-C :  $100 \text{ nm} < \lambda < 280 \text{ nm}$  ;

Plus l'énergie d'un rayonnement UV est élevée, plus celui-ci sera dangereux pour la peau.

#### Données :

- constante de Planck :  $h = 6,63 \times 10^{-34} \text{ J.s}$  ;
- la valeur de la célérité de la lumière  $c$  dans le vide est supposée connue du candidat ;
- $1 \text{ eV} = 1,60 \times 10^{-19} \text{ J}$ .

1.1. Calculer, en eV, la valeur de l'énergie  $E$  d'un photon de longueur d'onde  $\lambda = 280 \text{ nm}$  dans le vide.

1.2. Classer, en justifiant, les différents types d'UV par nocivité croissante.



## 2. L'ozone, l'écran solaire de la Terre

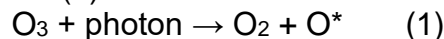
Avant d'atteindre la surface de la Terre, le rayonnement solaire subit des phénomènes d'absorption et de diffusion dans les couches de l'atmosphère, notamment en raison de la présence de dioxygène et d'ozone ( $O_3$ ).

L'ozone est particulièrement présent dans la stratosphère, couche située entre dix et cinquante kilomètres d'altitude.

La couche d'ozone atmosphérique absorbe totalement les rayonnements ultraviolets de fréquence comprise entre  $11 \times 10^{14}$  Hz et  $30 \times 10^{14}$  Hz.

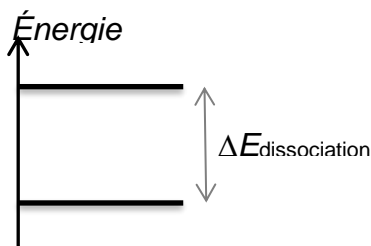
**2.1.** Déterminer quelle catégorie d'ultraviolets ne parvient pas jusqu'à la surface terrestre.

Lorsque le rayonnement UV traverse la stratosphère, certains photons incidents possèdent une énergie suffisante pour être absorbés par l'ozone. La transformation (dissociation) qui en résulte est modélisée par la réaction (1) :



La notation  $O^*$  signifie que l'atome d'oxygène formé est dans un état excité.

**2.2.** Le diagramme énergétique simplifié ci-dessous présente les niveaux d'énergie mis en jeu avant et après dissociation de l'ozone modélisée par la réaction (1).



**2.2.1.** Recopier ce diagramme sur la copie et représenter par une flèche la transition correspondant au phénomène d'absorption des photons incidents par l'ozone.

**2.2.2.** L'énergie de dissociation de l'ozone  $\Delta E_{\text{dissociation}}$  est égale à 4,97 eV. Montrer que cette valeur est en accord avec la réponse donnée à la question **2.1**.

## 3. Le Soleil... sans coup de soleil

Pour limiter les effets des rayonnements UV sur la peau, il est recommandé par les dermatologues de porter des vêtements et accessoires protecteurs, et d'utiliser une crème solaire. Il existe deux grandes catégories de protection solaire offerte par les cosmétiques selon la nature des filtres et leur mode d'action ; tous doivent être expressément autorisés par la réglementation :

- les filtres organiques qui agissent par absorption des rayonnements UV ;
- les filtres minéraux, à savoir le dioxyde de titane ( $TiO_2$ ) et l'oxyde de zinc ( $ZnO$ ), qui agissent par réflexion des rayons UV : ceux-ci ne pénètrent pas dans l'épiderme.

Ces différents filtres, chimiques ou minéraux [...] peuvent être combinés entre eux par les fabricants [...].

D'après <https://www.economie.gouv.fr/dgccrf/Publications/Vie-pratique/Fiches-pratiques/Protection-solaire>

Modèle CCYC : ©DNE

Nom de famille (naissance) :

(Suivi s'il y a lieu, du nom d'usage)

Prénom(s) :

N° candidat :

N° d'inscription :



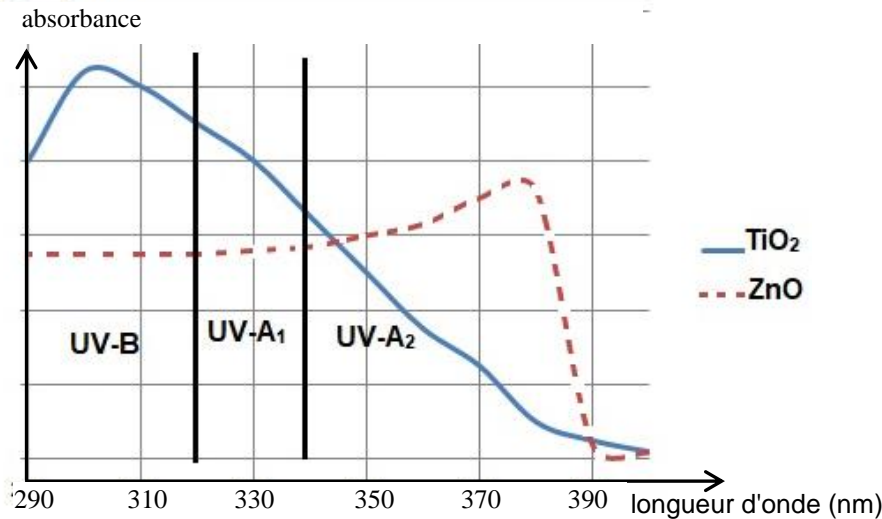
Né(e) le :

(Les numéros figurent sur la convocation.)

1.1

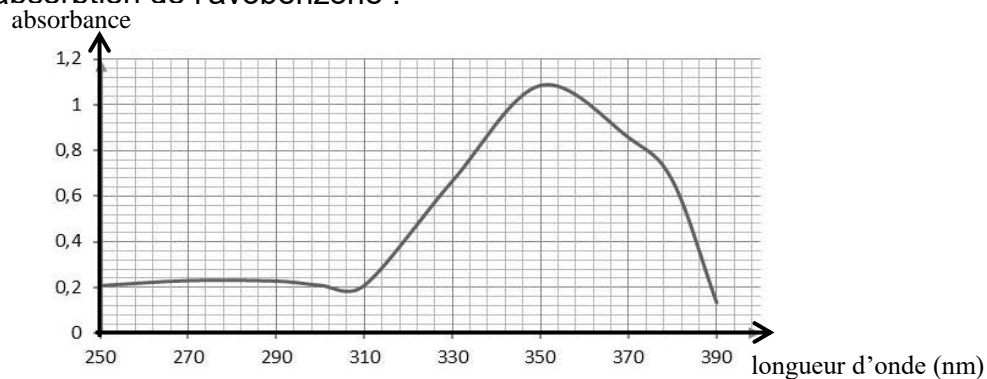
### Données :

- Spectre d'absorption de deux filtres minéraux,  $\text{TiO}_2$  et  $\text{ZnO}$  :



D'après <http://www.chimix.com/an19/bts/chim180.html>

- L'avobenzone est un filtre organique dont la masse molaire  $M$  est égale à  $310,4 \text{ g}\cdot\text{mol}^{-1}$ .
- Spectre d'absorption de l'avobenzone :



### 3.1. Expliquer l'intérêt pour un fabricant de crème solaire de combiner un filtre organique tel que l'avobenzone avec un filtre minéral tel que $\text{TiO}_2$ .

Une crème solaire, dont le seul principe actif est l'avobenzone, est étudiée au laboratoire afin de vérifier son efficacité dans le temps.

Sa formulation est à 3 %, ce qui signifie que le pourcentage en masse de principe actif est de 3,0 g d'avobenzone pour 100 g de crème.

On considère que la crème solaire reste efficace et peut être conservée tant que le pourcentage en masse du principe actif est supérieur à 2,5 %.

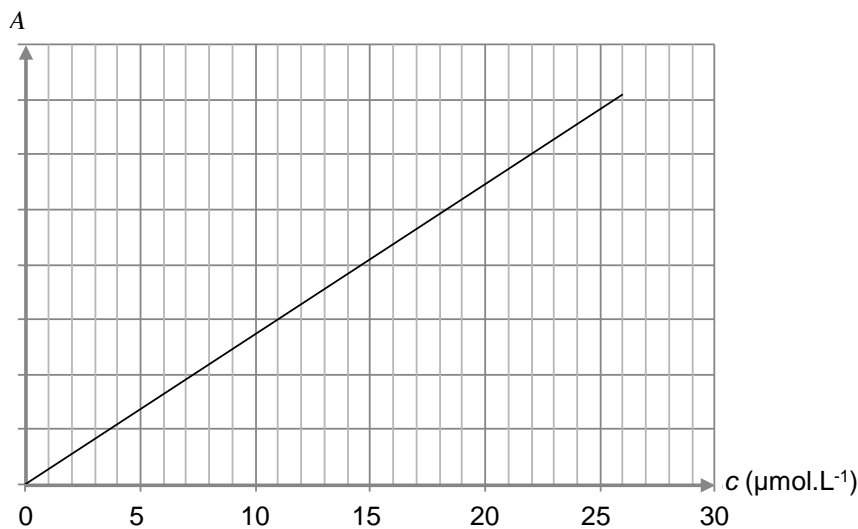
La période de conservation maximale après ouverture d'un produit cosmétique est indiquée par un symbole représentant un pot ouvert sur lequel la durée est précisée : 6 M pour 6 mois, 12 M pour 12 mois, 24 M pour 24 mois, etc.



Exemple de logo figurant sur un produit



Pour vérifier l'efficacité dans le temps de la crème solaire, on réalise la mesure de l'absorbance  $A$ , pour un rayonnement de longueur d'onde égale à 360 nm, de différentes solutions de concentration en quantité de matière  $c$  connue d'avobenzone dans du méthanol. Les résultats obtenus permettent le tracé de la courbe ci-après.



Tous les trois mois, on prépare une solution en introduisant 200 mg de crème solaire issue du même tube dans du méthanol pour obtenir un litre de solution dont on mesure l'absorbance.

Les résultats obtenus sont rassemblés dans le tableau suivant :

Nombre de mois écoulés depuis l'ouverture du tube	0	3	6	9	12	15
Absorbance	0,52	0,52	0,51	0,43	0,35	0,25

On considère que l'absorption des UV par des espèces chimiques autres que l'avobenzone est négligeable.

**3.2.** Justifier le choix de la longueur d'onde de travail.

**3.3.** Formulation de la crème solaire.

**3.3.1.** Déterminer la concentration en quantité de matière  $c_0$  de la solution réalisée à l'ouverture du tube de crème solaire.

**3.3.2.** La formulation de la crème solaire est-elle bien celle attendue ?

**3.4.** Évolution de la formulation de la crème solaire au cours du temps.

**3.4.1.** Indiquer, en justifiant, comment évolue la concentration en avobenzone au cours du temps.

**3.4.2.** La mention «12 M » peut-elle être inscrite sur le logo figurant sur le tube de crème solaire ?

*Le candidat est évalué sur ses capacités à concevoir et à mettre en œuvre une démarche de résolution, ainsi que sur la qualité de sa rédaction.*

*Toutes les prises d'initiative et toutes les tentatives de résolution, même partielles, seront valorisées.*

Modèle CCYC : ©DNE

Nom de famille (naissance) :

(Suivi s'il y a lieu, du nom d'usage)

Prénom(s) :

N° candidat :  N° d'inscription :

(Les numéros figurent sur la convocation.)

Né(e) le :  /  /



RÉPUBLIQUE FRANÇAISE

1.1

## PARTIE B

### Synthèse d'un ester et convoyage de médicaments (10 points)

#### I. Synthèse de l'éthanoate de benzyle au laboratoire

Le jasmin est un arbuste originaire d'Inde, très cultivé dans les régions chaudes. L'odeur de fleur de jasmin correspond à la combinaison de plusieurs espèces chimiques et entre dans la composition de nombreux parfums. L'une des espèces responsables de la senteur du jasmin est l'éthanoate de benzyle. Cet ester est préparé par action de l'acide éthanoïque sur l'alcool benzylique ; cette transformation est non totale, lente et un catalyseur, l'acide sulfurique, est ajouté pour la rendre plus rapide.

#### Données :

- Propriétés physico-chimiques des espèces mises en jeu :

Espèces chimiques	Alcool benzylique	Acide éthanoïque	Éthanoate de benzyle	Eau salée saturée
Formule brute	C <sub>7</sub> H <sub>8</sub> O	C <sub>2</sub> H <sub>4</sub> O <sub>2</sub>	C <sub>9</sub> H <sub>10</sub> O <sub>2</sub>	
Masse molaire (g.mol <sup>-1</sup> )	108,0	60,0	150,0	
Masse volumique (g.mL <sup>-1</sup> )	1,05	1,05	1,06	1,20
Solubilité dans l'eau	Faible	très grande	très faible	
Solubilité dans l'eau salée	plus faible que dans l'eau	très grande	insoluble	

#### Protocole de synthèse mis en œuvre :

- Sous la hotte, muni de gants et de lunettes, introduire 15 mL d'acide éthanoïque, 12 mL d'alcool benzylique, quelques gouttes d'acide sulfurique concentré et quelques grains de pierre ponce dans un ballon. Chauffer à reflux ce mélange pendant 30 minutes. Laisser refroidir.
- Introduire dans l'ampoule à décanter le mélange réactionnel et 50 mL d'une solution saturée de chlorure de sodium. Agiter puis laisser décanter. Récupérer la phase qui contient l'éthanoate de benzyle (phase organique).
- Sécher la phase organique en y ajoutant quelques cristaux de sulfate de magnésium anhydre.
- Vérifier la pureté du produit obtenu par spectroscopie infrarouge.

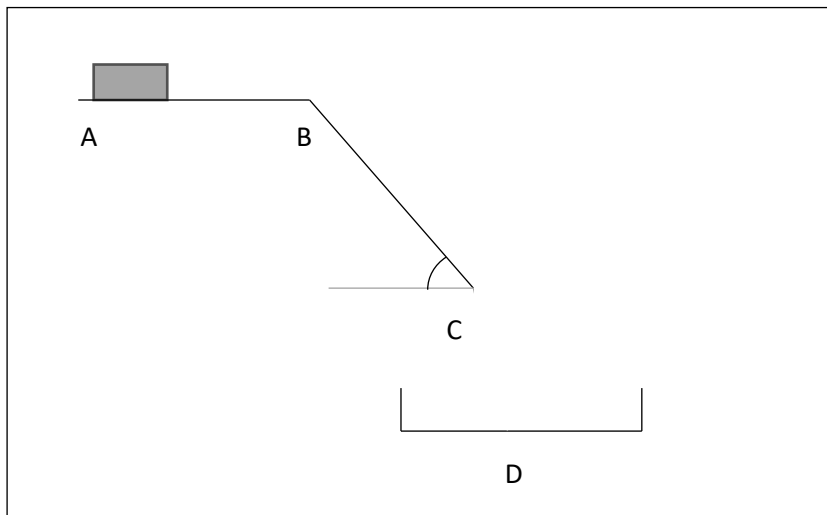
- Nommer chacune des 4 étapes du protocole notées de a à d.
- Quel est l'intérêt du montage à reflux?
- Schématiser et légénder l'ampoule à décanter après décantation, en précisant la composition de chaque phase. Justifier la position relative des phases.



- Écrire l'équation de la réaction modélisant la synthèse de l'éthanoate de benzyle sachant qu'il se forme également de l'eau.
- On obtient 6,0 g d'éthanoate de benzyle analysé comme pur. Déterminer la valeur du rendement de la synthèse. Commenter cette valeur.

## II. Système de convoyage pour les médicaments

Dans une pharmacie, afin d'optimiser la durée de délivrance des médicaments, un toboggan est installé entre le premier étage et le rez-de-chaussée. Un robot combiné à un automate dispose le médicament sur un tapis roulant, en fonction des commandes. Le pharmacien réceptionne le produit à l'étage inférieur pour le donner au client. Le schéma du dispositif est représenté ci-dessous.



On considère une boîte de médicament de masse 300 g placée sur un tapis. Elle est modélisée par un point matériel de centre d'inertie  $G$ . Le trajet parcouru par la boîte est divisé en 3 parties :

- une surface horizontale AB. Il s'agit d'un tapis roulant permettant de faire avancer la boîte de médicament à une vitesse constante  $v_0 = 0,3 \text{ m} \cdot \text{s}^{-1}$  ;
- Un plan incliné BC de longueur 1,58 m et formant un angle  $\alpha = 55^\circ$  avec l'horizontale. La valeur de la force  $F$  modélisant les frottements exercés sur la boîte de médicaments sur cette portion est  $F = 0,30 \text{ N}$  ;
- Une portion de C à D où la boîte est en chute libre, dans un panier au point D.

On néglige l'action exercée par l'air. L'intensité du champ de pesanteur terrestre vaut  $g = 9,81 \text{ N} \cdot \text{kg}^{-1}$ .

- Effectuer le bilan des actions modélisées par des forces s'exerçant sur la boîte de médicaments sur les différents trajets entre A et D.
- Que peut-on dire des forces s'exerçant sur la boîte entre les points A et B ?
- Sur le trajet BC.

Modèle CCYC : ©DNE

Nom de famille (naissance) :


(Suivi s'il y a lieu, du nom d'usage)

Prénom(s) :

N° candidat :  N° d'inscription :

(Les numéros figurent sur la convocation.)


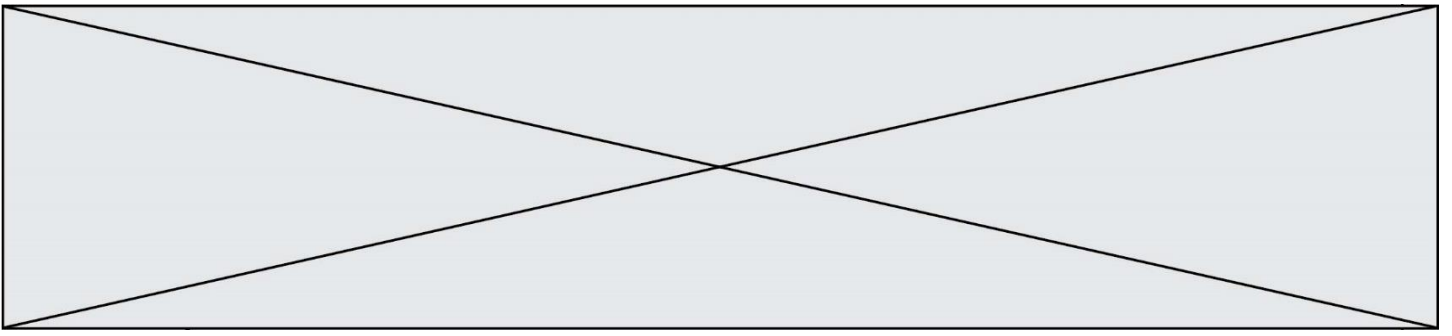
Né(e) le :  /  /



RÉPUBLIQUE FRANÇAISE

1.1

- 8.1. Schématiser, **sur l'annexe à rendre avec la copie**, les forces qui s'exercent sur la boîte de médicament, sans souci d'échelle.
  - 8.2. Donner l'expression littérale du travail de chaque force.
  - 8.3. En utilisant le théorème de l'énergie cinétique, donner l'expression littérale de la vitesse  $v_C$  de la boîte de médicaments lorsqu'il arrive en C puis calculer sa valeur.
9. La boîte est réceptionnée dans un panier situé à une hauteur  $h$  sous le point C. Indiquer, sans faire de calculs, les paramètres sur lesquels on peut jouer pour que la boîte de médicament ne soit pas déformée à la réception.





Modèle CCYC : ©DNE

Nom de famille (naissance) :

(Suivi s'il y a lieu, du nom d'usage)

Prénom(s) :

N° candidat :

N° d'inscription :



Liberté • Égalité • Fraternité  
RÉPUBLIQUE FRANÇAISE

Né(e) le :

(Les numéros figurent sur la convocation.)

1.1

## Annexe à rendre avec la copie

### Question 8.1

